

ශ්‍රී ලංකා විභාග දෙපාර්තමේන්තුව ශ්‍රී ලංකා විභාග දෙපාර්තමේන්තුව ශ්‍රී ලංකා විභාග දෙපාර්තමේන්තුව ශ්‍රී ලංකා විභාග දෙපාර්තමේන්තුව ශ්‍රී ලංකා විභාග දෙපාර්තමේන්තුව
 இலங்கைப் பரீட்சைத் திணைக்களம் இலங்கைப் பரීட்சைத் திணைக்களம் இலங்கைப் பரීட்சைத் திணைக்களம் இலங்கைப் பரීட்சைத் திணைக்களம் இலங்கைப் பரීட்சைத் திணைக்களம்
 Department of Examinations, Sri Lanka Department of Examinations, Sri Lanka Department of Examinations, Sri Lanka Department of Examinations, Sri Lanka Department of Examinations, Sri Lanka
 ශ්‍රී ලංකා විභාග දෙපාර්තමේන්තුව ශ්‍රී ලංකා විභාග දෙපාර්තමේන්තුව ශ්‍රී ලංකා විභාග දෙපාර්තමේන්තුව ශ්‍රී ලංකා විභාග දෙපාර්තමේන්තුව ශ්‍රී ලංකා විභාග දෙපාර්තමේන්තුව
 இலங்கைப் பரීட்சைத் திணைக்களம் இலங்கைப் பரීட்சைத் திணைக்களம் இலங்கைப் பரීட்சைத் திணைக்களம் இலங்கைப் பரීட்சைத் திணைக்களம் இலங்கைப் பரීட்சைத் திணைக்களம்

අධ්‍යයන පොදු සහතික පත්‍ර (උසස් පෙළ) විභාගය, 2018 අගෝස්තු
கல்ವணி பொதுத் தராதரப் பத்திர (உயர் தர)ப் பரீட்சை, 2018 ஓகஸ்த்
General Certificate of Education (Adv. Level) Examination, August 2018

2018.08.06 / 1300 - 1500

පීට විද්‍යාව I
 உயிரியல் I
 Biology I



පැය දෙකයි
இரண்டு மணித்தியாலம்
Two hours

උපදෙස්:

- * සියලු ම ප්‍රශ්නවලට පිළිතුරු සපයන්න.
- * උත්තර පත්‍රයේ නියමිත ස්ථානයේ ඔබේ විභාග අංකය ලියන්න.
- * උත්තර පත්‍රයේ පිටුපස දී ඇති උපදෙස් ද සැලකිල්ලෙන් කියවා පිළිපදින්න.
- * 1 සිට 50 තෙක් එක් එක් ප්‍රශ්නයට (1), (2), (3), (4), (5) යන පිළිතුරුවලින් නිවැරදි හෝ ඉතාමත් ගැළපෙන හෝ පිළිතුර තෝරාගෙන, එය උත්තර පත්‍රයේ පහත දැක්වෙන උපදෙස් පරිදි කිරීමක් (X) යොදා දක්වන්න.

1. අනුනත විභාජනයේ යෝග්‍යලාවේදී සිදු වන්නේ පහත සඳහන් ඒවා අතුරෙන් කුමක් ද?
 - (1) තර්කුව සෑදීම
 - (2) වර්ණදේහ සනීභවනය වීම
 - (3) න්‍යෂ්ටිකාව නොපෙනී යාම
 - (4) වර්ණදේහ සෛලය මධ්‍යයේ පෙළ ගැසීම
 - (5) න්‍යෂ්ටි පටලය බිඳ හෙළීම
2. දර්ශීය ශාක සෛලයක් ආලෝක අන්වීක්ෂයක් තුළින් නිරීක්ෂණය කිරීමේදී දැකිය නොහැක්කේ පහත සඳහන් ඒවා අතුරෙන් කුමක් ද?
 - (1) හරිතලව (2) පිෂ්ට කණකා (3) න්‍යෂ්ටිය
 - (4) මයිටොකොන්ඩ්‍රියා (5) රික්තක
3. ATP අවශ්‍ය වන්නේ පහත සඳහන් කුමන ජෛවරසායනික ක්‍රියාවලිය සඳහා ද?
 - (1) ප්‍රභාසංශ්ලේෂණයේදී ජලය ප්‍රභාවීච්ඡේදනය වීම
 - (2) පාංශු ද්‍රාවණයෙන් K⁺ මූලාකේෂ සෛල තුළට අවශෝෂණය වීම
 - (3) සෛල පටලය හරහා සජීවී සෛල තුළට ඔක්සිජන් විසරණය වීම
 - (4) කැල්සීන් වක්‍රයේදී කාබන් ඩයොක්සයිඩ් අණුවක් RuBP සමග සම්බන්ධ වීම
 - (5) C4 මාර්ගයේදී පයිරුවේට, PEP බවට පරිවර්තනය වීම
4. ජීවී දේහවල අඩංගු මූලද්‍රව්‍ය පිළිබඳ පහත සඳහන් ප්‍රකාශ අතුරෙන් නිවැරදි වන්නේ කුමක් ද?
 - (1) ස්වාභාවික ව පවතින මූලද්‍රව්‍ය 92 ක් ජීවී දේහවල ඇත.
 - (2) ජීවීන් තුළ අන්තර්ගත මූලද්‍රව්‍යවල සංයුතිය නියත නොවේ.
 - (3) ජීවීන්ගේ වියළි බරින් 0.1% කට වඩා අඩුවෙන් ඇති මූලද්‍රව්‍ය අංශුමාත්‍ර මූලද්‍රව්‍ය ලෙස සැලකේ.
 - (4) යකඩ සියලු ම ජීවීන් තුළ දක්නට ලැබෙන අධිමාත්‍ර මූලද්‍රව්‍යයකට නිදසුනකි.
 - (5) ජීවී දේහ තුළ වඩාත් ම බහුල මූලද්‍රව්‍ය හය වන්නේ කාබන්, හයිඩ්‍රජන්, ඔක්සිජන්, නයිට්‍රජන්, ෆොස්පරස් සහ මැග්නීසියම් ය.
5. ශක්තිමත් ආසන්න සහ සංසන්න බල තිබීම ජල අණුවල වැදගත් භෞතික ගුණාංගයකි. එම ගුණාංගය සමග සම්බන්ධයක් නොදක්වන්නේ ශාකවල පහත සඳහන් කුමන කෘත්‍යය ද?
 - (1) අකාණ්ඩ ශාකවල යාන්ත්‍රික සන්ධාරණය
 - (2) පසෙන් ජලය අවශෝෂණය කිරීම
 - (3) ශුන්‍යතා චලන
 - (4) ශාකය තුළ ජලය පරිවහනය වීම
 - (5) ප්‍රාක්චලාස්මය තුළ ද්‍රව්‍ය ද්‍රවණය වීම

6. පහත සඳහන් කුමන ප්‍රතිචාරයේ දක්වා ඇති සියලු ම ලක්ෂණ ත්‍රි අංක පුෂ්ප කොටස් සහිත ශාකයක දක්නට ලැබේ ද?
- (1) පත්‍රවල සමාන්තර නාරටි, බීජපත්‍ර එකක් සහිත කලල, තන්තු මුල්, සෛල පටලයේ ශාඛනය වූ ලිපිඩ
 - (2) එල තුළ පිහිටන බීජ, ප්‍රමුඛ බීජාණුශාකය, RNA පොලිමරේස් වර්ග කීපයක්, කඳේ සනාල කලාප විසිරී තිබීම
 - (3) බීජපත්‍ර එකක් සහිත කලල, ප්‍රභාසංශ්ලේෂක ජන්මාණුශාකය, කඳේ සනාල කලාප කැමිබියම් රහිත වීම, සෛල පටලයේ ශාඛනය නොවූ ලිපිඩ
 - (4) පත්‍රවල සමාන්තර නාරටි, විෂමබීජාණුකතාව, තන්තු මුල්, ෆෝමයිල් මෙතියොනීන්වලින් ආරම්භ වන ප්‍රෝටීන සංශ්ලේෂණය
 - (5) කඳේ සනාල කලාප විසිරී තිබීම, පරිපූෂ්ප, නග්න බීජ, සෛල පටලයේ ශාඛනය නොවූ ලිපිඩ
7. කයිසා නොදරන ඒකසෛලීය ප්‍රොටිස්ටාවෙකු
- (1) පෙනිසිලින්වලට සංවේදී විය හැකි ය. (2) ගිඳුකොසැන්තින් දැරිය හැකි ය.
 - (3) විෂමපෝෂී විය හැකි ය. (4) රොඩොලීටා වංශයට අයත් විය හැකි ය.
 - (5) ෆයිකොසයනින් දැරිය හැකි ය.
8. ජීවින්ගේ වර්ගීකරණය පිළිබඳ පහත සඳහන් ප්‍රකාශ අතුරෙන් නිවැරදි වන්නේ කුමක් ද?
- (1) හොඳින් සංවිධානය වූ න්‍යෂ්ටියක් නොදරන බැවින් වයිරස කිසිම රාජධානියකට අයත් නොවේ.
 - (2) ප්‍රොටිස්ටා යනු විවිධ පරිණාමික සම්භවයන් සහිත ජීවින් අන්තර්ගත ස්වාභාවික රාජධානියකි.
 - (3) ගණයක් තුළ දැකිය හැකි පොදු ලක්ෂණ සංඛ්‍යාව, විශේෂයක් තුළ දැකිය හැකි පොදු ලක්ෂණ සංඛ්‍යාවට වඩා වැඩිය.
 - (4) ශාක රාජධානිය මුලින් ම හඳුනාගත්තේ කැරොලස් ලිනේයස් ය.
 - (5) අධිරාජධානි තුනේ වර්ගීකරණය හඳුන්වා දුන්නේ රොබට් විටෙකර් ය.
9. ග්‍රාහිකා දරන, උදරීය භාදයක් නොදරන, ද්විපාර්ශ්වික සමමිතික සිලෝමික සතෙකුට තිබිය හැක්කේ පහත සඳහන් ඒවායින් කුමක් ද?
- (1) කණ්ටක (2) ස්නායු වලය (3) ස්පර්ශක (4) ජලක්ලෝම (5) අනුපක්ෂක
10. මිනිසාගේ ජීරණ පද්ධතිය පිළිබඳ පහත සඳහන් ප්‍රකාශ අතුරෙන් නිවැරදි වන්නේ කුමක් ද?
- (1) ආමාශයේ අන්වායාම පේශි පිහිටනුයේ වෘත්තාකාර පේශි සහ අධ්‍යශ්ලේෂ්මලකය අතර ය.
 - (2) ආමාශයක පුෂ ප්‍රාවය වීම ප්‍රත්‍යානුවේගී ස්නායු පද්ධතිය මගින් උත්තේජනය වේ.
 - (3) ක්ෂුද්‍රාන්ත්‍රයේ ක්ෂුද්‍ර අංශුලිකා දෙකක් අතර අවකාශය ලිබර්කුන් ලෙන් ලෙස හැඳින් වේ.
 - (4) ග්‍රහණයට පිත නිකුත් කිරීම සඳහා පිත්තාශය සංකෝචනය වීම සිතුවෙන් මගින් උත්තේජනය වේ.
 - (5) ක්ෂුද්‍රාන්ත්‍රයේ ඇති ක්ෂුද්‍ර අංශුලිකා ආලෝක අන්වීක්ෂයේ අව බලය යටතේ නිරීක්ෂණය කළ හැකි ය.
11. මිනිසාගේ ආශ්වාස ප්‍රශ්වාස කිරීම යාමනය පිළිබඳ පහත සඳහන් ප්‍රකාශ අතුරෙන් නිවැරදි වන්නේ කුමක්ද?
- (1) එය සුප්‍රමිතා ශීර්ෂකයේ සහ හයිපොතැලමසේ පිහිටි ශ්වසන මධ්‍යස්ථාන මගින් යාමනය වේ.
 - (2) සුප්‍රමිතා ශීර්ෂකයේ පිහිටි ආශ්වාස මධ්‍යස්ථානය උත්තේජනය වීම නිසා බාහිර අන්තර්පර්ශුක පේශිවලට ස්නායු ආවේග සැපයේ.
 - (3) ධමනි රුධිරයේ pH අගය වැඩිවීම නිසා මහා ධමනියේ රසායන ප්‍රතිග්‍රාහක උත්තේජනය වේ.
 - (4) පෙනහැලිවල ප්‍රසාර ප්‍රතිග්‍රාහක උත්තේජනය වීම නිසා ප්‍රශ්වාස මධ්‍යස්ථානය නිෂේධනය වේ.
 - (5) ප්‍රශ්වාස මධ්‍යස්ථානය උත්තේජනය වීම නිසා මහා ප්‍රාචීරය සංකෝචනය වේ.
12. ශාක තුළ ජලය සහ බිණිජ පරිවහනය වීම
- (1) දෙදිශාවට ම සිදු වේ. (2) උත්ස්වේදනයේ උපකාරීත්වයකින් තොරව සිදු වේ.
 - (3) සක්‍රීය ක්‍රියාවලියකි. (4) පීඩන ප්‍රවාහ කල්පිතය මගින් පැහැදිලි කෙරේ.
 - (5) සෘණ පීඩන අනුක්‍රමණයක් මස්සේ සිදු වේ.
13. P සහ Q ලෙස හඳුන්වනු ලබන ශාක සෛල දෙකක ලක්ෂණ පහත දැක්වේ.
- P සෛලය: සන ද්විතීයික සෛල බිත්තිය, සමවිෂ්කම්භාකාර වීම, සෛල බිත්තියේ කු තිබීම, විශාල කුහරයක් තිබීම
- Q සෛලය: සන ද්විතීයික සෛල බිත්තිය, සමවිෂ්කම්භාකාර නොවීම, සෛල බිත්තියේ කු නොතිබීම, පටු කුහරයක් තිබීම
- P සහ Q සෛල පිළිවෙළින්
- (1) සහවර සෛලයක් සහ වාහිනී ඒකකයක් වේ.
 - (2) පෙනේර නල ඒකකයක් සහ වාහකාභයක් වේ.
 - (3) වාහිනී ඒකකයක් සහ දෘඪස්තර සෛලයක් වේ.
 - (4) වාහිනී ඒකකයක් සහ වාහකාභයක් වේ.
 - (5) වාහකාභයක් සහ වාහිනී ඒකකයක් වේ.

14. සතුන්ගේ සංසරණ පද්ධති පිළිබඳ පහත සඳහන් ප්‍රකාශ අතුරෙන් නිවැරදි වන්නේ කුමක්ද?

- (1) උදරීය හෘදයක් සහිත විවෘත සංසරණ පද්ධතියක් මොලස්කාවන්ට ඇත.
- (2) නෙමටෝඩාවන්ට ඇත්තේ සංවෘත සංසරණ පද්ධතියකි.
- (3) හිමොඑරික්‍රිත් යනු ක්‍රිස්ටේෂියාවන්ගේ රුධිර වර්ණකයයි.
- (4) මිනිස් හෘදයේ ගතිකරය AV ගැටයයි.
- (5) මිනිස් හෘදයේ මයිටර් කපාටය පිහිටන්නේ වම් කර්ණිකාව සහ වම් කෝෂිකාව අතර ය.

15. මිනිසාගේ වැරෝලී සේකුව

- (1) රුධිර පීඩනය යාමනය කිරීම සඳහා දායක වේ.
- (2) සංවේදක තොරතුරු හඳුනාගැනීම සඳහා දායක වේ.
- (3) පෙනහැලි වාතනය වීම යාමනය කිරීම සඳහා දායක වේ.
- (4) හෘත් ස්පන්දන ශීඝ්‍රතාව යාමනය කිරීම සඳහා දායක වේ.
- (5) අක්ෂි සේශිවල ප්‍රතික චලන යාමනය කිරීම සඳහා දායක වේ.

16. මිනිස් කන පිළිබඳ නිවැරදි ප්‍රකාශය තෝරන්න.

- (1) එහි සාමාන්‍ය ශ්‍රවණ පරාසය 40 - 20 000 Hz වේ.
- (2) නිභාතිය, අණධාකාර ගවාක්ෂයට සම්බන්ධ වේ.
- (3) කන් පෙත්ත පාරදෘශ්‍ය කාට්ලේජවලින් තැනී ඇත.
- (4) පටලමය ගඟණය පරිවසාවලින් පිරී ඇත.
- (5) කෝර්ටි අවයවය ශ්‍රවණ කෘත්‍යය හා සම්බන්ධ ය.

17. මිනිසාගේ ප්‍රත්‍යානුවේගී උත්තේජන

- (1) ඇසේ කණිනිකාව විස්තාරණය කරයි. (2) හෘත් ස්පන්දන ශීඝ්‍රතාව අඩු කරයි.
- (3) දහදිය ස්‍රාවය වීම වැඩි කරයි. (4) ශ්වාසනාලිකා විස්තාරණය කරයි.
- (5) අක්මාවේදී ග්ලයිකොජන් ග්ලූකෝස් බවට පරිවර්තනය කිරීම වැඩි කරයි.

18. මිනිස් නියුරෝනයක ක්‍රියා විභවය පිළිබඳ නිවැරදි ප්‍රකාශය තෝරන්න.

- (1) ක්‍රියා විභවයේ ප්‍රතිධ්‍රැවණ කලාවේදී K^+ නියුරෝනය තුළට ගමන් කරයි.
- (2) ක්‍රියා විභවයක් පවත්නා කාලය මිලිතත්පර 5 ක් පමණ වේ.
- (3) ක්‍රියා විභවයේ විධ්‍රැවණ කලාවේදී Na^+ නියුරෝනයෙන් පිටතට ගමන් කරයි.
- (4) එය ස්නායු සෛල පටලයේ ධ්‍රැවීයතාවේ අනිත්‍ය ප්‍රතිවර්තනයකි.
- (5) එක් ක්‍රියා විභවයකට පසුව වහාම තවත් ක්‍රියා විභවයක් ඇති විය හැකි ය.

19. මානව හෝර්මෝන පිළිබඳ නිවැරදි ප්‍රකාශය තෝරන්න.

- (1) ඉන්සියුලින් ස්‍රාවය වන්නේ ලැන්ගර්හැන් දීපිකාවල α -සෛල මගිනි.
- (2) අධිවෘක්ක බාහිකයෙන් ස්‍රාවය කරනු ලබන ප්‍රධාන ග්ලූකෝකෝර්ටිකොයිඩය ඇල්ඩෝස්ටෙරෝන් ය.
- (3) පැරාතයිරොයිඩ හෝර්මෝනය රුධිර කැල්සියම් මට්ටම අඩු කරයි.
- (4) තයිරොක්සින් දේහයේ තාප නිෂ්පාදනය වැඩි කරයි.
- (5) ඉන්හිබින්, FSH ස්‍රාවය වීම උත්තේජනය කරයි.

20. පර්ව දික්වීම උත්තේජනය කරන සහ බීජ ප්‍රරෝහණයේදී එන්සයිම සක්‍රිය කරන ශාක වර්ධක ද්‍රව්‍යය තෝරන්න.

- (1) එනිලින් (2) ඇබ්සිසික් අම්ලය (3) සයිටොකයිනින් (4) ගිබෙරලින් (5) ඔක්සින්

21. බහිස්සාවය පිළිබඳ පහත සඳහන් ප්‍රකාශ අතුරෙන් නිවැරදි වන්නේ කුමක් ද?

- (1) නෙමටෝඩාවන්ට ඇත්තේ අන්වායාම නාල සහිත සරල බහිස්සාවී පද්ධතියකි.
- (2) වෘක්කිකා යනු ඇනලිඩාවන්ගේ පමණක් ඇතිය හැකි බහිස්සාවී ව්‍යුහ වේ.
- (3) මිනිසුන්ගේ යූරියා සංශ්ලේෂණය සිදු වන ප්‍රධාන ස්ථානය වෘක්කයයි.
- (4) ජල සංරක්ෂණය උපරිම වන්නේ නයිට්‍රජනීය බහිස්සාවී ඵලය ලෙස යූරියා නිපදවන විට ය.
- (5) කරදිය අස්ථික මත්ස්‍යයින්ගේ ප්‍රධාන නයිට්‍රජනීය බහිස්සාවී ඵලය ඇමෝනියා ය.

22. මානව ක්ෂීරයේ හොමිඩිමට ඉඩ ඇත්තේ පහත සඳහන් ඒවායින් කුමක් ද?

- (1) විටමින් B_{12} සහ විටමින් D (2) කේසීන් (3) ගැලැක්ටෝස්
- (4) මේද අම්ල (5) කැල්සියම්

23. මානව පර්ශු පිළිබඳ නිවැරදි ප්‍රකාශය තෝරන්න.

- (1) ඒවා කෙටි වක් ඩූ අස්ථි ය. (2) පර්ශුවල උත්තර පෘෂ්ටයේ ගැඹුරු ඇලියක් ඇත.
- (3) පර්ශු යුගල් 14 ක් ඇත. (4) ප්‍රථම පර්ශු යුගල් අට උරකලය සමග කෙලින් ම සන්ධානය වේ.
- (5) සියලු ම පර්ශු අපර දෙසින් කශේරුව සමග සන්ධානය වේ.

24. මානව ඉහළ ගාත්‍රය පිළිබඳ පහත සඳහන් ප්‍රකාශ අතුරින් නිවැරදි වන්නේ කුමක් ද?

- (1) දේහයේ ඇති දිග ම සහ බර ම අස්ථිය ප්‍රගන්ධාස්ථියයි.
- (2) අරාස්ථිය, අන්වරාස්ථියට වඩා දිගු ය.
- (3) අරාස්ථියේ හිස අන්වරාස්ථිය සමග සන්ධානය වේ.
- (4) මැණික් කටුව තැනී ඇත්තේ හස්තකුරුව හතකිනි.
- (5) ප්‍රගන්ධාස්ථියේ විදුර කෙළවර සන්ධානය වන්නේ අන්වරාස්ථිය සමග පමණි.

25. මිනිසුන්ගේ ඉන්හිබිත් සුවය කරනු ලබන්නේ,

- (1) පුරස්ථ ග්‍රන්ථි මගිනි. (2) අපිවෘෂණය මගිනි. (3) ශුක්‍ර ආශයිකා මගිනි.
- (4) වෘෂණ මගිනි. (5) කුපර් ග්‍රන්ථි මගිනි.

26. ස්පර්ශාවර්තනය පිළිබඳ නිවැරදි ප්‍රකාශය තෝරන්න.

- (1) එය සමහර ශාකවල පුංජන්මාණුවල දැකිය හැකි ය.
- (2) ඒ සඳහා ඔක්සිත දායක නොවේ.
- (3) එහිදී ශාකයේ විවිධ කොටස්වල අසමාකාර දික්වීම් සිදු විය හැකි ය.
- (4) පරාග නාලය විමිබය දෙසට වර්ධනය වීම ඒ සඳහා නිදසුනකි.
- (5) ඒ සඳහා සයිවොකයින් දායක වේ.

27. සපුෂ්ප ශාකයක පුංජන්මාණුශාකය වන්නේ

- (1) පරාග කුටීරයයි. (2) ක්ෂුද්‍රවීජාණුවයි. (3) ශුක්‍රාණු සෛලයයි.
- (4) ක්ෂුද්‍රවීජාණු මාතෘ සෛලයයි. (5) පරාග කණිකාවයි.

28. කිසියම් විශේෂයක රතු මල් දරන ශාකයක් එම විශේෂයේම සුදු මල් දරන ශාකයක් සමග මුහුම් කළ විට ලැබුණු දුහිත ශාක සියල්ල ම රෝස පැහැති මල් දරන ඒවා විය. මෙම ආකාරයේ ප්‍රවේණියක් ඇති වන්නේ,

- (1) මෙන්ඩලිය ප්‍රවේණිය නිසා ය. (2) බහුජාන ප්‍රවේණිය නිසා ය. (3) සහප්‍රමුඛතාව නිසා ය.
- (4) අසම්පූර්ණ ප්‍රමුඛතාව නිසා ය. (5) බහුඇලීලතාව නිසා ය.

29. මෙම ප්‍රශ්නය පදනම් වන්නේ පහත දී ඇති හිස්තැන් තුනක් සහිත ප්‍රකාශය මත ය.

"..... සිදු වන වැරදිවල ප්‍රතිඵලයක් ලෙස ඇති වන නිසා ජානවල"
ලෙස හඳුන්වනු ලබන ප්‍රභේද ඇති වේ."

ඉහත ප්‍රකාශයේ හිස්තැන් පිරවීම සඳහා වඩාත් ම සුදුසු පද නිවැරදි අනුපිළිවෙළින් දැක්වෙන්නේ පහත සඳහන් කුමක් මගින් ද?

- (1) DNA ප්‍රතිවලිත විමේදී, ප්‍රභේදන, ප්‍රවේණිදර්ශ
- (2) පිටපත් කිරීමේදී, විකෘති, ඇලීල
- (3) DNA ප්‍රතිවලිත විමේදී, විකෘති, ඇලීල
- (4) ප්‍රෝටීන සංශ්ලේෂණයේදී, ප්‍රභේදන, විකෘත
- (5) උෞනන විභාජනයේදී, විකෘති, විෂමයුග්මකයින්

30. ටර්නර් සහලක්ෂණය හොඳින් ම විදහා දැක්වෙනුයේ පහත සඳහන් කුමන පුද්ගලයාගේ ද?

- (1) X වර්ණදේහයේ ජාන විකෘතියක් සහිත ව උපන් ගැහැණු දරුවෙක්
- (2) Y වර්ණදේහයේ ජාන විකෘතියක් සහිත ව උපන් පිරිමි දරුවෙක්
- (3) එක් X වර්ණදේහයක් පමණක් සහිත ව උපන් ගැහැණු දරුවෙක් හෝ පිරිමි දරුවෙක්
- (4) එක් X වර්ණදේහයක් පමණක් සහිත ව උපන් ගැහැණු දරුවෙක්
- (5) අතිරේක Y වර්ණදේහයක් සහිත ව උපන් පිරිමි දරුවෙක්

31. ප්‍රවේණික ව විකරණය කරන ලද ජීවියෙක් එම විශේෂයේම වෙනත් සාමාජිකයන්ගෙන් වෙනස් වන්නේ,

- (1) එම ජීවියා අතිරේක වර්ණදේහයක් දරන බැවිනි.
- (2) එම ජීවියා වෙනත් ජීවියෙකුගේ ජානයක් හෝ ජාන දරන බැවිනි.
- (3) එම ජීවියා වෙනත් ජීවියෙකු ක්ලෝනීකරණය කිරීම මගින් ජනනය කර ඇති බැවිනි.
- (4) එම ජීවියාට එම විශේෂයේ අනිත් සාමාජිකයන් සමග අන්තර් අභිජනනයෙන් සරු ජනිතයකු නිපදවිය නොහැකි බැවිනි.
- (5) එම ජීවියාගේ ජාන ප්‍රකාශනය හොඳින් යාමනය වී ඇති බැවිනි.

39. සනීපාරක්ෂක හු පිරවීම් භාවිතය පිළිබඳ පහත සඳහන් ප්‍රකාශ අතුරෙන් නිවැරදි වන්නේ කුමක් ද?
- (1) ක්‍රියාකරවීමේ වියදම අධික බැවින් එය හොඳ තේරීමක් නොවේ.
 - (2) එය ඉඩම් ගොඩකිරීම සඳහා තාගරික සහ අපද්‍රව්‍ය තෙක්බිම්වලට හෙලීම හා සම්බන්ධ ය.
 - (3) එය සහ අපද්‍රව්‍යවල පරිමාව අඩු කරන ක්‍රමයකි.
 - (4) හුගත ජල මට්ටම අඩු බැවින් බොහෝ ප්‍රදේශවල එය සීමා වී ඇත.
 - (5) එහිදී අපද්‍රව්‍ය විශෝජනය වීමක් සිදු නොවේ.
40. ආහාර පරිරක්ෂණය පහත සඳහන් මූලධර්ම මත පදනම් වේ.
- a - ආහාර තුළට ක්ෂුද්‍රජීවීන් ඇතුළුවීම වැළැක්වීම
 - b - ආහාරවල ක්ෂුද්‍රජීවීන්ගේ වර්ධනය සහ ක්‍රියාකාරීත්වය වැළැක්වීම
 - c - ආහාරවල ක්ෂුද්‍රජීවීන් ඉවත් කිරීම හෝ නැසීම
- ආහාර ටින් කිරීම ඉහත සඳහන් කුමන මූලධර්ම මත පදනම් වේ ද?
- (1) a, b සහ c (2) a සහ b පමණි. (3) a සහ c පමණි. (4) b සහ c පමණි. (5) c පමණි.

● අංක 41 සිට 50 තෙක් ප්‍රශ්නවල දී ඇති ප්‍රතිචාර අතුරෙන් එකක් හෝ ඊට වැඩි ගණනක් හෝ නිවැරදි ය. කවර ප්‍රතිචාරය/ප්‍රතිචාර නිවැරදි ද යන්න පළමුවෙන් ම විකීර්ණ කර ගන්න. ඉන් පසු නිවැරදි අංකය තෝරන්න.

- A, B, D යන ප්‍රතිචාර පමණක් නිවැරදි නම් 1
 A, C, D යන ප්‍රතිචාර පමණක් නිවැරදි නම් 2
 A සහ B යන ප්‍රතිචාර පමණක් නිවැරදි නම් 3
 C සහ D යන ප්‍රතිචාර පමණක් නිවැරදි නම් 4
 වෙනත් කිසියම් ප්‍රතිචාරයක් හෝ ප්‍රතිචාර සංයෝජනයක් හෝ නිවැරදි නම් 5

උපදෙස් සැකවත්				
1	2	3	4	5
A, B, D නිවැරදි ය.	A, C, D නිවැරදි ය.	A, B නිවැරදි ය.	C, D නිවැරදි ය.	වෙනත් කිසියම් ප්‍රතිචාරයක් හෝ ප්‍රතිචාර සංයෝජනයක් හෝ නිවැරදි ය.

41. ජෛව සංවිධානයේ ධූරාවලි මට්ටම් කීපයක් සඳහා නිදසුන් නිවැරදි අනුපිළිවෙලින් දක්වන්නේ පහත සඳහන් ඒවා අතුරෙන් කුමක් ද?/කුමන ඒවා ද?
- (A) DNA, න්‍යෂ්ටිය, ජෛව තන්තුව, වක්‍රාකාර ජෛෂි, ආමාශය
 - (B) කපුටා, කපුටු රංචුව, පක්ෂී රැන, ගෙවත්ත, ජෛවගෝලය
 - (C) නියුරෝලොමාව, අක්සනය, නියුරෝනය, මොළය, ස්නායු පද්ධතිය
 - (D) ඇමයිනෝ අම්ල, අන්තාජලාස්ථිය ජාලිකාව, නියුට්‍රොෆිල, රුධිරවාහිනී, රුධිරය
 - (E) ගෙම්බා, ඇම්බ්ලියා, කෝඩේටා, ඇනිමාලියා, යුකැරියා
42. ග්ලයිකොලිපිඩ සංශ්ලේෂණය කරනු ලබන්නේ පහත සඳහන් කුමන ඉන්ද්‍රියකාව/ඉන්ද්‍රියිකා මගින් ද?
- (A) ලයිසොසෝමය (B) ක්ෂුද්‍රදේහය (C) ගොල්ගී සංකීර්ණය
 - (D) අන්තාජලාස්ථිය ජාලිකාව (E) මයිටොකොන්ඩ්‍රියම
43. ශාක පටක තුළ පමණක් දක්නට ලැබෙන්නේ පහත සඳහන් ඒවා අතුරෙන් කුමක් ද?/කුමන ඒවා ද?
- (A) ග්ලයොක්සිසෝම (B) ප්ලාස්මඩෙස්මටා (C) ලයිසොසෝම
 - (D) පෙරොක්සිසෝම (E) තද සන්ධි
44. ප්‍රධාන බහිස්සාවී ද්‍රව්‍යය යූරියා වන වලතාපී සතෙකු පහත සඳහන් කුමන ව්‍යුහය/ව්‍යුහ දැරිය හැකි ද?
- (A) ජලක්ලෝම (B) කුටීර හතරක් සහිත හෘදය (C) ගෙල
 - (D) පෙනහැලි (E) හොට
45. මිනිසාගේ ජීරණ අන්තඵල අවශෝෂණය පිළිබඳ ව නිවැරදි වන්නේ පහත සඳහන් කුමන ප්‍රකාශය ද?/ප්‍රකාශ ද?
- (A) ග්ලූකෝස් ක්ෂුද්‍රාන්ත්‍රයේදී සක්‍රීය ව අවශෝෂණය කෙරේ.
 - (B) ක්ෂුද්‍රාන්ත්‍ර අංගුලිකාවල අපිච්ඡද සෛල තුළදී ට්‍රයිග්ලිසරයිඩ සංශ්ලේෂණය කෙරේ.
 - (C) ක්ෂුද්‍රාන්ත්‍ර අංගුලිකාවල රුධිර කේශනාලිකා තුළට ඇමයිනෝ අම්ල විසරණය මගින් අවශෝෂණය කෙරේ.
 - (D) මේද අම්ල සහ ග්ලිසරෝල් ක්ෂුද්‍රාන්ත්‍ර අංගුලිකාවල වසා නාල තුළට අවශෝෂණය කෙරේ.
 - (E) ක්ෂුද්‍රාන්ත්‍ර අංගුලිකාවල අපිච්ඡද සෛල තුළට මෝල්ටෝස් සක්‍රීය ව අවශෝෂණය කෙරේ.

46. මිනිස් රක්තාණු පිළිබඳ පහත සඳහන් ප්‍රකාශ අතුරෙන් නිවැරදි වන්නේ කුමක් ද?/කුමන ඒවා ද?
 (A) ඒවා රතු ඇට මිදුලු තුළ නිපද වේ.
 (B) ඒවා ඔක්සිජන් සහ කාබන් ඩයොක්සයිඩ් යන දෙක ම පරිවහනය කරයි.
 (C) ඒවයේ විෂ්කම්භය 10 μm පමණ වේ.
 (D) ඒවා ප්ලීභාවේදී විනාශ කෙරේ.
 (E) නිරෝගී, පරිණත පුරුෂයෙකුගේ රක්තාණු සංඛ්‍යාවෙහි සාමාන්‍ය පරාසය 3.8 - 5.8 million/ mm^3 වේ.
47. මිනිස් වෘක්කාණුවේ අවිදුර සංවලිත නාලිකාවේදී සක්‍රීය ව ප්‍රතිශෝෂණය කරනු ලබන්නේ පහත සඳහන් ඒවා අතුරෙන් කුමක් ද?/කුමන ඒවා ද?
 (A) Na^+ (B) K^+ (C) ඇමයිනෝ අම්ල (D) ග්ලූකෝස් (E) සුරියා
48. කංකාල පේශි පිළිබඳව පහත සඳහන් ප්‍රකාශ අතුරෙන් නිවැරදි වන්නේ කුමක් ද? කුමන ඒවා ද?
 (A) ඒවයේ හිඳුස් සන්ධි ඇත.
 (B) ඒවා පහසුවෙන් විඛාවට පත් වේ.
 (C) ඒවයේ එක් එක් කන්තුවේ සාකොමියර කීපයක් බැගින් ඇත.
 (D) ඒවා විනන්‍ය ය.
 (E) ඒවයේ තන්තු කෙටි, සිලින්ඩරාකාර, ශාඛනය නොවූ ඒවා වේ.
49. මානව ගර්භාෂය පිළිබඳ පහත සඳහන් ප්‍රකාශ අතුරෙන් නිවැරදි වන්නේ කුමක් ද?/ කුමන ඒවා ද?
 (A) මයොමෙට්‍රියමේ සංකෝචන රිස්ට්‍රජන් සහ ප්‍රෙජේස්ටරෝන් යන දෙක ම මගින් උත්තේජනය වේ.
 (B) ගර්භාෂයේ සුව, හුණු පෝෂණය කරයි.
 (C) මයොමෙට්‍රියමේ ඔක්සිටේසින් ප්‍රතිග්‍රාහක ඇති විම රිස්ට්‍රජන් මගින් උත්තේජනය වේ.
 (D) ගර්භාෂය තුළ කලලය අධිරෝපණය වීම සංසේචනයෙන් පසු හත්වැනි දිනයේදී පමණ ආරම්භ වේ.
 (E) එන්ඩොමෙට්‍රියම ස්තරීකූත ශල්කමය අපිච්ඡද සෛලවලින් තැනී ඇත.
50. සැවානා, විශලී මිශ්‍ර සදාහරිත වනාන්තර, නිවර්තන වැසි වනාන්තර සහ කඳුකර වනාන්තර යන එක එකෙහි ලක්ෂණයක් බැගින් නිවැරදි අනුපිළිවෙලින් දක්වන්නේ පහත සඳහන් ඒවායින් කුමක් ද?/ කුමන ඒවා ද?
 (A) ගින්නට ප්‍රතිරෝධී ගස්, පැහැදිලි ස්තරීභවනයක් නොතිබීම, සන්තතික වියන, සදාහරිත ගස්
 (B) සදාහරිත ගස්, පහනශීලී ශාක, පැහැදිලි ස්තරීභවනය, ඇඹරුණු කඳන් සහිත ගස්
 (C) කෘණ, සදාහරිත ගස්, පැහැදිලි ස්තරීභවනයක් නොතිබීම, ශුෂ්කරූපී ශාක
 (D) කෘණ, ගින්නට ප්‍රතිරෝධී ගස්, සදාහරිත ගස්, පැහැදිලි ස්තරීභවනයක් නොතිබීම
 (E) සදාහරිත ගස්, පැහැදිලි ස්තරීභවනයක් නොතිබීම, කුරු ගස්, ඇඹරුණු කඳන් සහිත ගස්

AL/2018/09/S-II

සියලු ම හිමිකම් ඇවිරිණි / முழுப் பதிப்புரிமையுடையது / All Rights Reserved

ශ්‍රී ලංකා විභාග දෙපාර්තමේන්තුව ශ්‍රී ලංකා විභාග දෙපාර්තමේන්තුව ශ්‍රී ලංකා විභාග දෙපාර්තමේන්තුව ශ්‍රී ලංකා විභාග දෙපාර්තමේන්තුව ශ්‍රී ලංකා විභාග දෙපාර්තමේන්තුව
 இலங்கைப் பரீட்சைத் திணைக்களம் இலங்கைப் பரීட்சைத் திணைக்களம் இலங்கைப் பரීட்சைத் திணைக்களம் இலங்கைப் பரීட்சைத் திணைக்களம் இலங்கைப் பரීட்சைத் திணைக்களம்
 Department of Examinations, Sri Lanka Department of Examinations, Sri Lanka Department of Examinations, Sri Lanka Department of Examinations, Sri Lanka Department of Examinations, Sri Lanka
 ශ්‍රී ලංකා විභාග දෙපාර්තමේන්තුව ශ්‍රී ලංකා විභාග දෙපාර්තමේන්තුව ශ්‍රී ලංකා විභාග දෙපාර්තමේන්තුව ශ්‍රී ලංකා විභාග දෙපාර්තමේන්තුව ශ්‍රී ලංකා විභාග දෙපාර්තමේන්තුව
 இலங்கைப் பரීட்சைத் திணைக்களம் இலங்கைப் பரීட்சைத் திணைக்களம் இலங்கைப் பரීட்சைத் திணைக்களம் இலங்கைப் பரීட்சைத் திணைக்களம் இலங்கைப் பரීட்சைத் திணைக்களம்
 Department of Examinations, Sri Lanka Department of Examinations, Sri Lanka Department of Examinations, Sri Lanka Department of Examinations, Sri Lanka Department of Examinations, Sri Lanka

අධ්‍යයන සහ දේශපාලන පත්‍ර (උසස් පෙළ) විභාග, 2018 අගෝස්තු
கல்விப் பொதுத் தராதரப் பத்திர (உயர் தரப் பரீட்சை, 2018 அகஸ்து)
General Certificate of Education (Adv. Level) Examination, August 2018

පීච විද්‍යාව II
உயிரியல் II
Biology II

09 S II

2018.08.07 / 1300 - 1610

පැය තුනයි
மூன்று மணித்தியாலம்
Three hours

අමතර කියවීමේ කාලය - මිනිත්තු 10 යි
மேலதிக வாசிப்பு நேரம் - 10 நிமிடங்கள்
Additional Reading Time - 10 minutes

අමතර කියවීමේ කාලය ප්‍රශ්න පත්‍රය කියවා ප්‍රශ්න තෝරා ගැනීමටත් පිළිතුරු ලිවීමේදී ප්‍රමුඛත්වය දෙන ප්‍රශ්න සංවිධානය කර ගැනීමටත් යොදාගන්න.

විභාග අංකය :

උපදෙස් :

- * මෙම ප්‍රශ්න පත්‍රය පිටු 9කින් සහ ප්‍රශ්න 10කින් සමන්විත ය.
- * මෙම ප්‍රශ්න පත්‍රය A සහ B යනුවෙන් කොටස් දෙකකින් සමන්විත වන අතර කොටස් දෙකට ම නියමිත කාලය පැය තුනකි.

A කොටස - චක්‍රගත රචනා (පිටු අංක 2 - 8)

- * ප්‍රශ්න හතරට ම පිළිතුරු මෙම ප්‍රශ්න පත්‍රයේ ම සපයන්න.
- * ඔබේ පිළිතුරු, ප්‍රශ්න පත්‍රයේ ඉඩ සලසා ඇති තැන්වල ලිවිය යුතු ය. මෙම ඉඩ ප්‍රමාණය පිළිතුරු ලිවීමට ප්‍රමාණවත් බව ද දීර්ඝ පිළිතුරු බලාපොරොත්තු නො වන බව ද සලකන්න.

B කොටස - රචනා (පිටු අංක 9)

- * ප්‍රශ්න හතරකට පමණක් පිළිතුරු සපයන්න. මේ සඳහා සපයනු ලබන කඩදාසි පාවිච්චි කරන්න. සම්පූර්ණ ප්‍රශ්න පත්‍රයට නියමිත කාලය අවසන් වූ පසු A සහ B කොටස් එක් පිළිතුරු පත්‍රයක් වන සේ A කොටස උඩින් තිබෙන පරිදි අමුණා විභාග ශාලාවේ පිහිටි තාර දෙන්න.
- * ප්‍රශ්න පත්‍රයේ B කොටස පමණක් විභාග ශාලාවෙන් පිටතට ගෙන යාමට ඔබට අවසර ඇත.

පරීක්ෂකවරුන්ගේ ප්‍රයෝජනය සඳහා පමණි.

කොටස	ප්‍රශ්න අංකය	ලැබූ ලකුණු
A	1	
	2	
	3	
	4	
B	5	
	6	
	7	
	8	
	9	
	10	
එකතුව		
ප්‍රතිශතය		

අවසාන ලකුණු

ඉලක්කමෙන්	
අකුරෙන්	

සංකේත අංක

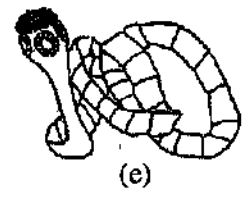
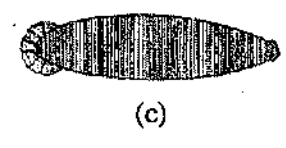
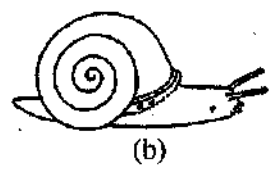
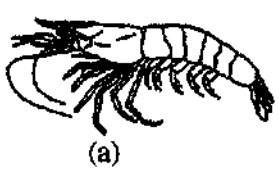
උත්තර පත්‍ර පරීක්ෂක 1	
උත්තර පත්‍ර පරීක්ෂක 2	
පරීක්ෂා කළේ :	
අධීක්ෂණය කළේ :	

සම මාර්ග කිරීමේ හෝ ලිපිකරණය

(b) ඉහත (iii) (a) ට පිළිතුර ලෙස සඳහන් කළ ගුණාංගය සහිත සිනි හඳුනා ගැනීම සඳහා භාවිත කරනු ලබන සරල විද්‍යාගාර පරීක්ෂාවක් විස්තර කරන්න.

.....
.....
.....
.....

(C) (i) සනාල පටක දරන, බීජ නොදරන, සම්බීජාණුක ශාක දෙකක ගණ නාම සඳහන් කරන්න.



ඉහත (a) - (f) රූප සටහන්වල දක්වා ඇති සතුන් වෙන් කර හඳුනා ගැනීම සඳහා සුදුසු අංක සහ අක්ෂර භාවිත කර පහත දී ඇති දෙබෙදුම් සුවිස පුරවන්න.

- (1) ග්‍රාහිකා ඇත.
 ග්‍රාහිකා නැත.
- (2) චූෂකර ඇත.
 චූෂකර නැත.
- (3) අංකුශ ඇත.
 අංකුශ නැත.
- (4) බණ්ඩනය වූ දේහය
 බණ්ඩනය නො වූ දේහය
- (5) විශාල පාදයක් තිබීම
 විශාල පාදයක් නො තිබීම

(iii) පසැඟිල්ලත් වැනි සමහර එකයිනොඩර්මේටාවන්ට පෙට්සලේරියා යන නමින් හඳුන්වනු ලබන ව්‍යුහ ඇත. පෙට්සලේරියාවක බාහිර පෙනුම අඳින්න.

.....
.....
.....

(iv) එකයිනොඩර්මේටා වංශයේ පෙට්සලේරියා නොමැති වර්ග දෙකක් නම් කරන්න.



2. (A) (i) සිලෝන්ටරේටාවන් සහ පැතලි පණුවන් හැර, අසම්පූර්ණ ආහාර මාර්ගයක් දරන සතුන් ඇතුළත් වර්ගයක් නම් කරන්න.

(ii) (a) රේත්‍රිකාව යනු කුමක් ද?

(b) රේත්‍රිකාවේ ප්‍රයෝජනය කුමක් ද?

(iii) (a) සමහර ශාක කෘමිහක්ෂක වන්නේ ඇයි?

(b) කෘමිහක්ෂක ජලජ ශාකයක ගණ නාමය සඳහන් කරන්න.

(iv) (a) බාහිරයේ සිට මිනිසාගේ ගර්භ දක්වා වාතය ගමන් ගන්නා මාර්ගය නිවැරදි අනුපිළිවෙලින් ලියන්න.

(b) මිනිස් ශ්වසන මාර්ගයේ ඇති කලස් සෛලවල කාර්යය කුමක් ද?

(v) (a) ශ්වසන චක්‍රය යනු කුමක් ද?

(b) විවේකීව සිටින විට නියෝගී පරිණත මිනිසෙකුගේ එක් සාමාන්‍ය ශ්වසන චක්‍රයකදී ශ්වසන පද්ධතියට ඇතුළු වන වාත පරිමාව කොපමණ ද?

(B) (i) (a) මූත්‍ර සෑදීමේදී සිදුවන අතිපරිශ්‍රාවණය යනුවෙන් අදහස් කෙරෙනුයේ කුමක් ද?

(b) මිනිස් වෘක්කාණුවේ කුහරය තුළට ප්‍රාවය කරනු ලබන අයනයක් නම් කරන්න.

(ii) මූත්‍ර සෑදීමට අමතර ව මිනිස් වෘක්කයේ කාර්යයන් ඉහක් සඳහන් කරන්න.

(iii) මිනිසාගේ තාපජාමනය සඳහා දායක වන හමේ ප්‍රතිග්‍රාහක නම් කරන්න.

(iv) (a) මිනිස් අක්මාවේ කාර්යමය ඒකකය කුමක් ද?.....

(b) මිනිස් අක්මාවේ සමස්ථිකික කාර්යයන් හතරක් සඳහන් කරන්න.

(v) (a) නිපුණතාවල අක්‍රීය පටල විභවය සඳහා දායක වන සාධක තුන මොනවා ද?

.....
.....
.....

(b) කර්තව්‍ය සඳහා අවශ්‍ය ජ්‍යෙෂ්ඨවල වලනය පාලනය කරනු ලබන්නේ මිනිස් මස්තිෂිකයේ කුමන බන්ධිතාව මගින් ද?

.....

(C) (i) (a) හෝර්මෝනයක් යනු කුමක් ද?

.....
.....
.....

(b) ADH ක්‍රියා කරන්නේ මිනිසාගේ වෘක්ක නාලිකාවල කොතැන්හි ද?

.....

(ii) ස්නායුක සමායෝජනය සහ අන්තරාසර්ගීය සමායෝජනය අතර ඇති ප්‍රධාන වෙනස්කම් දෙකක් සඳහන් කරන්න.

.....
.....

(iii) (a) මිනිස් සැකිල්ලේ සමහර අස්ථි තුළ පිහිටන කෝටරක යනුවෙන් හැඳින්වෙන්නේ මොනවා දැයි කෙටියෙන් විස්තර කරන්න.

.....
.....

(b) මිනිස් කපාලය තැනීම සඳහා දායක නොවන, කෝටරක සහිත අස්ථියක් නම් කරන්න.

.....

(iv) කෝටරකවල කෘත්‍ය දෙකක් සඳහන් කරන්න.

.....
.....

(v) මිනිස් අධෝහනුවේ දක්නට ලැබෙන ප්‍රසර දෙක නම් කර ඒ එක එකෙහි කෘත්‍යය සඳහන් කරන්න.

ප්‍රසරය

කෘත්‍යය

.....
.....



3, (A) (i) මිනිස් හෘදයේ ගතිකරය පිහිටන ස්ථානය සඳහන් කරන්න.

.....

(ii) මහා ධමනියෙන් ප්‍රථමයෙන් ම පැන නගින ධමනි නම් කර ඒවායින් රුධිරය සැපයෙන්නේ කුමන ව්‍යුහයට ද යන්න සඳහන් කරන්න.

ධමනි

ව්‍යුහය

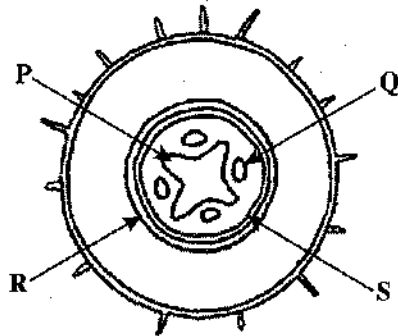
.....

(iii) මිනිසාගේ නියත දේහ උෂ්ණත්වයක් පවත්වා ගැනීම සඳහා රුධිර සංසරණ පද්ධතිය දායක වන්නේ කෙසේදැයි සඳහන් කරන්න.

.....
.....
.....
.....

(iv) ABO රුධිර ගණ සහ Rh සාධකය සලකමින් පහත සඳහන් පුද්ගලයින්ගේ රුධිර ගණ සඳහන් කරන්න.
 සාර්ව දායකයා
 සාර්ව ප්‍රතිග්‍රාහකයා

(B)



- (i) ඉහත රූප සටහනේ දැක්වෙන ව්‍යුහය හඳුනාගන්න.

- (ii) (a) ඉහත රූප සටහනේ P, Q, R සහ S ලෙස සඳහන් කර ඇති පටක නම් කරන්න.
 P Q
 R S
- (b) සැඟරනීන්වලින් වර්ණ ගැන් වූ විට රතු පැහැයෙන් දීස් වන්නේ ඉහත රූප සටහනේ කුමන පටකය ද?

- (iii) පරිණත වූ අවස්ථාවේ ඇති R පටකයේ සෛල කීපයක් ඇද නම් කරන්න.

(iv) මුයොගයිටාවලට වඩා භෞමික වාසස්ථානවල සාර්ථක වීම සඳහා විවෘතඛේජක ශාක දරන ලක්ෂණ මොනවා ද?

.....

(v) අභිමත ලක්ෂණ සහිත ශාක ප්‍රචාරණය කිරීමට අමතර ව ශාක පටක රෝපණයේ ඇති වෙනත් ප්‍රයෝජන තුනක් සඳහන් කරන්න.

.....

(C) (i) මෙතිලීන් බ්ලූ මගින් වර්ණ ගන්වන ලද බැක්ටීරියා අදානක් ආලෝක අන්වීක්ෂයේ අධි බලය යටතේ පරීක්ෂා කිරීමේ ප්‍රධාන අරමුණ කුමක් ද?

.....

මෙම පිටුවේ සියලුම ප්‍රශ්නවලට පිළිතුරු ලියන්න

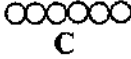
(ii) (a) පහත දී ඇති A-D රූප සටහන්වලින් දක්වා ඇති කොකුසවල සෛල සැකසීම් ආකාර නම් කරන්න.



A



B



C



D

A B
C D

(b) බැසිලසවල ඇති සෛල සැකසීම් ආකාර දෙක මොනවා ද?

.....

(iii) (a) ප්‍රියෝන යනු මොනවා ද?

.....

(b) මිනිසාගෙන් මිනිසාට ප්‍රියෝන සම්ප්‍රේෂණය විය හැක්කේ කෙසේ ද?

.....
.....

(iv) දේහයේ සාමාන්‍ය ප්‍රතිරෝධය අඩු වූ විට මිනිසාගේ සාමාන්‍ය ක්ෂුද්‍රජීවී සමූහයේ සිටින සමහර ක්ෂුද්‍රජීවීන් ව්‍යාධිජනක විය හැකි ය. එවැනි ක්ෂුද්‍රජීවීන් හඳුන්වනු ලබන්නේ කුමන නමින් ද?

.....

(v) ක්ෂුද්‍රජීවී ආසාදනවලට එරෙහිව මිනිස් දේහයේ සාමාන්‍ය ප්‍රතිරෝධය අඩුවීමට හේතු හඟරක් දෙන්න.

.....
.....
.....

4. (A) (i) (a) කලලබන්ධය යනු කුමක් ද?

.....
.....

(b) මානවයින්ගේ දක්නට ලැබෙන කලලබන්ධ ආකාරය කුමක් ද?

.....

(ii) (a) කලලබන්ධය හරහා මවගේ සිට පුත්‍රයාටත්, පුත්‍රයාගේ සිට මවටත් ගමන් කරන ද්‍රව්‍යයක් නම් කරන්න.

.....

(b) කලලබන්ධය හරහා මවගෙන් පුත්‍රයාට ගමන් කළ හැකි වයිරසයක් නම් කරන්න.

.....

(iii) (a) මානව කලලබන්ධයෙන් පමණක් සුවය වන හෝර්මෝනයක් නම් කරන්න.

.....

(b) මව සහ පුත්‍රයා අතර ද්‍රව්‍ය හුවමාරු කිරීම සහ හෝර්මෝන සුවය කිරීම හැර කලලබන්ධය මගින් ඉටු කරනු ලබන කෘත්‍යයන් දෙකක් සඳහන් කරන්න.

.....
.....

(iv) (a) ක්ෂීරණය යනු කුමක් ද?

.....

(b) ක්ෂීරණයට කෙලින් ම දායක වන හෝර්මෝන දෙකක් නම් කරන්න.

.....

(v) ආර්තවහරණයට හේතුව කුමක් ද?

.....

මෙම
සිරයේ
සියලුම
කොටස්
ලියන්න

(B) (i) සුන්‍යාඡරිත සෛලයක ඔක්සිකාරක පොස්පොරයිලීකරණය සිදුවන්නේ කොතැන්හි ද?

.....
.....
.....
.....
.....

(ii) සුන්‍යාඡරිත සෛලයක ඔක්සිකාරක පොස්පොරයිලීකරණයේ සිදුවීම් සඳහන් කරන්න.

.....
.....
.....
.....
.....

(iii) DNA ප්‍රතිවලිත විමේදී සහභාගි වන එන්සයිම තුනක් නම් කර ඒ එක එකෙහි කාර්යයක් බැගින් සඳහන් කරන්න.

එන්සයිමය

කාර්යය

.....
.....
.....

(iv) බෝග ආරක්ෂණය සඳහා කෘෂිකාර්මික බෝගවලට ජාන විකරණය මගින් හඳුන්වා දී ඇති ලක්ෂණ තුනක් සඳහන් කරන්න.

.....
.....
.....

(C) (i) පරිසර විද්‍යාව අධ්‍යයනය කිරීම වැදගත් වන්නේ මන් ද?

.....
.....
.....
.....
.....

(ii) මුල් ස්ථානවල සිදු කෙරෙන සංරක්ෂණය යනු කුමක් ද?

.....
.....

(iii) ජාතික රක්ෂිත පිහිටුවීමට අමතර ව මුල් ස්ථානවල සිදු කෙරෙන සංරක්ෂණ ක්‍රම තුනක් සඳහන් කරන්න.

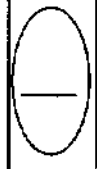
.....
.....
.....

(iv) රැමසා සම්මුතිය යනු කුමක් ද?

.....
.....
.....

(v) ශ්‍රී ලංකාවේ වයඹ දෙසින් පිහිටි රැමසා භූමි දෙකක් නම් කරන්න.

.....
.....



සියලු ම හිමිකම් ඇවිරිණි / முழுப் பதிப்புரிமையுடையது / All Rights Reserved

ශ්‍රී ලංකා විභාග දෙපාර්තමේන්තුව ශ්‍රී ලංකා විභාග දෙපාර්තමේන්තුව ශ්‍රී ලංකා විභාග දෙපාර්තමේන්තුව ශ්‍රී ලංකා විභාග දෙපාර්තමේන්තුව ශ්‍රී ලංකා විභාග දෙපාර්තමේන්තුව
 இலங்கைப் பரீட்சைத் திணைக்களம் இலங்கைப் பரීட்சைத் திணைக்களம் இலங்கைப் பரීட்சைத் திணைக்களம் இலங்கைப் பரීட்சைத் திணைக்களம் இலங்கைப் பரීட்சைத் திணைக்களம்
 Department of Examinations, Sri Lanka Department of Examinations, Sri Lanka Department of Examinations, Sri Lanka Department of Examinations, Sri Lanka Department of Examinations, Sri Lanka
 ශ්‍රී ලංකා විභාග දෙපාර්තමේන්තුව ශ්‍රී ලංකා විභාග දෙපාර්තමේන්තුව ශ්‍රී ලංකා විභාග දෙපාර්තමේන්තුව ශ්‍රී ලංකා විභාග දෙපාර්තමේන්තුව ශ්‍රී ලංකා විභාග දෙපාර්තමේන්තුව
 இலங்கைப் பரීட்சைத் திணைக்களம் இலங்கைப் பரීட்சைத் திணைக்களம் இலங்கைப் பரීட்சைத் திணைக்களம் இலங்கைப் பரීட்சைத் திணைக்களம் இலங்கைப் பரීட்சைத் திணைக்களம்
 Department of Examinations, Sri Lanka Department of Examinations, Sri Lanka Department of Examinations, Sri Lanka Department of Examinations, Sri Lanka Department of Examinations, Sri Lanka

අධ්‍යයන පොදු සාක්ෂික පත්‍ර (උසස් පෙළ) විභාගය, 2018 අගෝස්තු
கல்விப் பொதுத் தராதரப் பத்திர (உயர் தர)ப் பரீட்சை, 2018 ஆகஸ்ட்
General Certificate of Education (Adv. Level) Examination, August 2018

පීච විද්‍යාව II
உயிரியல் II
Biology II

09 S II

B කොටස - රචනා

උපදෙස් :

* ප්‍රශ්න හතරකට පමණක් පිළිතුරු සපයන්න.
 අවශ්‍ය කැන්සිදී නම් කරන ලද පැහැදිලි රූප සටහන් දෙන්න.
 (එක් එක් ප්‍රශ්නය සඳහා නියමිත ලකුණු ප්‍රමාණය 15කි.)

5. (a) ජලාස්ම පටලයේ ව්‍යුහය විස්තර කරන්න.
- (b) අක්සනයක ජලාස්ම පටලයේ ස්නායු ආවේගයක් ජනනය වන ආකාරය සහ එය මයලිනීභූත නො වන අක්සනයක් ඔස්සේ සන්නයනය වන ආකාරය පැහැදිලි කරන්න.
6. (a) ශාකවල ලිංගික ප්‍රජනනයේ සහ අලිංගික ප්‍රජනනයේ වාසි සහ අවාසි විස්තර කරන්න.
- (b) ශාකවලට අදාළ ව පරම්පරා ප්‍රත්‍යාවර්තනය පැහැදිලි කරන්න.
7. (a) මානව සෞඛ්‍යයේදී ක්ෂුද්‍රජීවීන්ගේ වැදගත්කම සාකච්ඡා කරන්න.
- (b) දිලීරවල ආර්ථික වැදගත්කම විස්තර කරන්න.
8. (a) ප්‍රොටීස්ටාවන් අතර දක්නට ලැබෙන පෝෂණ විවිධත්වය කෙටියෙන් විස්තර කරන්න.
- (b) මිනිස් ආමාශයේ දළ ව්‍යුහය විස්තර කරන්න.
9. (a) හාඩ්-වයින්බර්ග් සමතුලිතතාව විස්තර කරන්න.
- (b) (i) AB රුධිර ගණය සහිත මවකගේ සහ A රුධිර ගණය සහිත පියෙකුගේ දරුවන්ට රුධිර ගණ ප්‍රවේණිගත වන ආකාරය විස්තර කරන්න.
- (ii) ABO රුධිර ගණ ප්‍රවේණිය මෙන්ධලීය ප්‍රවේණියෙන් වෙනස් වන්නේ කෙසේදැයි පැහැදිලි කරන්න.
10. පහත සඳහන් ඒවා ගැන කෙටි සටහන් ලියන්න.
 - (a) මිනිසාගේ වසා පද්ධතිය
 - (b) පේශි සංකෝචනය පිළිබඳ සර්පන සූත්‍රිකා සිද්ධාන්තය
 - (c) ඕසෝන් ස්තරය හායනය වීම

සියලු ම හිමිකම් ඇවිරිණි / முழுப் பதிப்புரிமையுடையது / All Rights Reserved

ශ්‍රී ලංකා විභාග දෙපාර්තමේන්තුව ශ්‍රී ලංකා විභාග දෙපාර්තමේන්තුව ශ්‍රී ලංකා විභාග දෙපාර්තමේන්තුව ශ්‍රී ලංකා විභාග දෙපාර්තමේන්තුව
இலங்கைப் பரீட்சைத் திணைக்களம் இலங்கைப் பரීட்சைத் திணைக்களம் இலங்கைப் பரීட்சைத் திணைக்களம் இலங்கைப் பரීட்சைத் திணைக்களம்
Department of Examinations, Sri Lanka Department of Examinations, Sri Lanka Department of Examinations, Sri Lanka Department of Examinations, Sri Lanka
ශ්‍රී ලංකා විභාග දෙපාර්තමේන්තුව ශ්‍රී ලංකා විභාග දෙපාර්තමේන්තුව ශ්‍රී ලංකා විභාග දෙපාර්තමේන්තුව ශ්‍රී ලංකා විභාග දෙපාර්තමේන්තුව
இலங்கைப் பரීட்சைத் திணைக்களம் இலங்கைப் பரීட்சைத் திணைக்களம் இலங்கைப் பரීட்சைத் திணைக்களம் இலங்கைப் பரීட்சைத் திணைக்களம்

අධ්‍යයන පොදු සහතික පත්‍ර (උසස් මට්ටම) විභාගය, 2018 අගෝස්තු
கல்வியியல் பொதுத் தராதரப் பரீட்சை (உயர் தர) பரීட்சை, 2018 ஆகஸ்ட்
General Certificate of Education (Adv. Level) Examination, August 2018

පීච විද්‍යාව I
உயிரியல் I
Biology I



2018.08.06 / 1300 - 15 00

වය දෙකයි
இரண்டு மணித்தியாலம்
Two hours

- උපදෙස්:**
- * සියලු ම ප්‍රශ්නවලට පිළිතුරු සපයන්න.
 - * උත්තර පත්‍රයේ නිශ්චිත ස්ථානයේ ඔබේ විභාග අංකය ලියන්න.
 - * උත්තර පත්‍රයේ පිටුපස දී ඇති උපදෙස් ද සැලකිල්ලෙන් කියවා පිළිපදින්න.
 - * 1 සිට 50 තෙක් එක් එක් ප්‍රශ්නයට (1), (2), (3), (4), (5) යන පිළිතුරුවලින් නිවැරදි හෝ ඉතාමත් හැදෑරෙන හෝ පිළිතුර තෝරාගෙන, එය උත්තර පත්‍රයේ පසුපස ප්‍රස්ථවන උපදෙස් පරිදි කතිරයක් (X) යොදා දැක්වන්න.

- අනුනත විභාජනයේ යෝගකලාවේදී සිදු වන්නේ පහත සඳහන් ඒවා අතුරෙන් කුමක් ද?
 - (1) තර්කුව සෑදීම
 - (2) වර්ණදේහ සනීභවනය වීම
 - (3) න්‍යෂ්ටිකාව නොපෙනී යාම
 - (4) වර්ණදේහ සෛලය මධ්‍යයේ පෙළ ගැසීම
 - (5) න්‍යෂ්ටි පටලය බිඳ හෙලීම
- දර්ශීය ශාක සෛලයක් ආලෝක අන්වීක්ෂයක් තුළින් නිරීක්ෂණය කිරීමේදී ඇතිවිය හොහැක්කේ පහත සඳහන් ඒවා අතුරෙන් කුමක් ද?
 - (1) හරිතලව
 - (2) පිෂ්ට කණිකා
 - (3) න්‍යෂ්ටිය
 - (4) මයිටොකොන්ඩ්‍රියා
 - (5) රික්තක
- ATP අවශ්‍ය වන්නේ පහත සඳහන් කුමන ජෛවරසායනික ක්‍රියාවලිය සඳහා ද?
 - (1) ප්‍රභාසංශ්ලේෂණයේදී ජලය ප්‍රභාවිච්ඡේදනය වීම
 - (2) පාංශු ද්‍රාවණයෙන් K⁺ මූලාණය සෛල තුළට අවශෝෂණය වීම
 - (3) සෛල පටලය හරහා සර්වී සෛල තුළට ඔක්සිජන් විසරණය වීම
 - (4) කැල්සීන් වක්‍රයේදී කාබන් ඩයොක්සයිඩ් අණුවක් RuBP සමඟ සම්බන්ධ වීම
 - (5) C4 මාර්ගයේදී පයිරුවේට, PEP බවට පරිවර්තනය වීම
- ජීවී දේහවල අඩංගු මූලද්‍රව්‍ය පිළිබඳ පහත සඳහන් ප්‍රකාශ අතුරෙන් නිවැරදි වන්නේ කුමක් ද?
 - (1) ස්වාභාවික ව පවතින මූලද්‍රව්‍ය 92 ක් ජීවී දේහවල ඇත.
 - (2) ජීවීන් තුළ අන්තර්ගත මූලද්‍රව්‍යවල සංයුතිය නියත නොවේ.
 - (3) ජීවීන්ගේ වියළි බරින් 0.1% කට වඩා අඩුවෙන් ඇති මූලද්‍රව්‍ය අංශුමාත්‍ර මූලද්‍රව්‍ය ලෙස සැලකේ.
 - (4) යකඩ සියලු ම ජීවීන් තුළ දක්නට ලැබෙන අධිමාත්‍ර මූලද්‍රව්‍යයකට නිදසුනකි.
 - (5) ජීවී දේහ තුළ වඩාත් ම බහුල මූලද්‍රව්‍ය හය වන්නේ කාබන්, හයිඩ්‍රජන්, ඔක්සිජන්, නයිට්‍රජන්, ෆොස්පරස් සහ මැග්නීසියම් ය.
- ශක්තිමත් ආසන්න සහ සංසන්ධ බල කිසිම ජල අණුවල වැදගත් භෞතික ගුණාංගයකි. එම ගුණාංගය සමඟ සම්බන්ධයක් හොඳක්වන්නේ ශාකවල පහත සඳහන් කුමන කෘත්‍යය ද?
 - (1) අකාෂ්ඨ ශාකවල යාන්ත්‍රික සන්ධාරණය
 - (2) පසෙන් ජලය අවශෝෂණය කිරීම
 - (3) ඉන්සා වලන
 - (4) ශාකය තුළ ජලය පරිවහනය වීම
 - (5) ප්‍රාක්ෂලාස්මය තුළ ද්‍රව්‍ය ද්‍රවණය වීම

ශ්‍රී ලංකා විභාග දෙපාර්තමේන්තුව
 இலங்கைப் பரீட்சைத் திணைக்களம்

අ.පො.ස. (උ.පෙළ) විභාගය/ ක.පො.ත. (உயர் தர)ப் பரீட்சை - 2018

විෂය අංකය
 பாட இலக்கம்

09

විෂයය
 பாடம்

පීච විද්‍යාව

ලකුණු දීමේ පටිපාටිය/புள்ளி வழங்கும் திட்டம்
 I පත්‍රය/பத்திரம் I

ප්‍රශ්න අංකය විභාග இல.	පිළිතුරු අංකය விடை இல.	ප්‍රශ්න අංකය විභාග இல.	පිළිතුරු අංකය விடை இல.	ප්‍රශ්න අංකය විභාග இல.	පිළිතුරු අංකය விடை இல.	ප්‍රශ්න අංකය විභාග இல.	පිළිතුරු අංකය விடை இல.	ප්‍රශ්න අංකය විභාග இல.	පිළිතුරු අංකය விடை இல.
01.	4	11.	2	21.	1	31.	2	41.	3
02.	4	12.	5	22.	3	32.	3	42.	4
03.	5	13.	සෞඛ්‍ය සෞඛ්‍ය	23.	5	33.	1	43.	3 හෝ 5
04.	2	14.	5	24.	3	34.	4	44.	5
05.	5	15.	3	25.	4	35.	3	45.	5
06.	2	16.	5	26.	3	36.	3	46.	1 හෝ 5
07.	3	17.	2	27.	5	37.	4	47.	2
08.	4	18.	4	28.	4	38.	2	48.	5
09.	4	19.	4	29.	3	39.	3	49.	4
10.	2	20.	4	30.	4	40.	1	50.	3

⊙ විශේෂ උපදෙස්/ விசேட அறிவுறுத்தல் :

එක් පිළිතුරකට/ ஒரு சரியான விடைக்கு 02 ලකුණු தரப்படும்/புள்ளி வீதம்

මුළු ලකුණු/மொத்தப் புள்ளிகள் 2 × 50 = 100

අධ්‍යයන පොදු සහතික පත්‍ර (උසස්පෙළ) විභාගය - 2018

09 - ජීව විද්‍යාව- II

ලකුණු දීමේ පටිපාටිය

A කොටස - ව්‍යුහගත රචනා

1. (A) (i) ජීවින්ගේ දත්තට ලැබෙන ලාක්ෂණික ලක්ෂණ කීපයක් පහත දැක්වේ. එම එක් එක් ලාක්ෂණික ලක්ෂණයන් අදහස් කෙරෙන්නේ කුමක්දැයි පැහැදිලි කරන්න.

(a) වර්ධනය

ජීවින්ගේ වියළි බරෙහි සිදුවන අප්‍රතිවර්තන වැඩිවීමයි.

1pt

(b) විකසනය

ජීවියෙකුගේ ජීවිත කාලයේදී සිදුවන අප්‍රතිවර්තන වෙනස්වීම්ය.

1pt

(c) ප්‍රජනනය

විශේෂයක අඛණ්ඩ පැවැත්ම තහවුරු කිරීම සඳහා නව ජනිතයින් බිහි කිරීමේ හැකියාවයි.

1pt

(ii) ජීවින් තුළ දත්තට ලැබෙන ප්‍රධාන කාබනික සංයෝග කාණ්ඩ හතරක් ඇත. පහත සඳහන් එක එකෙහි බහුල ව ම හමුවන ප්‍රධාන කාබනික සංයෝග කාණ්ඩය සඳහන් කරන්න.

(a) බිත්තර සුදුමදය

: ප්‍රෝටීන

1pt

(b) පොල්කිරි

: ලිපිඩ

1pt

(c) ප්‍රාථමික සෛල බිත්ති

: කාබොහයිඩ්‍රේට්

1pt

(d) ඔක්සිහාරක සීනි

: කාබොහයිඩ්‍රේට්

1pt

(iii) පහත සඳහන් ඒවා හඳුනා ගැනීම සඳහා භාවිත කරනු ලබන රසායනාගාර පරීක්ෂාවක් බැගින් නම් කරන්න.

(a) බිත්තර සුදුමදයේ ඇති ප්‍රධාන කාබනික සංයෝග කාණ්ඩය

බයිසුරට් පරීක්ෂාව

1pt

(b) පොල්කිරිවල ඇති ප්‍රධාන කාබනික සංයෝග කාණ්ඩය

සුධැන් III

1pt

(c) ක්ලෝරොෆිටාවල ප්‍රධාන සංචිත ද්‍රව්‍යය

අයඩින් පරීක්ෂාව

1pt

(d) ඔක්සිහාරක සීනි

බෙනඩික්ට් පරීක්ෂාව

1pt

(B) (i) කෘමීන් පරමාණු සංඛ්‍යාව අනුව මොනොසැකරයිඩ හතරක් නම් කර ඒ එක එකක් සඳහා නිදසුනක් බැගින් දෙන්න.

මොනොසැකරයිඩය

නිදසුන

(a) ට්‍රයෝස	ග්ලයිසරැල්ඩීහයිඩ්	1+1pt
(b) ටෙට්‍රෝස	එරිත්‍රෝස්	1+1pt
(c) පෙන්ටෝස	රයිබෝස්/ රිබියුලෝස්/ ඩීඔක්සිරයිබෝස්	1+1pt
(d) හෙක්සෝස	ග්ලූකෝස්/ ෆ්රැක්ටෝස්/ගැලැක්ටෝස්	1+1pt

(ii) ඩයිසැකරයිඩයක් යනු කුමක් ද?

මොනොසැකරයිඩ දෙකක් ග්ලයිකොසිඩික් බන්ධනයකින් බැඳී සාදන (සීනි) අණුවකි.

1pt

(iii) (a) සියලු ම මොනොසැකරයිඩවලට සහ සමහර ඩයිසැකරයිඩවලට පොදු ගුණාංගය සඳහන් කරන්න.

මත්ස්නාරක ස්වභාවය

1pt

(b) ඉහත (iii) (a) ට පිළිතුර ලෙස සඳහන් කළ ගුණාංගය සහිත සීනි හඳුනා ගැනීම සඳහා භාවිත කරනු ලබන සරල විද්‍යාගාර පරීක්ෂාවක් විස්තර කරන්න.

- ජලීය සීනි ද්‍රාවනයක් ලබා ගෙන
- බෙහෙවින් ද්‍රාවනයෙන් සම පරිමාවක් දමා මිශ්‍රකර
- (ජල තාපකයක් තුළ) නටවන්න.
- ගවොල් රතු අවික්ෂේපයක් ඇති වේ.

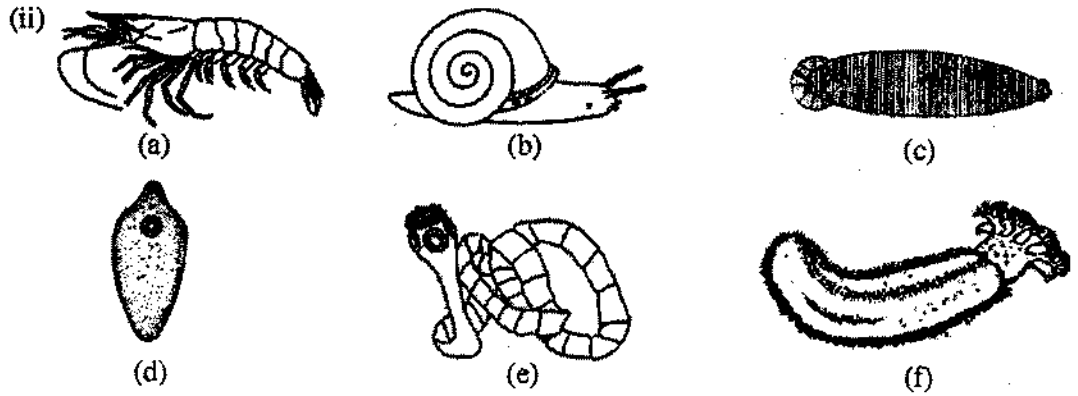
4pts

(C) (i) සනාල පටක දරන, බීජ නොදරන, සම්බීජාණුක ශාක දෙකක ගණ නාම සඳහන් කරන්න.

• *Nephrolepis*

• *Lycopodium*

2pts



ඉහත (a) - (f) රූප සටහන්වල දක්වා ඇති සතුන් වෙන් කර හඳුනා ගැනීම සඳහා සුදුසු අංක සහ අක්ෂර භාවිත කර පහත දී ඇති දෙබෙදුම් සුවිස පුරවන්න.

(1) ග්‍රාහිකා ඇත.	5	1pt
ග්‍රාහිකා නැත.	2	1pt
(2) චූෂකර ඇත.	3	1pt
චූෂකර නැත.	a	1pt
(3) අංකුශ ඇත.	e	1pt
අංකුශ නැත.	4	1pt
(4) බණ්ඩනය වූ දේහය	c	1pt
බණ්ඩනය නො වූ දේහය	d	1pt
(5) විශාල පාදයක් තිබීම	b	1pt
විශාල පාදයක් නො තිබීම	f	1pt

(iii) පැහැරිල්ලක් වැනි සමහර එකපිනොධර්මීවෘත්තීය පෙට්සලේරියා යන නමින් හඳුන්වනු ලබන ව්‍යුහ ඇත. පෙට්සලේරියාවක බාහිර පෙනුම අඳින්න.



1pt

(iv) එකපිනොධර්මීවෘත්තීය වංශයේ පෙට්සලේරියා හොඹැති වර්ග දෙකක් නම් කරන්න.

- ඔලිගුරොයිටියා, හොලොකුරොයිටියා, ක්‍රිනොයිටියා ඕනෑම 2ක් 2pts

එකතුව 40 x ලකුණු 2 ½ = මුළු ලකුණු 100

2. (A) (i) පිලෙන්නිර්වාචන සහ පැහැපි පණුවන් හැර, අසම්පූර්ණ ආහාර මාර්ගයක් දරන සතුන් ඇතුළත් වර්ගයක් නම් කරන්න.

මිග්ලරොයිඩියා 1pt

(ii) (a) රේක්ෂිතාව යනු කුමක් ද?
සමහර මොලස්කාවන්ගේ මුඛයේ/ මුඛ කුහරයේ ඇති කුඩා දත් සහිත (කයිටිනීම්ය) ව්‍යුහයකි/ පටියකි

1pt

(b) රේක්ෂිතාවේ ප්‍රයෝජනය කුමක් ද?
ආහාර සුරාගැනීම

1pt

(iii) (a) සමහර ශාක කෘමිහක්ෂක වන්නේ ඇයි?
(කමන්ට අවශ්‍ය) නයිට්‍රජන් ලබාගැනීම සඳහා

1pt

(b) කෘමිහක්ෂක ජලජ ශාකයක ගණ නාමය සඳහන් කරන්න.

Utricularia 1pt

(iv) (a) ඛනිජයේ සිට මිනිසාගේ ගර්භ දක්වා වාතය ගමන් ගන්නා මාර්ගය නිවැරදි අනුපිළිවෙලින් ලියන්න.
නාස්විචර, නාස්කුහරය, ශ්‍රවණිකාව, ස්වරාලය, ස්වාසනාලය, ස්වාසනාලිකා, අනුස්වාසනාලිකා, ගර්භකප්‍රණාලය

1pt

(b) මිනිස් ශ්වසන මාර්ගයේ ඇති කලස් වෛලවල කාර්යය කුමක් ද?

ශ්ලේෂ්මල ස්‍රාවය කිරීම 1pt

(v) (a) ශ්වසන චක්‍රය යනු කුමක් ද?

එක් ආශ්වාසයක්, එක් ප්‍රශ්වාසයක් සහ විරාමය/ ප්‍රශ්වාසයකින් පසුව ඊළඟ ආශ්වාසය ආරම්භ වනතුරු අවධියයි

1pt

(b) විවේකීව සිටින විට නිරෝගී පරිණත මිනිසෙකුගේ එක් සාමාන්‍ය ශ්වසන චක්‍රයකදී ශ්වසන පද්ධතියට ඇතුළු වන වාත පරිමාව කොපමණ ද?

450 ml/ 500ml 1pt

(B) (i) (a) මූල සෘජුමේදී සිදුවන අතිපරිශ්‍රාවණය යනුවෙන් අදහස් කෙරෙනුයේ කුමක් ද?

අධික පීඩනයක් යටතේ ගුලිකාවේ සිට බෝමන් ප්‍රාවරය තුළට රුධිරය පෙරියාම
1pt

(b) මිනිස් වෘක්කාණුවේ කුහරය තුළට ප්‍රාවය කරනු ලබන අයනයක් නම් කරන්න.

$H^+/K^+/NH_4^+$ 1pt

(ii) මූල සෘජුමට අමතර ව මිනිස් වෘක්කයේ කාර්යයන් ඉහස් සඳහන් කරන්න.

- ආසුනි විධානය/ රුධිරයේ නියත ආසුනි පීඩනයක් පවත්වාගැනීම
- රුධිර pH යාමනය
- හෝමෝන/ එරිත්‍රොපොයිටින් ප්‍රාවය
- රුධිර පීඩනය පවත්වා ගැනීම
- රුධිර පරිමාව පවත්වා ගැනීම

මිනැම 3ක් 3pts

(iii) මිනිසාගේ කාපයාමනය සඳහා දායක වන හමේ ප්‍රතිශ්‍රාවක නම් කරන්න.

- රසිනි දේහාණු
- කුඩුස් අන්තඛල්බ
- නිදහස් ස්නායු අන්ත

3pts

(iv) (a) මිනිස් අක්මාවේ කාර්යමය ඒකකය කුමක් ද?

(අක්මා) අනුබණ්ඩිකා 1pt

(b) මිනිස් අක්මාවේ සමස්ථික කාර්යයන් ඔහරක් සඳහන් කරන්න.

1. රුධිර ග්ලුකෝස් මට්ටම යාමනය
2. ලිපිඩ ප්‍රමාණය යාමනය
3. අත්‍යාවශ්‍ය නොවන ඇමයිනෝ අම්ල සංශ්ලේෂණය
4. විෂභරණය
5. කාපය නිෂ්පාදනය
6. (ලිංගික) හෝමෝන බිඳහෙලීම/ ඉවත් කිරීම
7. හිමොග්ලොබින් බිඳ හෙලීම/ ඉවත් කිරීම
8. රුධිරය සංචිත කිරීම
9. විටමින් (A,D,E,K) සංචිත කිරීම
10. රුධිර ප්‍රෝටීන සංශ්ලේෂණය
11. කොලෙස්ටරෝල් සංශ්ලේෂණය
12. යුරියා නිපදවීම

මිනැම 4pts

(v) (a) නියුරෝනවල අක්‍රීය පටල විභවය සඳහා දායක වන සාධක තුන මොනවා ද?

- සෛලය තුළ හා පිටත ඇති විශේෂිත අයනවල සාන්ද්‍රණ වෙනස්කම්
- Na^+ හා K^+ සඳහා ජලාස්ම පටලය දක්වන වරණීය පාරගමනාව
- Na^+ , K^+ පොම්පය

3pts

(b) කථනය සඳහා අවශ්‍ය ජේම්වල වලනය පාලනය කරනු ලබන්නේ මිනිස් මස්තිෂ්කයේ කුමන බණ්ඩිකාව මගින් ද?

ලලාට බණ්ඩිකාව

1pt

(C) (i) (a) හෝර්මෝනයක් යනු කුමක් ද?

- අන්තරාසර්ග ග්‍රන්ථිවලින් රුධිරයට නිදහස් කරන / ස්‍රාවය කරන
- දුරස්ථ අවයවවල ක්‍රියාකාරීත්වය/ කායික විද්‍යාව වෙනස්කරන රසායනිකයකි/ රසායනික පණිවිඩකාරකයකි.

2pts

(b) ADH ක්‍රියා කරන්නේ මිනිසාගේ වෘක්ක නාලිකාවල කොතැන්හි ද?

- විදුර සංවලිත නාලිකාව
- සංග්‍රාහක ප්‍රණාලය

2pts

(ii) ස්නායුක සමායෝජනය සහ අන්තරාසර්ගී සමායෝජනය අතර ඇති ප්‍රධාන වෙනස්කම් දෙකක් සඳහන් කරන්න.

- ස්නායුක සමායෝජනයේ මාර්ගය නිශ්චිතයි
- අන්තරාසර්ගී සමායෝජනයේදී මාර්ගය නිශ්චිත නොවේ
- ස්නායුක සමායෝජනය රසායනික හා විද්‍යුත් වේ
- අන්තරාසර්ගී සමායෝජනය රසායනික වේ
- ස්නායුක සමායෝජනය වේගවත්ය/ ස්නායුක සමායෝජනයේදී ප්‍රතිචාර වේගවත්ය
- අන්තරාසර්ගී සමායෝජනය සෙමෙන් සිදුවේ/ අන්තරාසර්ගී සමායෝජනයේදී ප්‍රතිචාරය සෙමෙන් සිදුවේ.
- ස්නායුක සමායෝජනයේදී ප්‍රතිචාර ස්ථානීයයි
- අන්තරාසර්ගී සමායෝජනය ප්‍රතිචාර විසර්තයි

(ලකුණු ලබාගැනීම සඳහා සමායෝජන දෙකේම තත්වයන් ලිවිය යුතුයි.)

මනරම් 2pts

(iii) (a) මිනිස් සැකිල්ලේ සමහර අස්ථි තුළ පිහිටන කෝටරක යනුවෙන් හැඳින්වෙන්නේ මොනවා දැයි කෙටියෙන් විස්තර කරන්න.

පක්ෂමධර ශ්ලේෂ්මල පටලයකින් ආස්තරණය වී ඇති වාතය පිරි කුටීර/
මඩ්/අවකාශ

1pt

(b) මිනිස් කපාලය තැනීම සඳහා දායක නො වන, කෝටරක සහිත අස්ථියක් නම් කරන්න.

උග්‍රධව හනුව/ උග්‍රධව හනුකාස්ථිය

1pt

(iv) කෝටරකවල කෘත්‍ය දෙකක් සඳහන් කරන්න.

- කටහඬ අනුනාද වීම
- මුහුණේ/ කපාලයේ/ හිස්කබලේ අස්ථිවල බර අඩුකිරීම
- කශේරුවේ ඉහළ කෙළවර මත හිස් කබල/ හිස පහසුවෙන් තුලනය කිරීම

මිනෑම 2ක් 2pts

(v) මිනිස් අධෝහනුවේ දක්නට ලැබෙන ප්‍රසර දෙක නම් කර ඒ එක එකෙහි කෘත්‍යය සඳහන් කරන්න.

- | | |
|------------------------|--|
| ප්‍රසරය | කෘත්‍යය |
| • සන්ධාන අග්‍ර ප්‍රසරය | • ශංඛක අස්ථිය සමග සන්ධානවීමට |
| • තුණ්ඩාකාර ප්‍රසරය | • පේශි හා බන්ධන සම්බන්ධවීමට පෘෂ්ඨ සපයයි. |

(2+2) pts

එකතුව 40 x ලකුණු 2 ½ = මුළු ලකුණු 100

3. (A) (i) මිනිස් හෘදයේ ගතිකරය පිහිටන ස්ථානය සඳහන් කරන්න.

දකුණු කර්ණිකා බිත්තියේ/ මයෝකාඩියමේ උත්තර මහා ශිරා විවෘත වන ස්ථානය
ආසන්නයේ

1pt

(ii) මහා ධමනියෙන් ප්‍රථමයෙන් ම පැන නගින ධමනි නම් කර ඒවායින් රුධිරය සැපයෙන්නේ කුමන ව්‍යුහයට ද යන්න සඳහන් කරන්න.

- | | | |
|---------------|----------------|------|
| ධමනි | ව්‍යුහය | |
| • කිරීටක ධමනි | • හෘදය | 2pts |

(iii) මිනිසාගේ නියත දේහ උෂ්ණත්වයක් පවත්වා ගැනීම සඳහා රුධිර සංසරණ පද්ධතිය දායක වන්නේ කෙසේදැයි සඳහන් කරන්න.

- සක්‍රීය පටකවල සිට කාපය පරිවහනය කිරීම
- සමේ රුධිර වාහිනී සංකුචනය හා විස්ථාරණය කිරීම

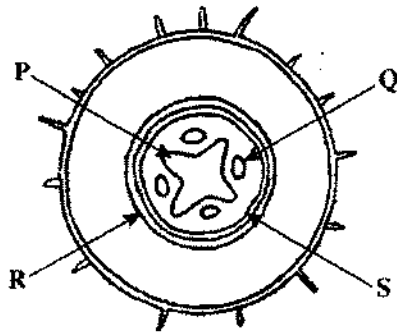
2pts

(iv) ABO රුධිර ගණ සහ Rh සාධකය සලකමින් පහත සඳහන් පුද්ගලයින්ගේ රුධිර ගණ සඳහන් කරන්න.

සාර්ව දායකයා	O ⁻
සාර්ව ප්‍රතිග්‍රාහකයා	AB ⁺

2pts

(B)



(i) ඉහත රූප සටහනේ දැක්වෙන ව්‍යුහය හඳුනාගන්න.

ප්‍රාථමික ද්විබීජ මූලක හරස්කඩ

1pt

(ii) (a) ඉහත රූප සටහනේ P, Q, R සහ S ලෙස සඳහන් කර ඇති පටක නම් කරන්න.

P (ප්‍රාථමික) ශෛලම

Q (ප්‍රාථමික) ජලෝයම

R අන්තශ්චර්මය

S පරිවක්‍රය

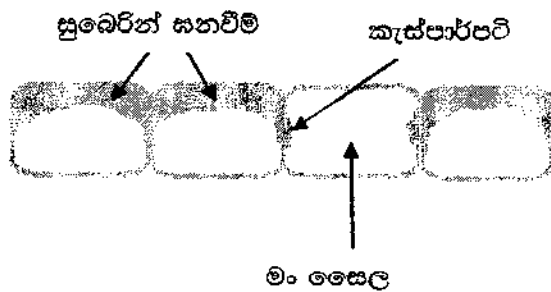
4pts

(b) සැල්ෆිනික්වලින් වර්ණ ගැන් වූ විට රතු පැහැයෙන් දිස් වන්නේ ඉහත රූප සටහනේ කුමන පටකය ද?

ශෛලම

1pt

(iii) පරිණත වූ අවස්ථාවේ ඇති R පටකයේ සෛල කීපයක් ඇඳ නම් කරන්න.



රූප සටහන 1pt

නම් කිරීම 1pt බැගින්

4pts

- අවයව/ පටක බද්ධ කිරීමේදී
- ආසාදිත රුධිරය පාරවිලනයේදී

2pts

(iv) දේහයේ සාමාන්‍ය ප්‍රතිරෝධය අඩු වූ විට මිනිසාගේ සාමාන්‍ය ක්ෂුද්‍රජීවී සමුදායේ සිටින සමහර ක්ෂුද්‍රජීවීන් ව්‍යාධිජනක විය හැකි ය. එවැනි ක්ෂුද්‍රජීවීන් හඳුන්වනු ලබන්නේ කුමන නමින් ද?

අවස්ථාවාදී ව්‍යාධිජනකයන්

1pt

(v) ක්ෂුද්‍රජීවී ආසාදනවලට එරෙහිව මිනිස් දේහයේ සාමාන්‍ය ප්‍රතිරෝධය අඩුවීමට හේතු හතරක් දෙන්න.

1. අධික වෙහෙස
2. දීර්ඝකාලීන ව ප්‍රතිජීවක භාවිතය
3. ප්‍රතිශක්ති මර්ධන ඖෂධ භාවිතය
4. ආතතිය
5. මත්ද්‍රව්‍යවල භාවිතය
6. මත්ද්‍රව්‍ය භාවිතය

මනුෂ්‍ය 4pts

40 x ලකුණු 2 ½ = මුළු ලකුණු 100

4. (A) (i) (a) කලලබන්ධය යනු කුමක් ද?

- මව හා හූණය අතර ඇතිවන, (ප්‍රධාන වශයෙන්) (මව හා හූණය අතර)
- ද්‍රව්‍ය හුවමාරුවට සැකසුණු ව්‍යුහයකි.

2pts

(b) මානවයින්ගේ දක්නට ලැබෙන කලලබන්ධ ආකාරය කුමක් ද?

පතනශීලී අලිත්ඵකෝරියම් (කලල බන්ධය)

1pt

(ii) (a) කලලබන්ධය හරහා මවගේ සිට හූණයටත්, හූණයේ සිට මවටත් ගමන් කරන ද්‍රව්‍යයක් නම් කරන්න.

ජලය (H₂O)

1pt

(b) කලලබන්ධය හරහා මවගෙන් හූණයට ගමන් කළ හැකි වයිරසයක් නම් කරන්න.

හෙපටයිටිස් B / රුබෙල්ලා

මනුෂ්‍ය 1pt

(iii) (a) මානව කලලබන්ධයෙන් සමන්විත ස්‍රාවය වන හෝර්මෝනයක් නම් කරන්න.

- මානව කලලබන්ධ ලැක්ටෝජන්/hCG (මානව කෝරියෝනික් ගොනාඩොට්‍රොපින්)
මිනැම 1pt

(b) මව සහ හුණය අතර ද්‍රව්‍ය හුවමාරු කිරීම සහ හෝර්මෝන ස්‍රාවය කිරීම හැර කලලබන්ධය මගින් ඉටු කරනු ලබන කෘත්‍යයන් දෙකක් සඳහන් කරන්න.

- හුණය මවට සම්බන්ධ කිරීම.
- Rh සාධකවලට අදාළව වෙනස් වූ රුධිර ගත නිසා රුධිර කැටි ගැසීම වැළැක්වීම
- මාතෘ සංසරණයේ සාපේක්ෂ ලෙස අධික රුධිර පීඩනයෙන් හුණය ආරක්ෂා කිරීම
- සමහර ද්‍රව්‍යවලට බාධකයක් ලෙස ක්‍රියා කිරීම

මිනැම 2pts

(iv) (a) ක්ෂීරණය යනු කුමක් ද?

- කිරි නිපදවීම හා කිරි මුදාහැරීම/ විසර්ජනය 1pt

(b) ක්ෂීරණයට කෙලින් ම දායක වන හෝර්මෝන දෙකක් නම් කරන්න.

- ප්‍රෝලැක්ටින්
- ඔක්සිටෝසින් 2pts

(v) ආර්තවභරණයට හේතුව කුමක් ද?

විම්බකෝෂ, FSH හා LH වලට දක්වන සංවේදීතාවය අඩු වීම 1pt

(B) (i) සුන්‍යාඡේදිත සෛලයක ඔක්සිකාරක පොස්පොරයිලීකරණය සිදුවන්නේ කොතැන්හි ද?

මයිටකොන්ඩ්‍රියමේ ඇතුළු පටලය / මියර 1pt

(ii) සුන්‍යාඡේදිත සෛලයක ඔක්සිකාරක පොස්පොරයිලීකරණයේ සිදුවීම් සඳහන් කරන්න.

- ඔක්සිහරණය වූ සහචන්සයිම ඔක්සිකරණය වීම
- ATP නිපදවීම / ADP, ATP බවට පත්වීම
- අණුක ඔක්සිජන් මගින් හයිඩ්‍රජන් ප්‍රතිග්‍රහනය කර,
- ජලය සෑදීම
- ඉලෙක්ට්‍රෝන, ඉලෙක්ට්‍රෝන වාහක ඔස්සේ පරිවහනය 5pts

(iii) DNA ප්‍රතිවලින විමේදී සහභාගි වන එන්සයිම තුනක් නම් කර ඒ එක එකෙහි කෘත්‍යයක් බැගින් සඳහන් කරන්න.

එන්සයිමය

කෘත්‍යය

(DNA) හේලිකේස්

DNA ද්විත්ව හෙලිකේසය දිග හැරීම/ unzipping of DNA

DNA පොලිමරේස්

නව (අනුපූරක) DNA දාමයක් නිපදවීම / බහු අවයවීකරණය

(DNA) ලිගේස්

DNA බන්ධ / කොටස් සම්බන්ධ කිරීම

(3+3) pts

(iv) බෝග ආරක්ෂණය සඳහා කෘෂිකාර්මික බෝගවලට ජාන විකරණය මගින් හඳුන්වා දී ඇති ලක්ෂණ තුනක් සඳහන් කරන්න.

1. පලිබෝධ ප්‍රතිරෝධීතාවය
2. දේශගුණයට ඔරොත්තු දීම
3. රෝග ප්‍රතිරෝධීතාවය

3pts

(C) (i) පරිසර විද්‍යාව අධ්‍යයනය කිරීම වැදගත් වන්නේ මන් ද?

- වර්තමාන මිනිසා බෙහෝ පරිසර ගැටළුවලට මුහුණ පා සිටී
- ඒවා දිනෙන් දින වැඩිවන / වර්ධනය වන අතර
- වඩාත් සංකීර්ණ වෙමින් පවතී
- මේවා සඳහා කාර්යක්ෂම යෝජනා ඉදිරිපත් කිරීමට
- හා සුදුසු ප්‍රතිකර්ම සිදු කිරීමට

5pts

(ii) මුල් ස්ථානවල සිදු කෙරෙන සංරක්ෂණය යනු කුමක් ද?

- ස්වභාවික පරිසරයේදී/ වාසස්ථානයේදී ජීව විශේෂ ආරක්ෂා කර
- ඔවුන්ගේ ප්‍රජනනය පහසු කිරීම

2pts

(iii) ජාතික රක්ෂිත පිහිටුවීමට අමතර ව මුල් ස්ථානවල සිදු කෙරෙන සංරක්ෂණ ක්‍රම තුනක් සඳහන් කරන්න.

- පාරම්පරික ගෙවතු
- අහස භූමි පිහිටුවීම
- ජීවීන් ස්වභාවික වාසස්ථානවලට / පරිසරයට නැවත හඳුන්වා දීම

3pts

(iv) රැමියා සම්මුතිය යනු කුමක් ද?

අන්තර්ජාතික වශයෙන් වැදගත්වන තෙක් බිම්, විශේෂයෙන්ම ජලජ පසම් වාසස්ථාන සංරක්ෂණය (පිළිබඳ සම්මුතිය)

1pt

(v) ශ්‍රී ලංකාවේ වයඹ දෙසින් පිහිටි රැමියා භූමි දෙකක් නම් කරන්න.

- ආනවිලුන්දාව (වැව) අභයභූමිය
- වාන්කාලෙයි අභයභූමිය
- විල්පක්කු ජාතික වනෝද්‍යානය

ඕනෑම 2pts

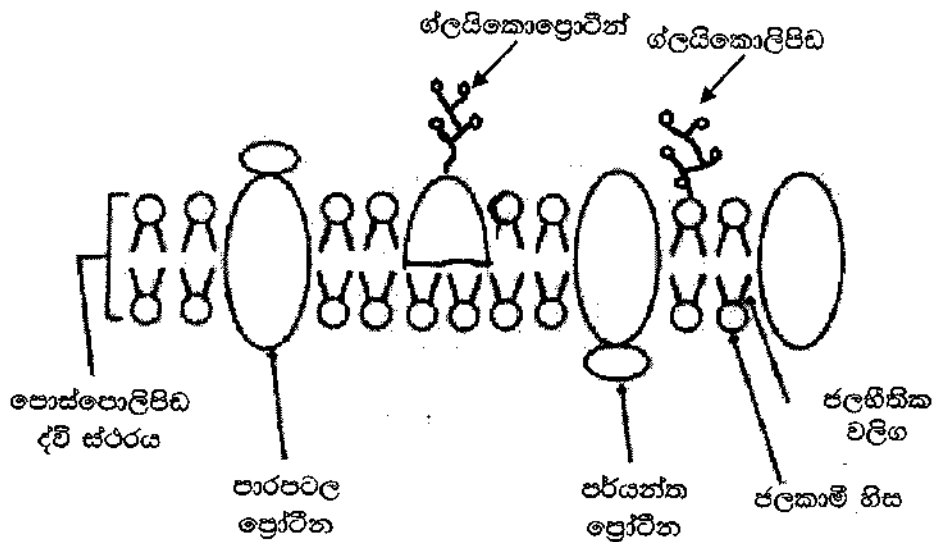
40 x ලකුණු 2 ½ = මුළු ලකුණු 100

B කොටස - රචනා

5. a) ජලාස්ම පටලයේ ව්‍යුහය විස්තර කරන්න.

01. ජලාස්ම පටලයේ තරල විචිත්‍ර ආකෘතියේ
02. පොස්පොලිපිඩ හා ප්‍රෝටීන අඩංගු වේ.
03. පොස්පොලිපිඩ තරලමය ද්විස්ථරයක්/ ස්ථර දෙකක් ඇතිකරයි
04. ඒවායේ පිටතට ජලකාමී හිසක්
05. ඇතුළතට ජලහීනික වලිගන් ඇත.
06. සමහර ප්‍රෝටීන සම්පූර්ණයෙන්ම සහ
07. සමහර ඒවා අඩවශයෙන්
08. මෙම තරලමය පූරකයේ ගිලී ඇත.
09. ඒවා පාරපටල ප්‍රෝටීන නම් වේ.
10. (සමහර) ප්‍රෝටීන (ලිහිල්ව) පටලයට බැඳී ඇත.
11. ඒවා පර්යන්ත ප්‍රෝටීන නම් වේ.
12. (සමහර) (කෙටි) සීනි අනු (දම)/ ඔලිගොසැකරයිඩ/ පොලිසැකරයිඩ
13. ප්‍රෝටීනවල මතුපිට පෘෂ්ඨයට සවිවී
14. ග්ලයිකො ප්‍රෝටීන සහ
15. පොස්පොලිපිඩවලට සවි වී
16. ග්ලයිකොලිපිඩ සාදයි

16 x 04 = ලකුණු 64



රූප සටහන සම්පූර්ණයෙන් නම් කළ නිවැරදි රූප සටහනට = 07

අර්ධ වශයෙන් නම් කළ නිවැරදි රූප සටහන = 03

නම් නොකළ රූප සටහන = 00

රූප සටහන = 07

මුළු ලකුණු = 71

b) අක්සනයක ජලාස්ම පටලයේ ස්නායු ආවේගයක් ජනනය වන ආකාරය සහ එය මයලීනීභූත නොවන අක්සනයක් ඔස්සේ සන්නයනය වන ආකාරය පැහැදිලි කරන්න.

01. අක්‍රීය තත්වයේදී/ ආවේගයක් ගමන් නොකරන අවස්ථාවේදී අක්සන පටලය/ අක්සන ජලාස්ම පටලය ධ්‍රැවණය (ධ්‍රැවීකෘත) වී ඇත.
02. අක්සන පටලයේ පිටත ධන ලෙස (+) ද
03. ඇතුළත සෘණ (-) ලෙස ද ආරෝපනය වී ඇත.
04. දේහලීය උත්තේජනයක් සැපයූ විට,
05. අක්සනයේ පිටත සිට ඇතුළතට/ ඛනිජසෛලීය තරලයේ සිට අන්ත:සෛලීය තරලයට Na^+ ගැලීම/ සාන්ද්‍රය ඇතුළතට සිදුවේ.
06. ඉන්පසු සෛලයේ ඇතුළත සිට පිටතට/ අන්ත:සෛලීය තරලයේ සිට ඛනිජසෛලීය තරලයට K^+ ගැලීම/ සාන්ද්‍රය පිටතට සිදුවේ.
07. එවිට උත්තේජය සිදුවූ ස්ථානයේ ක්‍රියා විභවයක් නිපදවීම/ අක්සන (ජලාස්ම) පටලය විධ්‍රැවනය වීම සිදුවී
08. ධ්‍රැවීයතාවය ප්‍රත්‍යාවර්ත වේ.
09. පටලයෙන් පිටත (-) ලෙස ආරෝපණය වේ.
10. පටලයේ ඇතුළත (+) ලෙස ආරෝපණය වේ.
11. පටලයේ මෙම ස්ථානයට වහාම ඉදිරියෙන් තවම අක්‍රීය තත්වයේ ඇත/ පිටත + ලෙස ආරෝපණය වී සහ ඇතුළත - ලෙස ආරෝපණය වී ඇත.
12. ක්‍රියා විභවය නිපද වූ ස්ථානය සහ ඉදිරියෙන් ඇති ස්ථානය අතර (විද්‍යුත්) විභව වෙනසක් ඇතිවේ.
13. මෙම විභව වෙනස නිසා ආපසු ධාරා ගැලීම (Eddy Current)/ ස්ථානීය විද්‍යුත් පරිපථ ඇතිවේ.
14. ඒ, ක්‍රියා විභවය ඇතිවූ ස්ථානයේ සිට ක්‍රියා විභවයක් ඇති ප්‍රදේශයට වහාම ඉදිරියෙන් ඇති ප්‍රදේශයට
15. ඛනිජ සෛලීය තරලය තුලින් හා
16. අන්ත:සෛලීය තරලය තුලින්.
17. මෙම ආපසු ධාරා ගැලීම (Eddy Current)/ ස්ථානීය විද්‍යුත් පරිපථ (අවසානයේදී) ජලාස්ම පටලය තුලින් ගමන් කරන අතර
18. ක්‍රියා විභවය ඉදිරියට (ස්නායු ආවේගයක් ලෙස) ගමන් කරයි.
19. (Eddy Current)/ ස්ථානීය විද්‍යුත් පරිපථ ඇති වුවද ක්‍රියා විභවය ප්‍රතිවර්ත දිශාවට හට නොගනී.
20. ඒ, ක්‍රියා විභවයක් හටගත් වහාම තවත් ක්‍රියා විභවයක් ඇතිනොවන නිසාය./ අනස්සව කාලයක් තිබීම නිසාය.

20 x 04 = 80
71
 මුළු ලකුණු 151
 උපරිම ලකුණු 150

6. a) ශාකවල ලිංගික ප්‍රජනනයේ සහ අලිංගික ප්‍රජනනයේ වාසි හා අවාසි විස්තර කරන්න.

ශාකවල ලිංගික ප්‍රජනනයේ වාසි

- 01. ජන්මාණු නිපදවීමේ දී උෞනනය සිදුවේ.
- 02. එවිට වර්ණදේහ අනුලු ලෙස විසුක්ක වීම/ ස්වාධීන සංරචනය
- 03. සහ සමජාතීය වර්ණදේහ අතර ප්‍රවේණික ද්‍රව්‍ය හුවමාරු වීම/ අවතරණය සිදුවේ.
- 04. එමනිසා ප්‍රවේණික ද්‍රව්‍ය මිශ්‍ර වී
- 05. නව ජාන සංකලන ඇතිවී
- 06. ප්‍රවේණික ප්‍රභේදන ඇතිකරයි./ නව ලක්ෂණ ඇති කරයි.
- 07. එමගින් පරිණාමයට ඉඩ සැලසේ.
- 08. දුහිතෘන්ට (දෙමව්පියන්ගෙන් ආවේණික වූ) අනන්‍ය ජාන සංකලන ඇතිවේ.
- 09. බීජ නිපදවීම,
- 10. දුහිතෘ ජීවිතයේ ව්‍යාප්තිය පහසු කරයි.
- 11. බීජ සුජනනාවය නිසා සුදුසු පරිසර තත්ව ඇතිවනතුරු බීජ ප්‍රරෝහණය වළකියි./ පමාවේ.

ශාකවල ලිංගික ප්‍රජනනයේ අවාසි

- 12. ජනකයන් දෙදෙනෙකු/ දෙමව්පියන් දෙදෙනෙකු/ ජන්මාණු දෙවර්ගයක් අවශ්‍ය වේ.
- 13. (ජනිතයෙකු නිපදවීමට) දිගුකාලයක් ගතවේ.
- 14. (සම්පත් පිළිබඳ සැලකූවිට) වැයවීම අධිකයි.
- 15. පරාගන කාරක හෝ පරාගන යන්ත්‍රණ/ බාහිර කාරක අවශ්‍ය වේ./ වියහැක.

ශාකවල අලිංගික ප්‍රජනනයේ වාසි

- 16. තනි ජනකයෙක්/ තනි මව් ජීවියෙක් පමණක් අවශ්‍යය.
- 17. ප්‍රජනනය සඳහා වැඩි අවස්ථා සංඛ්‍යාවක් ලබාදෙයි./ වේගයෙන් ගුණනය වේ.
- 18. පරාගණය සඳහා විශේෂ යන්ත්‍රණ අවශ්‍ය නොවේ.
- 19. ප්‍රවේණිකව සර්වසම දුහිතෘ ජීවිත නිපදවේ.
- 20. හිතකර ලක්ෂණ සුරක්ෂිත වේ.

ශාකවල අලිංගික ප්‍රජනනයේ අවාසි

- 21. සුදුසු ස්ථාන නොමැතිවීමෙන් ප්‍රචාරක/ බීජානු බොහොමයකට වර්ධනය වී/ ප්‍රරෝහණය වී ජනිතයින් නිපදවීමට නොහැකි වේ.
- 22. සම්පත් නාස්ති වේ/ වැය අධිකයි
- 23. (ප්‍රවේණික) ප්‍රභේදන නැත.
- 24. පරිණාමයට උපකාර නොවේ.

b) ශාකවලට අදාළව පරම්පරා ප්‍රකාශවර්තනය පැහැදිලි කරන්න.

- 01. (ශාකයක ජීවන චක්‍රයේ) ද්විගුණ බීජාණුශාක පරම්පරාවක් හා ඒකගුණ ජන්මාණුශාක පරම්පරාවක් මාරුවෙන් මාරුවට ඇතිවීම
- 02. ද්විගුණ බීජාණු ශාකය බීජාණු නිපදවයි.
- 03. ඒ උෞනන විභාජනය මගින්
- 04. බීජාණු ඒකගුණය.
- 05. බීජාණු ප්‍රරෝහනය වී
- 06. අනුනනයෙන් බෙදී
- 07. ජන්මාණු ශාකය නිපදවයි.
- 08. එය ජන්මාණු නිපදවයි.
- 09. ඒවා ඒකගුණයි.
- 10. ජන්මාණු 2ක් එක් වී/ සංසේචනය වී,
- 11. යුක්තානුව සාදයි.
- 12. එය ද්විගුණයි.
- 13. යුක්තානුව අනුනනයට ලක්වී
- 14. කලලය සාදයි.
- 15. එයින් බීජාණු ශාකය ඇතිවේ/ විකසනය වෙයි
- 16. පරිණාමයේදී බීජාණු ශාක පරම්පරාව ප්‍රමුඛ වේ/ ජන්මාණු ශාක පරම්පරාව ක්ෂීණ වී ඇත.

24 + 16 = 40

මිනැම 38 x 04 = ලකුණු 152

උපරිම ලකුණු 150

7. a) මානව සෞඛ්‍යයේදී ක්ෂුද්‍රජීවීන්ගේ වැදගත්කම සාකච්ඡා කරන්න.

01. සමහර ක්ෂුද්‍රජීවීන් හානිකර වේ/ ව්‍යාධිජනක වේ.
02. සමහරක් අවස්ථාවාදී ව්‍යාධිජනකය වේ.
03. ඔවුන් ආසාදන ඇති කරන්නේ පටක හානියක්/ තුවාලයක් ඇතිවූ විට හෝ
04. දේහයේ සාමාන්‍ය ප්‍රතිරෝධය අඩුවූ විටදීය.
05. සමහරුන් විභව්‍ය ව්‍යාධිජනකයන් ලෙස
06. ආසාදන රෝග/ ආසාදන ඇතිකරයි.
07. ඔවුන්ගෙන් සමහරක් ප්‍රචණ්ඩ වේ.
08. උදා :- පැපොල වයිරසය
09. සමහරු දූලක නිපදවති.
10. උදා :- *Vibrio cholerae/ Corynebacterium diphtheriae/ Clostridium tetani/ Salmonella typhi*
11. ව්‍යාධිජනකයන් (රෝග හටගැන්වීම සඳහා) සාමාන්‍යයෙන් නිශ්චිත ප්‍රවේශ මාර්ගයට විශේෂණය වී/ හැඩගැසී ඇත.
12. ඒ ආමාශ ආන්ත්‍රික මාර්ගය තුළින්
13. උදා :- *Salmonella typhi/ Vibrio cholerae/ Shigella sp/ පෝලියෝ වෛරසය/ Escherichia coli*
14. හෝ ශ්වසන මාර්ගය තුළින්
15. eg :- *Mycobacterium tuberculosis/ Corynebacterium diphtheriae/ Bordetella pertussis/ මික්සෝ වෛරසය*
16. හෝ මොත්‍රලිංගික මාර්ගය තුළින්
17. උදා :- *Treponema pallidum/ Neisseria gonorrhoea/ HIV/ E.coli*
18. හෝ සම මත ඇති තුවාල මගිනි.
19. උදා :- *Clotridium tetani / Leptospira/ රැබඩෝ වෛරසය /HIV.*
20. සමහරු (මිනිසාගේ සෞඛ්‍යට) වාසිදායක වේ.
21. උදා :- ලැක්ටික් අම්ල බැක්ටීරියා/ යෝනි මාර්ගයේ වෙසෙන බැක්ටීරියා මගින් නිපදවන ලැක්ටික් අම්ලය නිසා බොහෝ ව්‍යාධිජනකයන්ට අහිතකර පරිසරයක් ඇතිවේ.
22. සමහර ක්ෂුද්‍ර ජීවීන් එන්නත් නිපදවීම සඳහා භාවිතා කරයි.
23. උදා :- B C G එන්නත/ පෝලියෝ එන්නත
24. සමහර ක්ෂුද්‍ර ජීවීන් ප්‍රතිජීවක නිපදවීමට භාවිතා කරයි.
25. උදා :- පෙනිසිලින්/ *Pericillium*

ස්ට්‍රෙප්ටොමයිසින්/ ටෙට්‍රාසයික්ලින්/ *Streptomyces*

26. සමහර ආන්ත්‍රික ක්ෂුද්‍රජීවීන් විටමින් නිපදවයි.

b) දිලීරවල ආර්ථික වැදගත්කම විස්තර කරන්න.

- 01. සමහර (විෂමපෝෂී/ මෘතෝපජීවී) දිලීර ආහාර තරක්වීම සිදුකරමින්
- 02. උදා- *Mucor*
- 03. සමහර (ව්‍යාධිජනක) දිලීර ශාකවලට රෝග සාදමින්
- 04. ආර්ථිකව අවාසි ඇතිකරයි/ ආර්ථික වාසි අඩු කරයි.
- 05. සමහර දිලීර ගෘහභාණ්ඩ/ දැවමය භාණ්ඩ දිරාපත් කරයි.
- 06. සමහර දිලීර ආහාර ලෙස භාවිතා කරයි.
- 07. උදා :- හතු/ *Pleurotus/ Agaricus/ Lentinus*
- 08. සමහර දිලීර/ මධ්‍යසාර/ මධ්‍යසාරීය පාන/ පාන්/ බේකරි නිෂ්පාදන සඳහා භාවිතා කරයි.
- 09. උදා :- *Saccaromyes cerevisiae*
- 10. සමහර දිලීර ප්‍රතිජීවක නිපදවීමට භාවිතා කරයි.
- 11. උදා :- *Penicillium notatum/ Penicillium chrysogenum*
- 12. සමහරක් එන්සයිම නිපදවීමට භාවිතා කරයි.
- 13. eg:- *Aspergillus niger/ Saccharomyces cerevisiae/ Rhizopus sp/ Aspergillus oryzae*
- 14. සමහරක් කොම්පෝස්ට් නිපදවීමට/ කසල ප්‍රතිචක්‍රීකරනයේ දී භාවිතා කරයි.

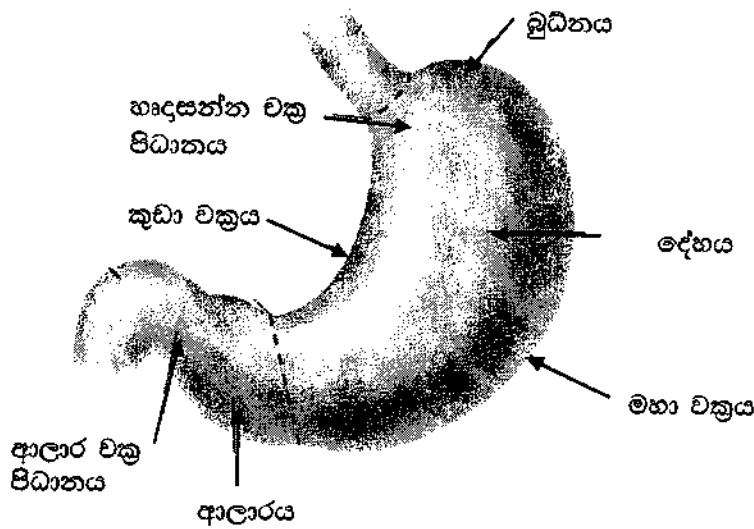
26 + 14 = 40
 ඔනෑම 38 x 4 = 152
 උපරිම ලකුණු 150

8. a) ප්‍රෝටීස්ටාවන් අතර දක්නට ලැබෙන පෝෂණ විවිධත්වය කෙටියෙන් විස්තර කරන්න.

01. ප්‍රෝටිස්ටාවන් ස්වයංපෝෂී හෝ
02. විෂමපෝෂී විය හැක.
03. ස්වයංපෝෂී පෝෂණයේදී කාබනික ප්‍රභවය වන්නේ අකාබනික කාබන්ය/ CO₂
04. සමහර ප්‍රෝටිස්ටාවන් ප්‍රභාස්වයංපෝෂී වේ.
05. ඔවුන්ගේ ශක්ති ප්‍රභවය වන්නේ ආලෝකයයි.
06. උදා :- ක්ලෝරොගයිටා,
07. රොඩොගයිටා,
08. පියොගයිටා,
09. විෂමපෝෂී පෝෂනයේදී කාබන් ප්‍රභවය කාබනික වේ.
10. සමහර විෂමපෝෂී ප්‍රෝටිස්ටාවන් සත්ත්ව සදාශ්‍රය වේ.
11. ඔවුන් ආහාර අධිග්‍රහනය
12. ජීර්ණය
13. (පෝෂක) අවශෝෂනය
14. ස්විකරණය සහ
15. (ජීර්ණය නොවූ ද්‍රව්‍ය) පහකිරීම කරයි.
16. උදා:- සිලියොපොරා/ *Paramecium*
17. රයිසොපෝඩා/ *Amoeba*
18. සමහර ප්‍රෝටිස්ටාවන් සහජීවී වේ.
19. ඔවුන් පෝෂක ලබාගන්නේ වෙනත් ජීව විශේෂයන් සමඟ සංගම් පවත්වමින්/ ජීව විශේෂ දෙකක් එකට ජීවත්වෙමින්ය.
20. සමහරු (සහජීවී ප්‍රෝටිස්ටාවන්) පරපෝෂී වේ.
21. උදා:- *Plasmodium*
22. සමහරු අන්‍යෝන්‍යාධාරක වේ.
23. උදා:- ලයිකනවල ඇල්ගී

b) මිනිස් ආමාශයේ දළ ව්‍යුහය විස්තර කරන්න.

01. J හැඩැති
02. (උදර කුහරයේ පිහිටන) පේශිමය මල්ලකි./ විස්තාරනය වූ මල්ලකි./ මඩියකි.
03. එහි අවිදුරව/ අවිදුර අන්තය අන්තශ්‍රෝතය සමඟ සන්තතිකකය/ සම්බන්ධ වේ.
04. ඒ හෘදසන්න වක්‍රපිටානය/ විවරය මගිනි.
05. විදුරව ග්‍රහණීය සමඟ සන්තතික/ සම්බන්ධ වේ
06. ඒ අලාර විවරය මගිනි.
07. එය අලාර වක්‍ර පිටානය මගින් පාලනය වේ.
08. එය බුධිනය
09. දේහය සහ
10. ආලාරය ලෙස බෙදේ.
11. ආමාශයේ කුඩා වක්‍රයක් සහ විශාල වක්‍රයක් ඇත.
12. පිටත පෘෂ්ඨය සුමටය.
13. ඇතුළත පෘෂ්ඨය නැමීම ඇතිකරයි/ රූගේ ඇත.



රූප සටහන සම්පූර්ණයෙන් නම් කළ නිවැරදි රූප සටහන = 07

අර්ධ වශයෙන් නම් කළ නිවැරදි රූප සටහන = 03

නම් නොකළ රූප සටහන = 00

ලකුණු 23 + 13 = 36 x 4 = 144

රූප සටහන = 7

151

09. a) හාඩ්-වයිත්බර්ග් සමතුලිතතාව විස්තර කරන්න.

හාඩ්-වයිත්බර්ග් සමතුලිතතාවයෙන් ප්‍රකාශවන්නේ,

- 01. (වෙනත් පරිණාමික බලපෑමක් රහිත විට) (පරිපූර්ණ) ගහනයක පරම්පරාවෙන් පරම්පරාවට ඇලීල/ ප්‍රවේණි දර්ශ සංඛ්‍යාතය නියතව පවතී. මෙය පවතින්නේ සමහර උපකල්පන යටතේය/ මෙය සම්පූර්ණවීමට සමහර තත්ත්ව අවශ්‍ය වේ.
- 02. ගහනයේ ප්‍රමාණය ඉතා විශාලය./ සීමාරහිතයි.
- 03. අහඹු සංවාසය සිදුවේ.
- 04. විකෘති ඇති නොවේ.
- 05. ආගමනය හා විගමනය නොවේ/ (ගහණය තුලට හෝ ඉන් පිටතට) පර්යන්තය නොවේ./ සංවෘත ගහණයකි.
- 06. (ස්වාභාවික) වරණය නොවේ.
- 07. ඉහත උපකල්පන වලින් අපගමන වූ විට/ ඉහත උපකල්පන තත්ව සම්පූර්ණ නොවූනවිට ඇලීල/ ප්‍රවේණි දර්ශ සංඛ්‍යාතය වෙනස් වේ./ ජාන ගලනය සිදුවේ.
- 08. එය පරිණාමයට හේතු වේ.

b) (i) AB රුධිර ගණය සහිත මවකගේ සහ A රුධිර ගණය සහිත පියෙකුගේ දරුවන්ට රුධිරගණ ප්‍රවේණිගතවන ආකාරය විස්තර කරන්න.

- 01. මවගේ ප්‍රවේණිදර්ශය (AB රුධිරගණය ඇති බැවින්) $I^A I^B$ වේ.
- 02. පියාගේ ප්‍රවේණි දර්ශය $I^A I^A$)
- 03. හෝ $I^A I^0 / I^A i$ වේ.
- 04. මවගේ ජන්මාණු I^A
- 05. සහ I^B වේ.
- 06. ඒ 50% බැගින්. / 1:1 අනුපාතයෙනි.
- 07. පියාගේ ප්‍රවේණි දර්ශය $I^A I^A$ වනවිට සියළුම ජන්මාණු I^A වේ.
- 08. එවිට දරුවන්ගේ ප්‍රවේණිදර්ශ විය හැක්කේ $I^A I^A$
- 09. සහ $I^A I^B$ ය.
- 10. ඒ 1:1 අනුපාතයෙනි/ 50% බැගින්
- 11. ඔවුන්ගේ රුපානු දර්ශ/ රුධිර ගණ A
- 12. හා AB වේ.
- 13. ඒ 1:1 අනුපාතයෙනි./ 50% බැගින්
- 14. පියාගේ ප්‍රවේණි දර්ශය $I^A I^0 / I^A i$ නම් ජන්මාණු I^A
- 15. සහ I^0/i වේ.
- 16. ඒ 50% බැගින් / 1:1 අනුපාතයෙනි.

- 17. එවිට දරුවන්ගේ ප්‍රවේණි දර්ශ $I^A I^A$,
- 18. $I^A I^B$
- 19. $I^A I^0 / I^A i$
- 20. සහ $I^B I^0 / I^B i$ වේ.
- 21. ඒ 1:1:1:1 අනුපාතයෙනි./ 25% බැගිනි.
- 22. දරුවන්ගේ රුපානු දර්ශ/ රුධිර ගණ A, AB සහ B ය.
- 23. ඒ 2:1:1 අනුපාතයෙනි.

• රූප සටහන මගින් ඉහත කරුණු ප්‍රකාශ කර සහ නිවැරදි වචන යොදා ඇත්නම් ලකුණු ලබාදෙනු ලැබේ.

(ii) ABO රුධිර ගණ ප්‍රවේණිය මෙන්ඩලීය ප්‍රවේණියෙන් වෙනස් වන්නේ කෙසේදැයි පැහැදිලි කරන්න.

- 01. මෙන්ඩලීය ප්‍රවේණියේදී ලක්ෂණයක් පාලනය කරන්නේ/ආවේණිගත වන්නේ ජානයක ඇලීල දෙකක් මගිනි.
- 02. ABO රුධිරගණ ඇලීල 3ක් මගින් පාලනය/ ආවේණිගත වේ.
- 03. මෙම ඇලීල I^A , I^B සහ I^0/i වේ.
- 04. මෙන්ඩලීය ආවේණියේදී එක් ඇලීලයක් අනෙක් ඇලීලයට (නිලිත) ප්‍රමුඛ වේ.
- 05. රුපානු දර්ශයේදී ප්‍රමුඛ ලක්ෂණය ප්‍රකාශ වේ.
- 06. ABO රුධිරගණවලදී I^A සහ I^B සහ ප්‍රමුඛ වේ.
- 07. (I^A සහ I^B ඇලීල දෙකම ඇතිවිට) රුපානු දර්ශයේදී A සහ B ලක්ෂණ දෙකම ප්‍රකාශ වේ.

8 + 23+7 = 38
38 x 4 =152
උපරිම ලකුණු 150

10. පහත ඒවා පිළිබඳව කෙටි සටහන් ලියන්න.

a) මිනිසාගේ වසා පද්ධතිය

- 01. වසා පද්ධතිය සමන්විත වන්නේ පයෝලස නාලිකා,
- 02. වසා කේශනාලිකා,
- 03. වසා ගැටිති,
- 04. විසරිත වසා පටක,
- 05. වසා අවයව/ ප්ලිතාව/ තයිමස,
- 06. සහ ඇට මිදුළු වලිනි.
- 07. එය වසා පරිවහනය කරයි.
- 08. වසා කේශනාලිකා අන්ධව ආරම්භ වේ./ කෙලවරක් අන්ධයි
- 09. ඒවා (සම්බන්ධ වී) විශාල වසා වාහිනී සාදයි.
- 10. ඒවා (එක්වී) විශාල වසා ප්‍රණාල දෙකක් සාදයි.
- 11. ඒවා දකුණු වසා ප්‍රණාලය සහ
- 12. උරස් ප්‍රණාලයයි.
- 13. ආසන්න පේශිවල සංකෝචනයෙන් සහ
- 14. විශාල ධමනිවල ස්පන්දනය නිසා වසා තරලය පරිවහනය වේ.
- 15. වසා පද්ධතිය මගින් විශිෂ්ට හා විශිෂ්ට නොවන ප්‍රතිශක්ති ප්‍රතිචාර දක්වයි/ ප්‍රතිශක්තිය ඇතිකරයි.
- 16. මේද / මේද ද්‍රාවී ද්‍රව්‍ය (Vit A, D, E, K වැනි උදාහරණයක් පිළිගත හැකිය) අවශෝෂණයට දායක වේ

b) පේශි සංකෝචනයේ සර්පත සුක්‍රිකා වාදය

- 01. මෙම වාදය මගින් පේශි සංකෝචන යාන්ත්‍රණය පැහැදිලි කරයි.
- 02. (මෙම වාදයට අනුව පේශි සංකෝචනයේදී) සිහින් ඇක්ටින් සුක්‍රිකා ගණකම්/ මහත මයොසින් සුක්‍රිකා මත ලිස්සා යාම සිදුවේ.
- 03. මයොසින් සුක්‍රිකා හිසක් සහිතයි.
- 04. ඇක්ටින් සුක්‍රිකාවල බන්ධන ප්‍රදේශ/ ස්ථාන සහිතයි.
- 05. කංකාල පේශි තන්තුවකට ස්නායු ආවේගයක් ළඟාවූ විට (ස්නායු-පේශි සන්ධියක් හරහා)
- 06. සාකොප්ලාස්මීය ජාලිකාව මගින් Ca^{+2} නිදහස් වේ.
- 07. Ca^{+2} ඇක්ටින් සුක්‍රිකාවල ඇති බන්ධන ප්‍රදේශ නිරාවරණය කරයි.
- 08. මයොසින් හිස් මෙම බන්ධන ප්‍රදේශ/ ස්ථානවලට සම්බන්ධ වී
- 09. (ඇක්ටින්-මයොසින්) හරස් සේතු සාදයි.
- 10. මේ සඳහා ATP ශක්තිය සැපයේ./ ATP අවශ්‍යයි.

- 11. (සක්‍රීය වූ විට) මින් හරස් සේතු (ඇක්ටීන්-මයොසින්) (සාකොමියරයේ) මධ්‍ය දෙසට/ ඇතුළට නැමී
- 12. කෙටි ප්‍රබල (බල) පහරක් ඇතිකර
- 13. අනුයාත (බල) පහර ගණනාවක් නිසා පේශී තන්තුව/ සාකොමියරය සංකෝචනය වේ.
- 14. මෙවිට ඇක්ටීන් සූත්‍රිකා සාකොමියරයේ මධ්‍ය දෙසට ලිස්සා යයි.
- 15. I පටිය සහ
- 16. H කලාපය කෙටි වේ.
- 17. A පටියේ දිග වෙනස් නොවේ.

c) ඕසෝන් ස්ථරය ක්ෂයවීම

- 01. ඕසෝන් ස්ථරය ක්ෂයවීම සිදුවන්නේ ක්ලෝරෝෆ්ලුවරොකාබන්/ CFC නිදහස් වීම නිසාය.
- 02. මෙය නිදහස් වන්නේ ශීතකරණ, වායු සමන යන්ත්‍ර හා විසරන ප්‍රවාහක/ එයරොසෝල මගිනි.
- 03. මේ නිසා (හිරුගෙන් පැමිණෙන) අහිතකර පාරජම්බුල කිරණ (UV කිරණ) පෘථිවියට පැමිණීම වැඩිවේ.
- 04. මේ නිසා ඇස්වල සුද ඇතිවේ/ සුද ඇතිවීමේ (අවදානම) වැඩිවේ.
- 05. සමේ පිළිකා ඇතිවේ./ පිළිකා ඇතිවීමේ අවදානම වැඩිවේ.
- 06. හෝග අස්වැන්න/ එලදාව අඩුවේ.
- 07. ඒ ප්‍රභාසංස්ලේශනයට බාධා වීම නිසාය.

16 + 17 + 07 = 40
 ඕනෑම 38 x 4 = 152
 උපරිම ලකුණු 150