

**අධ්‍යාපන අමාත්‍යාංශය**  
**கல்வி அமைச்சு**  
**Ministry of Education, Sri Lanka**

61	S	I, II
----	---	-------

**අ. පො. ස. සාමාන්‍ය පෙළ විභාගය - උපකාරක සම්මන්ත්‍රණ මාලාව - 2022 (2023)**  
**கல்விப் பொதுத் தராதரப் பத்திர (சாதாரண தரப் பரீட்சை- ஆதரவு கருத்தரங்கு தொடர்- 2022 (2023))**  
**G. C. E. Ordinary Level Examination - Support Seminar Series - 2022 (2023)**

භූගෝල විද්‍යාව	I, II
புவியியல்	I, II
Geography	I, II

**භූගෝල විද්‍යාව II**

- ❖ මෙම ප්‍රශ්න පත්‍රය I හා II වශයෙන් කොටස් දෙකකින් සමන්විත ය.
- ❖ I කොටසේ ප්‍රශ්නය අනිවාර්ය වේ. එහි (අ), (ආ) සහ (ඉ) කොටස් තුනට ම පිළිතුරු සැපයිය යුතු ය.
- ❖ II කොටසින් ප්‍රශ්න හතරකට පිළිතුරු සැපයිය යුතු ය.
- ❖ පිළිතුරු සැපයිය යුතු මුළු ප්‍රශ්න සංඛ්‍යාව පහකි.

**I කොටස**

1.

(අ) ඔබ වෙත සපයා ඇති ශ්‍රී ලංකාවේ 1:50,000 භූ ලක්ෂණ සිතියම් කොටස අධ්‍යයනය කර ඒ ඇසුරින් අසා ඇති ප්‍රශ්නවලට පිළිතුරු සපයන්න. පිළිතුරු ලිවීම සඳහා ඔබ වෙත සපයා ඇති කඩදාසිය යොදා ගන්න.

- (i) A - B රේඛාවෙන් දැක්වෙන්නේ කුමක් ද?  
(නෙරුව / නිම්නය / මොහොර) (ලකුණු 01යි)
- (ii) E - F රේඛාවෙන් දක්වා ඇත්තේ කුමක් ද?  
(අඩි පාර / දියබෙත්ම / රැළි බිම) (ලකුණු 01යි)
- (iii) G - H රේඛාවෙන් දැක්වෙන්නේ කුමක් ද?  
(කොත් කන්ද / මද බැවුම / කපොල්ල) (ලකුණු 01යි)
- (iv) C - D රේඛාව ඔස්සේ ඇති,  
a. භෞතික ලක්ෂණයක්  
b. සංස්කෘතික ලක්ෂණයක් නම් කරන්න. (ලකුණු 02යි)
- (v) ඇතුළු මායිම් තීරුවේ සඳහන් වී ඇති ලක්ෂණ දෙකක් ලියන්න. (ලකුණු 02යි)
- (vi) X අක්ෂරයෙන් දක්වා ඇති මායිම කුමක් ද? (ලකුණු 01යි)
- (vii) නිරිතදිග කෙළවරේ දී ඇති වතුරප්‍රය තුළ හඳුනාගත හැකි මානව කටයුතු දෙකක් සඳහන් කරන්න. (ලකුණු 02යි)









(ආ) ඔබ වෙත සපයා ඇති ලෝක සිතියම හොඳින් අධ්‍යයනය කර, පහත සඳහන් ප්‍රශ්නවලට පිළිතුරු සපයන්න. පිළිතුරු සැපයීම සඳහා ලෝක සිතියමට යාබද ව දක්වා ඇති තීරුව යොදා ගන්න.

• අංක (i) සිට (v) දක්වා එක් එක් ප්‍රශ්නයට ඉදිරියෙන් දී ඇති ඉංග්‍රීසි අක්ෂර තුන අතරින් නිවැරදි පිළිතුර දැක්වෙන අක්ෂරය සිතියමෙන් තෝරා, සිතියමට යාබද ව ඇති තීරුවේ එක් එක් ප්‍රශ්න අංකය ඉදිරියේ ඇති කොටුව තුළ ලියා දක්වන්න.

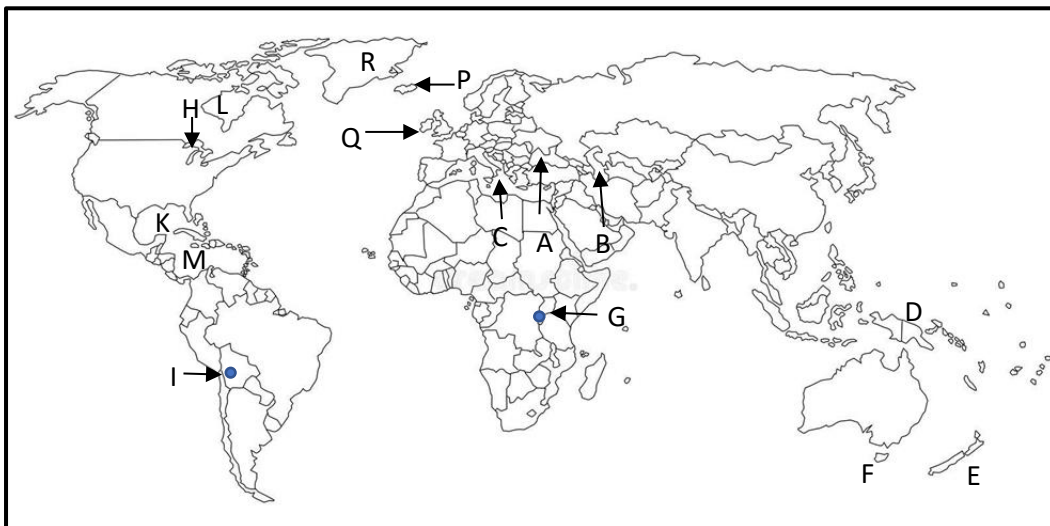
- (i) අර්ධ වශයෙන් ගොඩබිමින් වට වී ඇති 'කළු මුහුද' (A) (B) (C)
- (ii) කිරිපට්ටි පාලනයේ ප්‍රමුඛ රටක් වන 'නවසීලන්තය' (D) (E) (F)
- (iii) භූමියේ උසින් ම පිහිටි විල වන 'ටීටිකාකා' (G) (H) (I)
- (iv) හරිකේන් සුළං බලපැවැත්වෙන 'මෙක්සිකෝ බොක්ක' (K) (L) (M)
- (v) හෙක්ලා ගිනිකන්ද පිහිටි 'අයිස්ලන්තය' (P) (Q) (R)

(ඉ) ඔබ වෙත සපයා ඇති ශ්‍රී ලංකා සිතියම හොඳින් අධ්‍යයනය කර, පහත සඳහන් ප්‍රශ්නවලට පිළිතුරු සපයන්න. පිළිතුරු සැපයීම සඳහා ශ්‍රී ලංකා සිතියමට යාබද ව දක්වා ඇති තීරුව යොදා ගන්න.

• අංක (i) සිට (v) දක්වා එක් එක් ප්‍රශ්නයට ඉදිරියෙන් දී ඇති ඉංග්‍රීසි අක්ෂර තුන අතුරෙන් නිවැරදි පිළිතුර දැක්වෙන අක්ෂරය සිතියමෙන් තෝරා, සිතියමට යාබද ව ඇති තීරුවේ එක් එක් ප්‍රශ්න අංකය ඉදිරියේ ඇති කොටුව තුළ ලියා දක්වන්න.

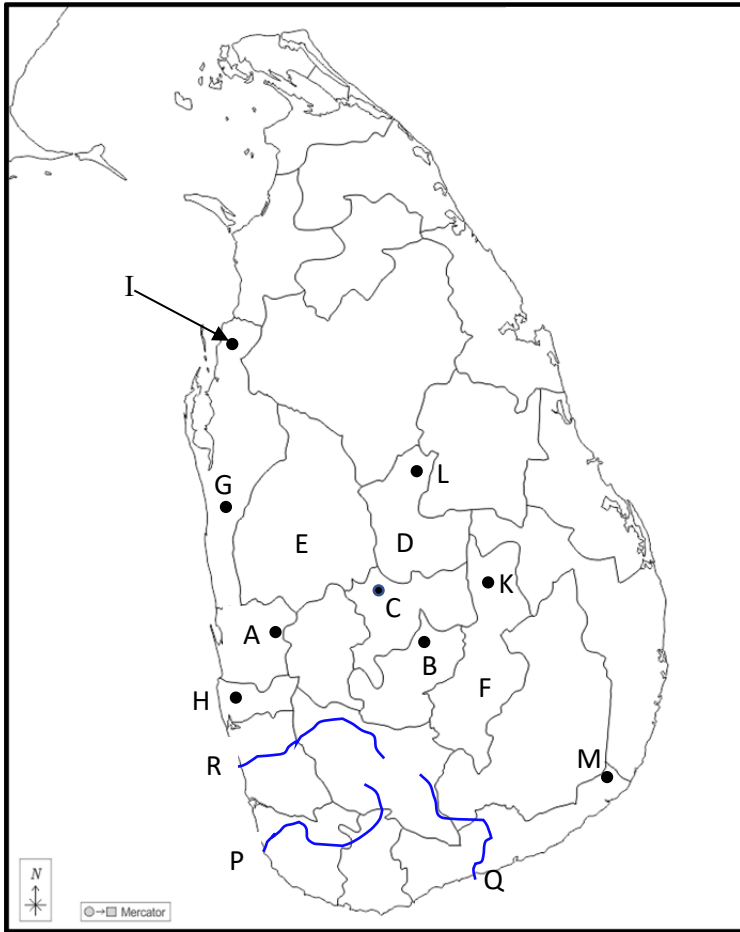
- (i) කෘෂි තාක්ෂණික උයනක් පිහිටි 'ගන්තෝරුව' (A) (B) (C)
- (ii) සුළු අපනයන හෝග මධ්‍යස්ථානය පිහිටි 'මාතලේ' දිස්ත්‍රික්කය (D) (E) (F)
- (iii) ශ්‍රී ලංකාවේ පෙට්‍රොලියම් පිරිපහදු කිරීමේ මධ්‍යස්ථානය පිහිටි 'සපුගස්කන්ද' (G) (H) (I)
- (iv) දැඩි ස්වාභාවික රක්ෂිතයක් වන 'රිටිගල' (K) (L) (M)
- (v) නිතර ගංවතුර උවදුර සිදු වන 'කළු ගඟ' (P) (Q) (R)

(ආ)



- (i)
- (ii)
- (iii)
- (iv)
- (v)
-

(ඉ)



- (i)
- (ii)
- (iii)
- (iv)
- (v)

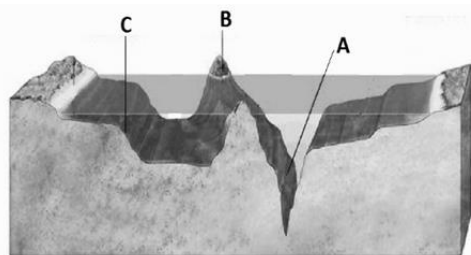
**II කොටස**

2.

- (i) ලෝකයේ විශාලතම මහාද්වීපය සහ කුඩා ම මහාද්වීපය පිළිවෙළින් නම් කරන්න. (ලකුණු 2 යි)
- (ii) පහත සඳහන් මහාද්වීපික තටක තුළ පිහිටි රටවල් එක බැගින් නම් කරන්න.
  - i. ආසියා මහාද්වීපික තටකය තුළ -
  - ii. ඕස්ට්‍රේලියා මහාද්වීපික තටකය තුළ -
  - iii. අප්‍රිකා මහාද්වීපික තටකය තුළ - (ලකුණු 3 යි)

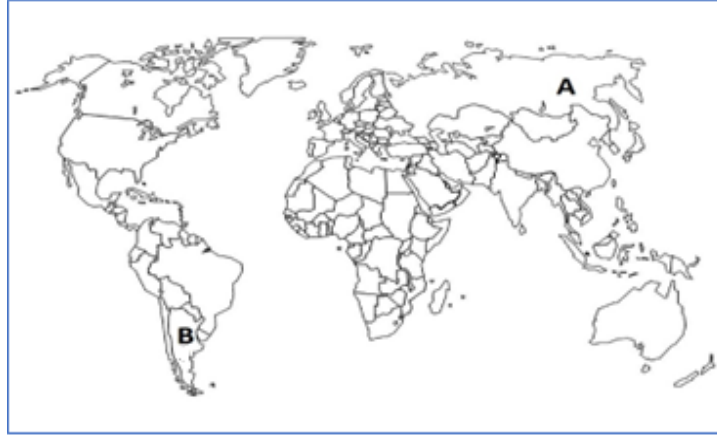
(iii)

a. සාගර පතුල දැක්වෙන පහත රූප සටහනේ A, B, C ලෙස දක්වා ඇති ලක්ෂණ නම් කරන්න.



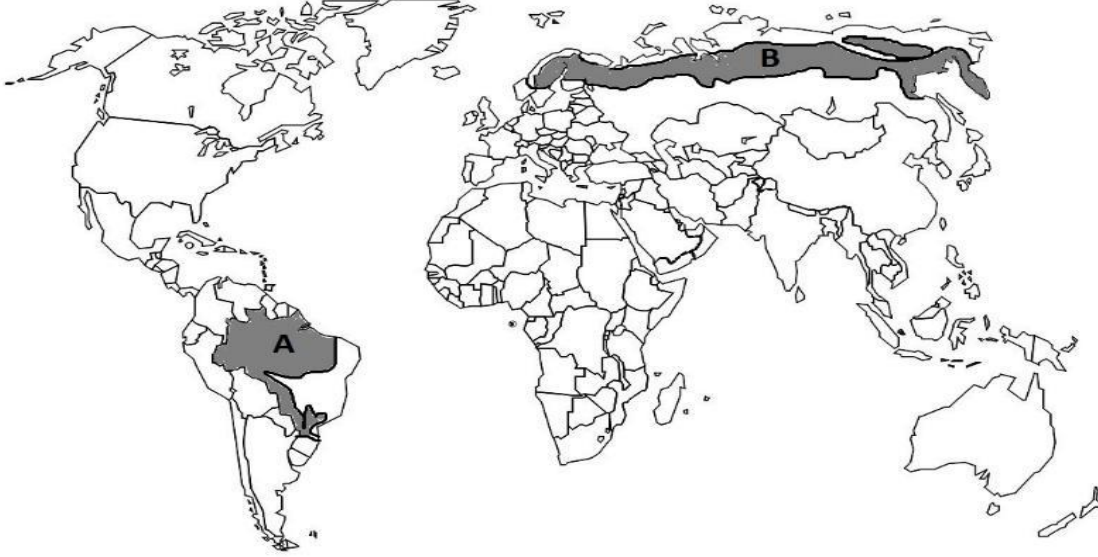
b. සාගර හා මුහුදු, මිනිසා විසින් සම්පතක් ලෙස ප්‍රයෝජනයට ගන්න අවස්ථා දෙකක් පැහැදිලි කරන්න. (ලකුණු 5 යි)

3. (i) a). ආසියාවේ වී වගා කරන රටක්  
 b). ආසියාවෙන් බැහැර වී වගා කරන රටක් පිළිවෙළින් නම් කරන්න. (ලකුණු 2 යි)
- (ii) වී වගාව ආශ්‍රිත ව දක්නට ලැබෙන විශේෂිත ලක්ෂණ තුනක් දක්වන්න. (ලකුණු 3 යි)
- (iv)a). පහත සිතියමේ A, B ලෙස නම් කර ඇති තිරිඟු වගා කරන රටවල් දෙක පිළිවෙළින් නම් කරන්න.



- b). ලෝක කෘෂිකර්මාන්තයෙහි තිරිඟු ප්‍රධාන හෝගයක් ලෙස වැදගත් වීමට හේතු දෙකක් පැහැදිලි කරන්න. (ලකුණු 5 යි)
4. (i) ලෝකයේ ප්‍රධාන නිෂ්පාදන කර්මාන්ත දෙකක් නම් කරන්න. (ලකුණු 2 යි)
- (ii) වර්තමානය වන විට දියුණු තාක්ෂණය පදනම් කර ගෙන විවිධ අවශ්‍යතා අනුව නිෂ්පාදනය කර ඇති නැව් වර්ග තුනක් සඳහන් කරන්න. (ලකුණු 3 යි)
- (iii) ලෝක නිෂ්පාදන කර්මාන්ත ක්ෂේත්‍රයේ බලශක්තිය ආශ්‍රිත ගැටලු දෙකක් නම් කර, ඒවා කෙටියෙන් පැහැදිලි කරන්න. (ලකුණු 5 යි)
5. (i) ශ්‍රී ලංකාවෙන් ලබා ගන්නා මිනිරන් වර්ග දෙකක් නම් කරන්න. (ලකුණු 2 යි)
- (ii) සංචාරක ව්‍යාපාරයෙන් රටකට ලබා ගත හැකි ආර්ථික ප්‍රතිලාභ තුනක් සඳහන් කරන්න. (ලකුණු 3 යි)
- (iii) ශ්‍රී ලංකාවේ ප්‍රාදේශීය සංවර්ධනය සඳහා ගෘහ කර්මාන්තය නගා සිටුවීමට රජය මගින් ක්‍රියාත්මක කරන කාර්යයන් තුනක් නිදසුන් සහිත ව පැහැදිලි කරන්න. (ලකුණු 5 යි)

6. (i). පරිසරයේ ඇති සම්පත්, ලබා ගන්නා ආකාරය අනුව වර්ගීකරණය කර දක්වන්න. (ලකුණු 2 යි)
- (ii). පෘථිවියෙහි ජලය ගබඩා වී ඇති ස්ථාන තුනක් නම් කරන්න. (ලකුණු 3 යි)
- (iii). a) පහත සිතියමේ A, B ලෙස දක්වා ඇති වනාන්තර වර්ග දෙක පිළිවෙලින් නම් කරන්න.



- b) වර්තමානයේ වනාන්තර හා වන ජීවීන් මුහුණපාන ගැටලු තුනක් කෙටියෙන් පැහැදිලි කරන්න.

(ලකුණු 5 යි)

7. (i) සංවර්ධනය මැනීමේ දී යොදා ගන්නා මිනුම් වර්ග දෙක කුමක් ද? (ලකුණු 2 යි)
- (ii) දැනුම පදනම් කරගත් සංවර්ධනය හා තොරතුරු සන්නිවේදන තාක්ෂණය මගින් මානව සමාජයට සැලසී ඇති පහසුකම් තුනක් දක්වන්න. (ලකුණු 3 යි)
- (iii) ශ්‍රී ලංකාවේ තොරතුරු සන්නිවේදන තාක්ෂණය පිළිබඳ දැනුම ලබා ගැනීම සඳහා ඇති මූලාශ්‍ර තුනක් නම් කර කෙටියෙන් පැහැදිලි කරන්න. (ලකුණු 5 යි)

8. (i). මානුෂ ක්‍රියාකාරකම් අතරින් පරිසරයට අහිතකර බලපෑම් ඇති කරන හෝ පරිසර හිතකාමී නොවන ක්‍රියාකාරකම් දෙකක් සඳහන් කරන්න. (ලකුණු 2 යි)
- (ii). ගෝලීය උෂ්ණත්වය ඉහළ යාම නිසා ඇති විය හැකි බලපෑම් තුනක් සඳහන් කරන්න. (ලකුණු 3 යි)
- (iii). දේශගුණික වෙනස් වීම් අවම කර ගැනීමට ඔබට අනුගමනය කළ හැකි ක්‍රියාමාර්ග තුනක් පැහැදිලි කරන්න. (ලකුණු 5 යි)

\*\*\*\*\*