

**සබරගමුව පළාත් අධ්‍යාපන දෙපාර්තමේන්තුව**  
**පළමු වාර පරීක්ෂණය - 2018**

**ගණිතය**

**06 ශ්‍රේණිය**

**පිළිතුරු පත්‍රය**

I පත්‍රය

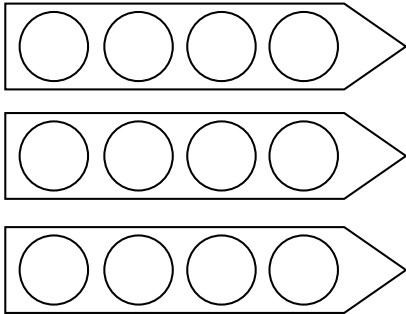
01. i. B  
ii. C

02. 1288

03.  $20 \times 3$

60

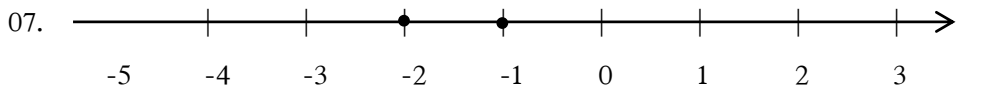
04.



05.  $40 + 30 = 70$  රු. 70 හෝ

$43 + 31 = 74 = 70$

06. 120, තුන්ගුණයක්



08. 5 2

09. 0 හා -1

10.  $76 - 80$

$35 - 40$

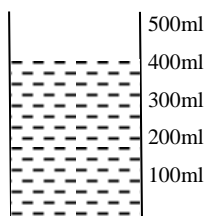
11.  $-2 < 0$

$-4 > -8$

12. 125

275

400ml



13.  $7321$

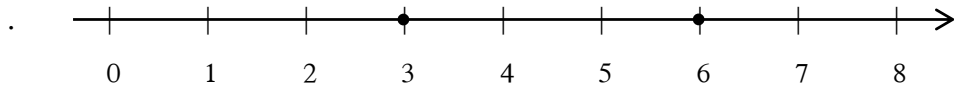
$-1237$

$6084$

14.  $-5, -2, 0, 4$

15. 4 ගුණයක්

16.



17. දයානි - මිනිත්තු 80

පවිත්‍රා - මිනිත්තු 75

$\therefore$  දයානිය

18.  $-2$  හා  $3 \rightarrow (-1, 0, 1, 2)$

$-4$  හා  $1 \rightarrow (-3, -2, -1, 0)$

19. පරාවර්ත කෝණය

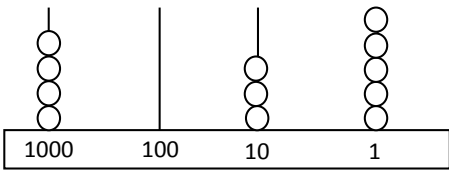
20. සෘණ හතර 2 ට වඩා කුඩා වේ.

$0 > -3$

II කොටස

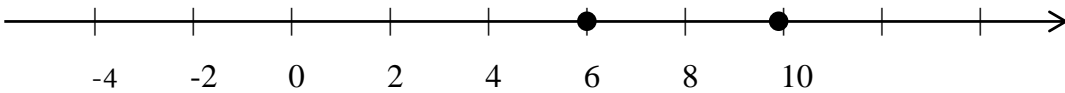
01. a. i. 74 291 852  
 ii. හැත්තෑ හතර මිලියන දෙසිය අනූ එක් දහස් අටසිය පනස් දෙක  
 iii. 8  
 iv. 6 5 3  
 සිය ගුණයක්

02. a. i. 138  
 ii. 9  
 2  
 7 හා 9  
 iii. 4035

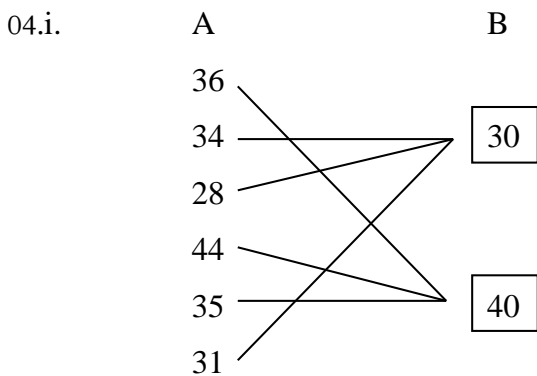


iv. ස්ථානීය අගය මාරුකර සංඛ්‍යා ලියා ඇත.

03. i.  $A = -4$   
 $B = 2$   
 $C = 4$   
 ii. සුදුසු සම්බන්ධ 3 කට  
 iii.



- iv. -6 හා -1 අතර -5 -4 -3 -2 නිබිල 4 යි  
 -1 හා 4 පඅතර 0 1 2 3 නිබිල 4 යි  
 සමාන වේ



ii. 32

x 5

160 යි

iii. නිවැරදි නිරූපණ වලට ලකුණු ලබාදෙන්න

iv. නොහැක

එය 3 හි ගුණාකාරයක් නොවන නිසා

05. i.

පැය විනාඩි

2 50

එකතුව

6 30

ii. පැ මිනිත්තු

11 00

7 10

3 50

පැය 3 විනාඩි 50 යි

iii. 45 x 4 - විනාඩි 180

30 x 6 - විනාඩි 180

එම කාලයන් සමානය

iv. බසයෙන්

1 15

දුම්රියෙන්

2 30

මුළු කාලය

පැය 3 විනාඩි 45 යි

06. i. A - බටහිර

G - දකුණ

D - ඊසාන

ii. D - ඊසාන

F - ගිනිකොණ

H - නිරිත

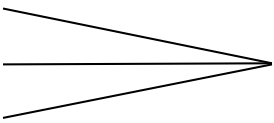
B - වයඹ (මේවායින් 3 ක් )

iii. නිවැරදි නිරූපණයට ලකුණු දෙන්න

iv. නැගෙනහිරට හැරෙන වාර ගණන

දකුණට හැරෙන වාර ගණන මෙන් දෙගුණයකි

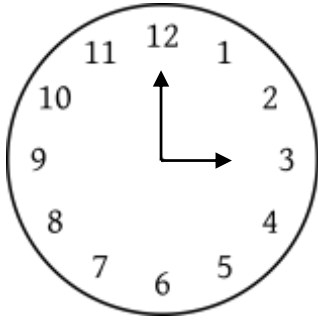
07. i. බුදුරැස් මාලාව  
 පිඟාන  
 පුන් සඳු



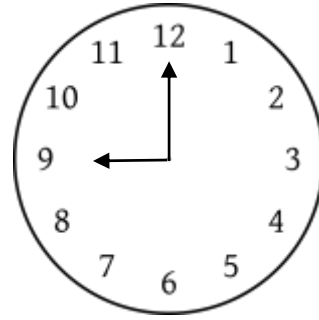
වෘත්තාකාර හැඩය

ii. සුළුකෝණ 3  
 මහා කෝණ 2  
 සාජ් කෝණ 0 හෝ නැත

iii.



3.00



9.00

iv. a. 3 6  
 b. කෝණ ගණන නැමු වාර ගණන මෙවන් දෙගුණයකි.