

ශ්‍රී ලංකා විභාග දෙපාර්තමේන්තුව ශ්‍රී ලංකා විභාග දෙපාර්තමේන්තුව ශ්‍රී ලංකා විභාග දෙපාර්තමේන්තුව ශ්‍රී ලංකා විභාග දෙපාර්තමේන්තුව ශ්‍රී ලංකා විභාග දෙපාර්තමේන්තුව
 இலங்கைப் பரீட்சைத் திணைக்களம் இலங்கைப் பரීட்சைத் திணைக்களம் இலங்கைப் பரීட்சைத் திணைக்களம் இலங்கைப் பரීட்சைத் திணைக்களம் இலங்கைப் பரීட்சைத் திணைக்களம்
 Department of Examinations, Sri Lanka Department of Examinations, Sri Lanka Department of Examinations, Sri Lanka Department of Examinations, Sri Lanka Department of Examinations, Sri Lanka
 இலங்கைப் பரීட்சைத் திணைக்களம், Sri Lanka Department of Examinations, Sri Lanka Department of Examinations, Sri Lanka
 ශ්‍රී ලංකා විභාග දෙපාර්තමේන්තුව ශ්‍රී ලංකා විභාග දෙපාර්තමේන්තුව ශ්‍රී ලංකා විභාග දෙපාර්තමේන්තුව ශ්‍රී ලංකා විභාග දෙපාර්තමේන්තුව ශ්‍රී ලංකා විභාග දෙපාර්තමේන්තුව
 இலங்கைப் பரීட்சைத் திணைக்களம் இலங்கைப் பரීட்சைத் திணைக்களம் இலங்கைப் பரීட்சைத் திணைக்களம் இலங்கைப் பரීட்சைத் திணைக்களம் இலங்கைப் பரීட்சைத் திணைக்களம்
 Department of Examinations, Sri Lanka Department of Examinations, Sri Lanka Department of Examinations, Sri Lanka Department of Examinations, Sri Lanka Department of Examinations, Sri Lanka

අධ්‍යයන පොදු සහතික පත්‍ර (උසස් පෙළ) විභාගය, 2022(2023)
கல்விப் பொதுத் தராதரப் பத்திர (உயர் தரப் பரீட்சை, 2022(2023))
General Certificate of Education (Adv. Level) Examination, 2022(2023)

භෞතික විද්‍යාව I
பௌதிகவியல் I
Physics I

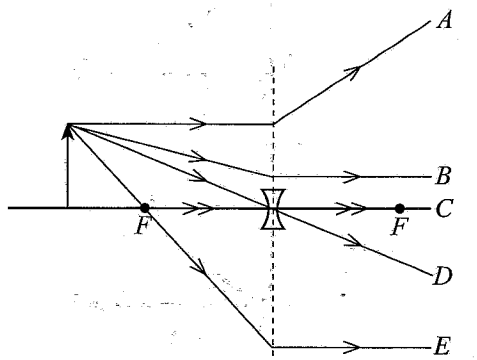


පැය දෙකයි
இரண்டு மணித்தியாலம்
Two hours

උපදෙස්:
 * මෙම ප්‍රශ්න පත්‍රයේ ප්‍රශ්න 50ක්, පිටු 11ක අඩංගු වේ.
 * සියලුම ප්‍රශ්නවලට පිළිතුරු සපයන්න.
 * පිළිතුරු පත්‍රයේ නියමිත ස්ථානයේ ඔබේ විභාග අංකය ලියන්න.
 * පිළිතුරු පත්‍රයේ පිටුපස දී ඇති උපදෙස් සැලකිලිමත්ව කියවන්න.
 * 1 සිට 50 තෙක් වූ එක් එක් ප්‍රශ්නය සඳහා දී ඇති (1), (2), (3), (4), (5) යන පිළිතුරුවලින් කිවැරදි හෝ ඉතාමත් ගැළපෙන හෝ පිළිතුරු තෝරා ගෙන, එය, පිළිතුරු පත්‍රයේ පිටුපස දැක්වෙන උපදෙස් පරිදි කතිරයකින් (X) ලකුණු කරන්න.
ගණක යන්ත්‍ර භාවිතයට ඉඩ දෙනු නොලැබේ.
(g = 10 m s⁻²)

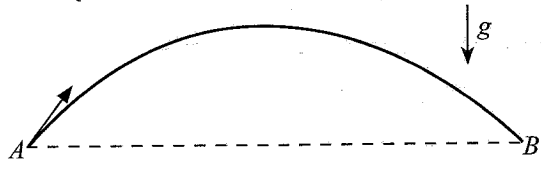
- පහත දක්වා ඇති රාශී යුගල අතුරෙන් කුමක් පිළිවෙලින් දෛශිකයකින් හා අදියයකින් සමන්විත වන්නේ ද?
 (1) ස්කන්ධය, ප්‍රවේගය (2) ක්ෂමතාව, වේගය
 (3) කාර්යය, දුර (4) බලය, විභව ශක්තිය
 (5) ගම්‍යතාව, ව්‍යාවර්තය
- වස්තුවක් මත ක්‍රියාකරන ඒකාකල බල දෙකක විශාලත්වයන් 11 N සහ 5 N වේ. ඒවායේ සම්ප්‍රයුක්ත බලයේ විශාලත්වයට සමාන විය නොහැක්කේ පහත දක්වා ඇති අගයන් අතුරෙන් කුමක් ද?
 (1) 16N (2) 9N (3) 7N (4) 6N (5) 5N
- සංගීත භාණ්ඩයකින් නිපදවෙන ශබ්දයේ ධ්වනි ගුණය රඳා පවතින්නේ,
 (1) ශබ්දයේ සංඛ්‍යාතය මත ය. (2) ශබ්දයේ විස්තාරය මත ය.
 (3) ශබ්දයේ තීව්‍රතාව මත ය. (4) ශබ්දයේ තරංග ආයාමය මත ය.
 (5) ශබ්දයේ උපරිතාන පැවතීම මත ය.
- ස්ථාවර චුම්බක ක්ෂේත්‍රයක් අන්තර් ක්‍රියාවක් සිදු නොකරන්නේ ඕනෑම,
 (1) අවල විද්‍යුත් ආරෝපණ සමග ය. (2) චලනය වන විද්‍යුත් ආරෝපණ සමග ය.
 (3) ධාරාවක් ධගෙන යන කම්බි සමග ය. (4) අවල නිත්‍ය චුම්බක සමග ය.
 (5) චලනය වන නිත්‍ය චුම්බක සමග ය.
- විදුලි මෝටරයක විද්‍යුත් ප්‍රතිගාමක බලය උපරිම වන්නේ,
 (1) මෝටරය ක්‍රියාත්මක නොවන විට ය.
 (2) මෝටරය ක්‍රියාත්මක වීම ආරම්භ කරන විට ය.
 (3) මෝටරයේ වේගය වැඩි වන විට ය.
 (4) මෝටරය එහි උපරිම වේගයෙහි පවතින විට ය.
 (5) මෝටරයේ වේගය අඩුවන විට ය.

- රූපයේ ඇඳ ඇති කිරණ අතුරෙන් නිවැරදි නොවන්නේ කුමක් ද?
 (1) A (2) B (3) C
 (4) D (5) E



[දෙවැනි පිටුව බලන්න.

7. \bar{u} ක්වාක්කය (\bar{u} quark) ආරෝපණය වන්නේ කුමක් ද? (මූලික ආරෝපණය e වේ)
- (1) 0 (2) $+\frac{1}{3}e$ (3) $+\frac{2}{3}e$ (4) $-\frac{2}{3}e$ (5) $-\frac{1}{3}e$
8. සූර්යයාගේ පෘෂ්ඨයේ උෂ්ණත්වය 6000 K වන අතර එය උච්ච තරංග ආයාමය 500 nm වූ කෘෂ්ණ වස්තු විකිරණ විමෝචනය කරයි. පෘෂ්ඨ උෂ්ණත්වය 10 000 K වන කෘෂ්ණ වස්තුවකින් විමෝචනය වන විකිරණවල උච්ච තරංග ආයාමය වන්නේ කුමක් ද?
- (1) 30 nm (2) 300 nm (3) 500 nm (4) 600 nm (5) 800 nm
9. A ලක්ෂ්‍යයෙන් ප්‍රක්ෂේපණය කරන ලද බෝලයක AB පෙත රූපයෙන් පෙන්වා ඇත. වායු ප්‍රතිරෝධය නොසලකා හරින්න.



- පහත ප්‍රකාශ සලකා බලන්න.
- (A) පෙතෙහි උපරිම උසේදී බෝලයේ ප්‍රවේගය ශුන්‍ය වේ.
 (B) B ලක්ෂ්‍යයේදී බෝලයේ ප්‍රවේගය A ලක්ෂ්‍යයේදී ප්‍රවේගයට සමාන වේ.
 (C) B ලක්ෂ්‍යයේදී බෝලයේ වාලක ශක්තිය A ලක්ෂ්‍යයේදී වාලක ශක්තියට සමාන වේ.
- ඉහත ප්‍රකාශ අතුරෙන්,
- (1) (A) පමණක් සත්‍ය වේ. (2) (C) පමණක් සත්‍ය වේ.
 (3) (B) සහ (C) පමණක් සත්‍ය වේ. (4) (A) සහ (C) පමණක් සත්‍ය වේ.
 (5) (A), (B) සහ (C) යන සියල්ලම සත්‍ය වේ.

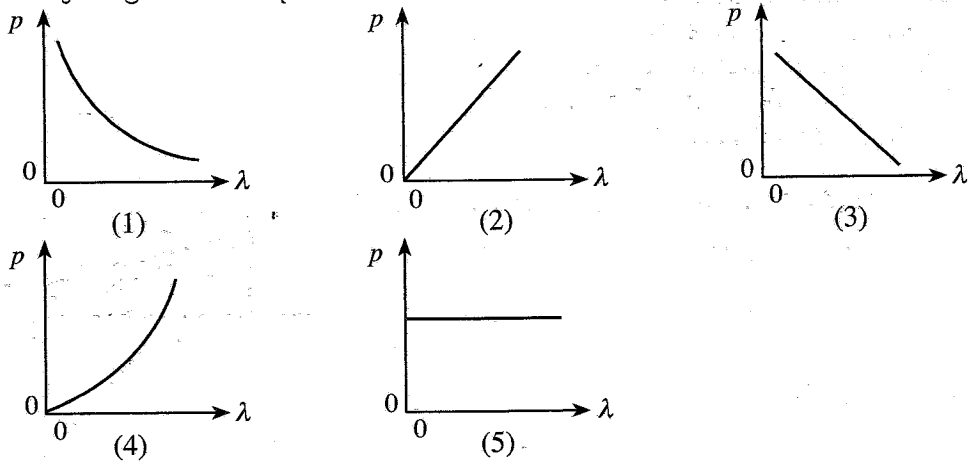
10. කම්බියක ද්‍රව්‍යයේ යං මාපාංකය රඳා පවතිනුයේ
- (A) කම්බියේ ආරම්භක දිග මත ය.
 (B) කම්බියේ හරස්කඩ වර්ගඵලය මත ය.
 (C) කම්බියේ ද්‍රව්‍යයේ ස්වභාවය මත ය.

- ඉහත ප්‍රකාශ අතුරෙන්,
- (1) (A) පමණක් සත්‍ය වේ. (2) (B) පමණක් සත්‍ය වේ.
 (3) (C) පමණක් සත්‍ය වේ. (4) (A) සහ (C) පමණක් සත්‍ය වේ.
 (5) (A), (B) සහ (C) සියල්ලම සත්‍ය වේ.

11. සමාන්තර ලෝහ තහඩු යුගලයක් අතර 200 V m^{-1} තීව්‍රතාවක් ඇති ඒකාකාර විද්‍යුත් ක්ෂේත්‍රයක් යොදා ඇත. 10 V ක විභව අන්තරයක් ඇති කිරීම සඳහා තහඩු අතර පරතරය කොපමණ විය යුතු ද?
- (1) 20 mm (2) 30 mm (3) 50 mm (4) 20 m (5) 30 m

12. නවතා ඇති මෝටර් රථයක අනතුරු ඇඟවීමේ නළාවක් සංඛ්‍යාතය 510 Hz වූ ධ්වනි තරංග පිට කරයි. යතුරුපැදි කරුවෙක් මෝටර් රථයෙන් කෙළින්ම ඉවතට ගමන් කරයි. අනතුරු ඇඟවීමේ නළාවේ සංඛ්‍යාතය 480 Hz ලෙසින් ඔහුට ඇසේ නම් ඔහුගේ ප්‍රවේගය කොපමණ ද? (වාතයේ ධ්වනි වේගය 340 ms^{-1} වේ)
- (1) 10 m s^{-1} (2) 15 m s^{-1} (3) 20 m s^{-1} (4) 25 m s^{-1} (5) 30 m s^{-1}

13. අංශුවක ගම්‍යතාවය (p) එහි ඩි බ්‍රොග්ලි (de Broglie) තරංග ආයාමය (λ) සමග විචලනය වඩාත්ම හොඳින් නිරූපණය වන්නේ පහත කුමන ප්‍රස්තාරයෙන් ද?

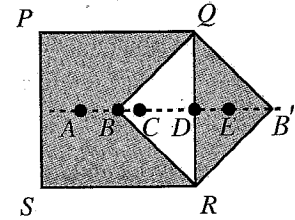


21. සුනාමි තරංග පිළිබඳ පහත ප්‍රකාශ සලකා බලන්න. එම තරංගවල
- (A) තරංග ආයාම නොගැඹුරු ජලයේදී වඩා ගැඹුරු ජලයේදී කුඩා වේ.
 - (B) වේග නොගැඹුරු ජලයේදී වඩා ගැඹුරු ජලයේදී විශාල වේ.
 - (C) විස්තාර නොගැඹුරු ජලයේදී වඩා ගැඹුරු ජලයේදී විශාල වේ.

ඉහත ප්‍රකාශ අතුරෙන්,

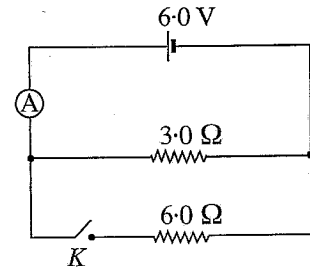
- (1) (A) පමණක් සත්‍ය වේ.
- (2) (B) පමණක් සත්‍ය වේ.
- (3) (A) සහ (C) පමණක් සත්‍ය වේ.
- (4) (B) සහ (C) පමණක් සත්‍ය වේ.
- (5) (A), (B) සහ (C) යන සියල්ලම සත්‍ය වේ.

22. ඒකාකාර සමචතුරස්‍ර PQRS තහඩුවකින් ත්‍රිකෝණාකාර QBR කොටස ඉවත් කොට රූපයේ පෙන්වා ඇති පරිදි එය සම්බන්ධ කිරීමෙන් PQB'RS සංයුක්ත තහඩුව සාදා ඇත. සංයුක්ත තහඩුවේ ගුරුත්ව කේන්ද්‍රය පිහිටීමට වඩාත්ම ඉඩ ඇති ලක්ෂ්‍යය වනුයේ



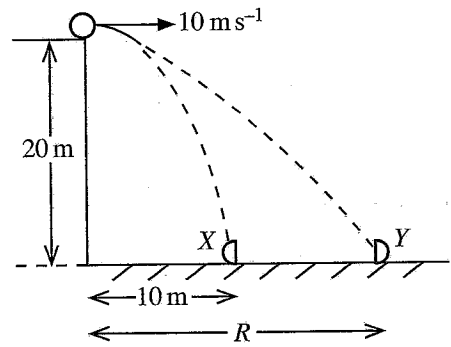
- (1) A
- (2) B
- (3) C
- (4) D
- (5) E

23. සමාන්තරගතව සම්බන්ධ කොට ඇති 3.0Ω ප්‍රතිරෝධකයක් සහ 6.0Ω ප්‍රතිරෝධකයක් සමග වි.ගා. බලය 6.0 V වන බැටරියක් සම්බන්ධ කළ පරිපථයක් රූපයේ පෙන්වා ඇත. K ස්විච්චය විවෘත කළ විට පරිපූර්ණ ඇමීටරයෙහි පාඨාංකය 1.5 A වේ. K ස්විච්චය වැසූ විට ඇමීටරයේ පාඨාංකය කොපමණ ද?



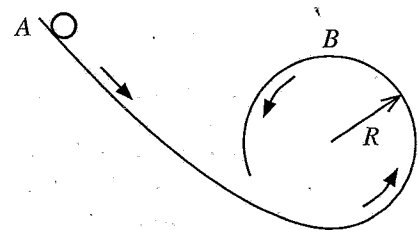
- (1) 1.0 A
- (2) 1.2 A
- (3) 1.5 A
- (4) 2.0 A
- (5) 3.0 A

24. උස 20 m වන ගොඩනැගිල්ලක ඉහළ කෙළවරේ සිට 10 m s^{-1} ප්‍රවේගයකින් බෝලයක් තිරස්ව ප්‍රක්ෂේපණය කරනු ලැබේ. බෝලය වැටෙන අතරතුරේදී X සහ Y සර්වසම කොටස් දෙකකට වෙන් වේ. පසුව X සහ Y කොටස් දෙක රූපයේ පෙන්වා ඇති අයුරින් ගොඩනැගිල්ලේ සිට පිළිවෙළින් 10 m සහ R තිරස් දුරවලදී පොළොවට එකම මොහොතේ පතිත වේ. වායු ප්‍රතිරෝධය නොසලකා හරින්න. R දුර කොපමණ ද?



- (1) 20 m
- (2) 30 m
- (3) 40 m
- (4) 50 m
- (5) 60 m

25. බෝලයක් A ලක්ෂ්‍යයෙන් මුදා හැර සර්වසමයෙන් තොර පිල්ලක් ඔස්සේ රූපයේ පෙන්වා ඇති අයුරින් ගමන් කරයි. ඊළඟට බෝලය අරය R වූ වෘත්තාකාර පිලි කොටසේ ඇතුළු පෘෂ්ඨයේ B ලක්ෂ්‍යය යන්ත්‍රමයින් ස්පර්ශ කරයි. B ලක්ෂ්‍යයේදී බෝලයේ ප්‍රවේගය කුමක් ද?



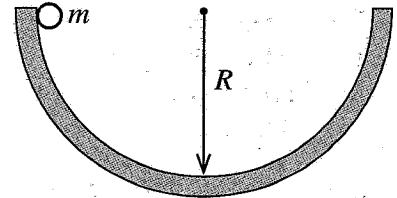
- (1) 0
- (2) \sqrt{gR}
- (3) $2\sqrt{gR}$
- (4) $\sqrt{5gR}$
- (5) $4\sqrt{gR}$

26. වෘත්තාකාර පරිධිය දිගේ තබා ඇති සර්වසම සංගීත භාණ්ඩ දහයක් මගින් 50 dB ක ධ්වනි තීව්‍රතා මට්ටමක් වෘත්තයේ කේන්ද්‍රයේ ඇති කරයි. කේන්ද්‍රයේදී 60 dB ක ධ්වනි තීව්‍රතා මට්ටමක් ඇති කිරීම සඳහා සර්වසම සංගීත භාණ්ඩ කොපමණ සංඛ්‍යාවක් වෘත්තයේ පරිධිය දිගේ තැබීමට අවශ්‍ය වේ ද?

- (1) 10
- (2) 20
- (3) 50
- (4) 100
- (5) 200

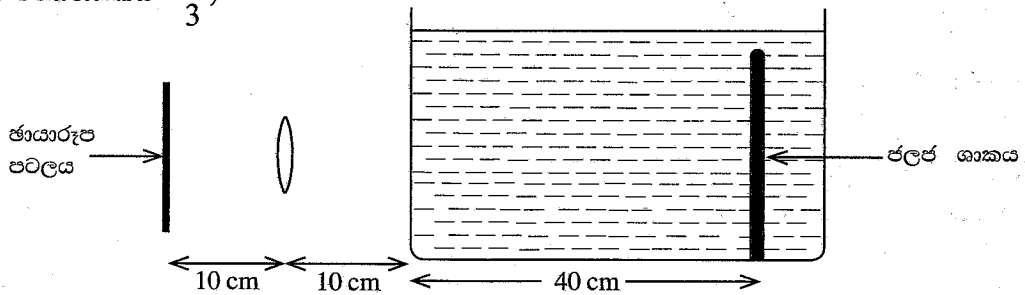
27. අරය R වන අර්ධගෝලාකාර පාත්‍රයක ගැට්ටේ සිට ස්කන්ධය m වන ගෝලයක් රූපයේ පෙන්වා ඇති අයුරින් මුදා හැරේ. ගෝලය කිහිපවරක් දෝලනය වී සර්ඡණය නිසා අවසානයේදී එය පාත්‍රයේ පතුලේ නවතී. මෙම ක්‍රියාවලියේදී ගෝලය මත ක්‍රියා කරන ගුරුත්වාකර්ෂණ බලය සහ අභිලම්බ ප්‍රතික්‍රියා බලය මගින් කෙරෙන කාර්යය පිළිබඳ සත්‍ය වන්නේ කුමක් ද?

	ගුරුත්වාකර්ෂණ බලය මගින් කෙරෙන කාර්යය	අභිලම්බ ප්‍රතික්‍රියා බලය මගින් කෙරෙන කාර්යය
(1)	0	0
(2)	$\frac{1}{2} mgR$	0
(3)	mgR	0
(4)	0	mgR
(5)	mgR	mgR



28. පුද්ගලයෙක් තුනී වීදුරු බිත්ති සහිත බඳුනක් තුළ ඇති ජලයේ උත්තල කාචයක් භාවිතයෙන් ඡායාරූප ගත කරයි. බඳුන ජලයෙන් පිරී ඇත. ඡායාරූප පටලය, කාචය සහ ජලයේ උත්තල කාචයේ පෙන්වා ඇති පරිදි ස්ථානගතව ඇති විට ජලයේ පැහැදිලි ප්‍රතිබිම්බයක් ඡායාරූප පටලය මත සටහන් වේ.

(ජලයේ වර්තනාංකය $= \frac{4}{3}$)

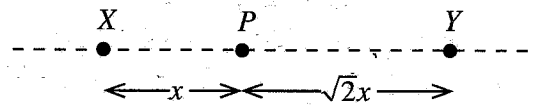


උත්තල කාචයේ නාභීය දුර කොපමණ ද?

- (1) 8.0 cm (2) $\frac{25}{3}$ cm (3) $\frac{110}{13}$ cm (4) 9.0 cm (5) $\frac{40}{3}$ cm

29. රූපයේ පෙන්වා ඇති පරිදි X සහ Y ලක්ෂ්‍යයීය ආරෝපණ දෙකක් සරල රේඛාවක් දිගේ අවලව තබා ඇත. X හි ආරෝපණය $+q$ වේ. ලක්ෂ්‍යයීය සෘණ ආරෝපණයක් P ලක්ෂ්‍යයේ තැබූ විට එය අවලව පවතී. Y හි ආරෝපණය කුමක් ද? ආරෝපණ මත ක්‍රියාකරන අනෙකුත් සියලුම බල නොසලකා හරින්න.

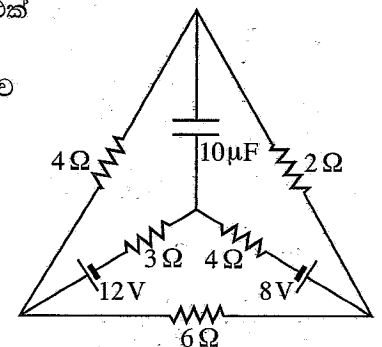
- (1) $-\frac{1}{\sqrt{2}}q$ (2) $-\frac{1}{2}q$ (3) $+\frac{1}{2}q$
 (4) $+\frac{1}{\sqrt{2}}q$ (5) $+2q$




30. අභ්‍යන්තර ප්‍රතිරෝධය නොගිණිය හැකි බැටරි දෙකක්, ප්‍රතිරෝධක පහක් සහ එක් ධාරිත්‍රකයක් අඩංගු පරිපථයක් රූපයේ පෙන්වයි.

පරිපථය අනවරත අවස්ථාවට පත් වූ පසු 3 Ω ප්‍රතිරෝධකය හරහා ගලන ධාරාව කොපමණ ද?

- (1) 0.1 A (2) 0.2 A (3) 0.4 A
 (4) 0.8 A (5) 1.0 A



31. අසමාන හරස්කඩ ඇති ධාරාවක් රැගෙන යන ලෝහ කම්බියක් රූපයේ පෙන්වා ඇත. පහත ප්‍රකාශ සලකා බලන්න.

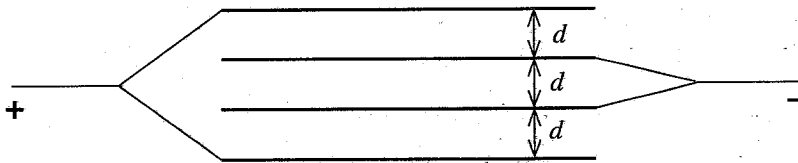


- (A) කම්බිය තුළ ධාරාව සෑම තැනකදීම එකම වේ.
- (B) කම්බියේ තුනී කොටසේ ක්ෂමතා උත්සර්ජනය පළල් කොටසේදීට වඩා වැඩි ය.
- (C) තුනී කොටසේදී ඉලෙක්ට්‍රෝනවල ජ්‍යෙෂ්ඨ ප්‍රවේගය පළල් කොටසේදීට වඩා වැඩිය.

ඉහත ප්‍රකාශ අතුරෙන්,

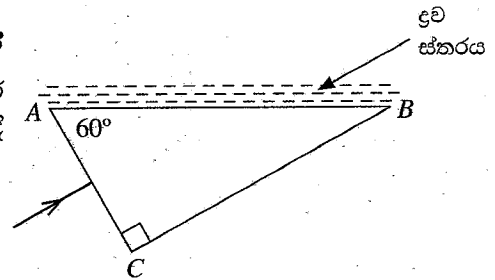
- (1) (A) පමණක් සත්‍ය වේ.
- (2) (B) පමණක් සත්‍ය වේ.
- (3) (A) සහ (C) පමණක් සත්‍ය වේ.
- (4) (B) සහ (C) පමණක් සත්‍ය වේ.
- (5) (A), (B) සහ (C) යන සියල්ලම සත්‍ය වේ.

32. රූපයේ පෙන්වා ඇති පරිදි ලෝහ තහඩු හතරක් එකිනෙක අතර පරතරය d වන සේ තබා ඇත. එක් එක් තහඩුව අනෙක සමග අතිවිභාදනය වන වර්ගඵලය A වේ. පද්ධතියේ සමක ධාරණාව කුමක් ද?



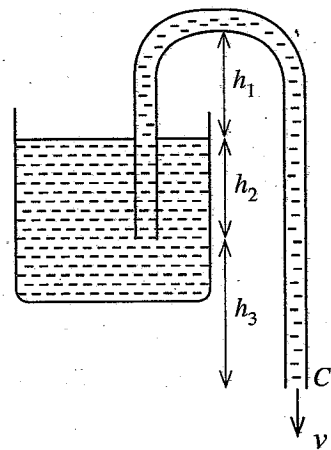
- (1) $\frac{1}{3} \frac{\epsilon_0 A}{d}$
- (2) $\frac{1}{2} \frac{\epsilon_0 A}{d}$
- (3) $\frac{\epsilon_0 A}{d}$
- (4) $2 \frac{\epsilon_0 A}{d}$
- (5) $3 \frac{\epsilon_0 A}{d}$

33. රූපයේ පෙන්වා ඇති පරිදි විදුරු ප්‍රිස්මයක AC මුහුණත මත ඒකවර්ණ ආලෝක කිරණයක් අභිලම්බව පතනය වේ. විදුරුවල වර්තනාංකය $\frac{3}{2}$ කි. වර්තනාංකය n වන පාරදෘශ්‍ය ද්‍රව ස්තරයක් ප්‍රිස්මයේ AB මුහුණත මත අතුරා ඇත. AB පෘෂ්ඨයෙන් කිරණය පූර්ණ අභ්‍යන්තර පරාවර්තනයට බඳුන් වීම සඳහා n සම්බන්ධයෙන් පහත කුමක් නිවැරදි වේ ද?



- (1) $n < \frac{3\sqrt{3}}{8}$
- (2) $n < \frac{3}{4}$
- (3) $n < \frac{3\sqrt{3}}{4}$
- (4) $n > \frac{3\sqrt{3}}{8}$
- (5) $n > \frac{3\sqrt{3}}{4}$

34. ද්‍රවයකින් පුරවන ලද සයිපනයක් රූපයේ දැක්වේ. අනුරූප උස රූපයේ සටහන් කොට ඇත. සයිපනයේ C ලක්ෂ්‍යයෙන් නිකුත්වන ද්‍රවයේ වේගය (v) කුමක් වේ ද? ද්‍රව බඳුනේ හරස්කඩ වර්ගඵලය නළයේ හරස්කඩ වර්ගඵලයට වඩා විශාල බවක් ප්‍රවාහය අනවරත හා දුස්ස්‍රාවී නොවන බවක් උපකල්පනය කරන්න.

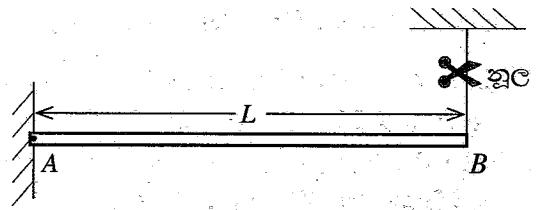


- (1) $v = \sqrt{2g(h_1 + h_2 + h_3)}$
- (2) $v = \sqrt{2g(h_1 + h_2)}$
- (3) $v = \sqrt{2g(h_1 + h_3)}$
- (4) $v = \sqrt{2g(h_2 + h_3)}$
- (5) $v = \sqrt{2gh_3}$

35. ස්කන්ධය M සහ දිග L වූ ඒකාකාර AB දණ්ඩක් රූපයේ පෙන්වා ඇති පරිදි A කෙළවරින් සුමටව අසව කොට B කෙළවරට ඇඳූ නූලක් මගින් දණ්ඩ තිරස්ව තබා ඇත. නූල කැපූ පසු B කෙළවරේ ආරම්භක සිරස් රේඛීය ත්වරණය කුමක් ද?

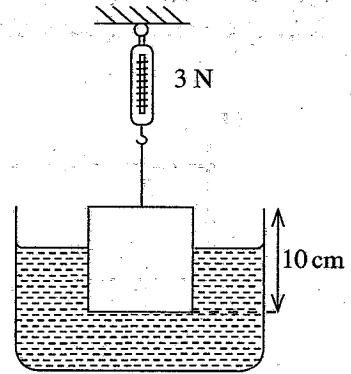
A කෙළවර වටා දණ්ඩේ අවස්ථිති ඝූර්ණය $\frac{1}{3}ML^2$ වේ.

- (1) $\frac{2}{3}g$ (2) $\frac{3}{4}g$ (3) g
 (4) $\frac{3}{2}g$ (5) $2g$



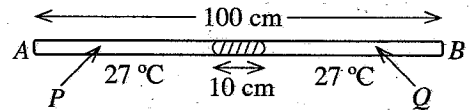
36. පැත්තක දිග 10 cm වන සමජාතීය ලී ඝනකයක් රූපයේ පෙන්වා ඇති පරිදි දුනු තරාදියකට ගැට ගැසූ සැහැල්ලු තන්තුවක් මගින් ජල ටැංකියක් තුළ එල්ලා ඇත. ලී ඝන ජලයේ ඝනත්ව පිළිවෙළින් 800 kg m^{-3} සහ 1000 kg m^{-3} වේ. තරාදියේ පාඨාංකය 3 N නම් ජලය තුළ ඇති ලී පරිමාව කොපමණ ද?

- (1) 400 cm^3 (2) 500 cm^3 (3) 600 cm^3
 (4) 700 cm^3 (5) 800 cm^3



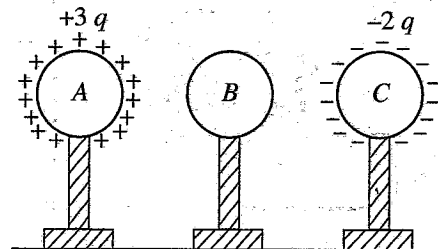
37. දෙකෙළවරම මුද්‍රා තබා ඇති AB ඒකාකාර විදුරු නළයක දිග 100 cm වේ. එය තිරස්ව තබා ඇති අතර වායු කඳන් දෙකම (P සහ Q) 27°C උෂ්ණත්වයක සහ එකම පීඩනයක පවතින විට 10 cm දිගැති රසදිය කඳක් නළයේ හරි මැද සිරවී ඇත. P සහ Q වායු කඳන්වල උෂ්ණත්වය පිළිවෙළින් 47°C සහ 127°C දක්වා වැඩි කළේ නම් වායු කඳන්වල දිග අතර වෙනස කොපමණ වේ ද? රසදිය සහ විදුරුවල ප්‍රසාරණය නොසලකා හරින්න.

- (1) 5 cm (2) 6 cm (3) 8 cm
 (4) 10 cm (5) 12 cm



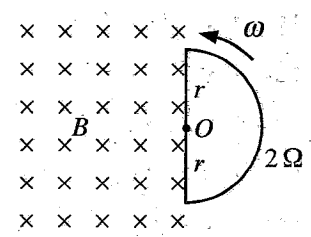
38. A , B සහ C යන සර්වසම ඝනත්වයක ගෝල තුනක් පරිවාරක ආධාරක මත රඳවා රූපයේ පෙන්වා ඇති පරිදි ඇත් කොට තබා ඇත. A ගෝලයට $+3q$ ආරෝපණයක් ද C ට $-2q$ ආරෝපණයක් ද ලබාදී ඇත. B ගෝලයේ සඵල ආරෝපණයක් නැත. ඊළඟට B ගෝලය පළමුව C ගෝලයට ස්පර්ශ කොට දෙවනුව B ගෝලය A ගෝලයට ස්පර්ශ කොට අවසානයේ ගෝල ආරම්භක ස්ථානවලට ගෙන යන ලදී. එක් එක් ගෝලයේ ඉතිරිව පවතින අවසාන ආරෝපණය වන්නේ,

	A ගෝලය	B ගෝලය	C ගෝලය
(1)	$+3q$	$-q$	$-q$
(2)	$+2q$	0	$-q$
(3)	$+2q$	$-q$	0
(4)	$+q$	$-q$	$+q$
(5)	$+q$	$+q$	$-q$



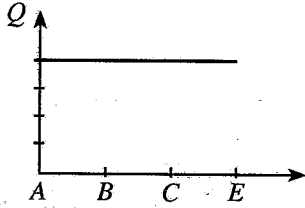
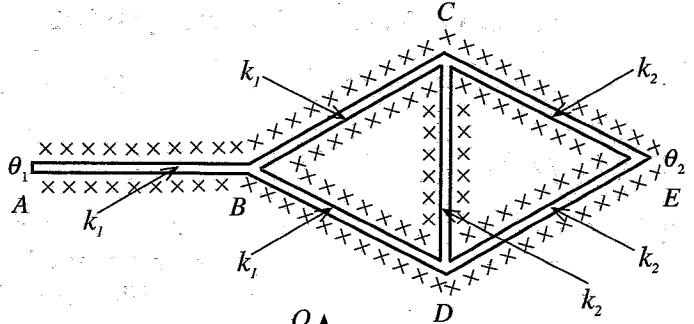
39. රූපයේ පෙන්වා ඇති පරිදි සුව ඝනත්වය B වන ඒකාකාර චුම්බක ක්ෂේත්‍රයක් කඩදාසියේ තලය තුළට යොමුව ඇත. අරය r වන අර්ධ වෘත්තාකාර ඝනත්වයක පුඩුවක් තලයට ලම්බව O කේන්ද්‍රය වටා ω ඒකාකාර කෝණික ප්‍රවේගයකින් භ්‍රමණය වේ. පුඩුවේ ප්‍රතිරෝධය 2Ω වේ. පුඩුවේ ප්‍රේරණය වන ධාරාවේ විශාලත්වය කුමක් ද?

- (1) $\frac{1}{4}\omega r^2 B$ (2) $\frac{1}{2}\omega r^2 B$ (3) $\omega r^2 B$
 (4) $2\omega r^2 B$ (5) $4\omega r^2 B$

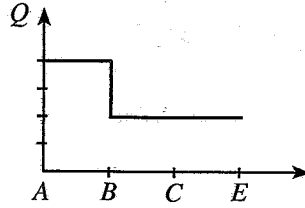


40. AB, BC, BD, CD, CE සහ DE ඒකාකාර දඬු හයක් රූපයේ පෙන්වා ඇති පරිදි සම්බන්ධ කොට ඇත. සියලු දඬුවලට සර්වසම දිග හා හරස්කඩ වර්ගඵලයක් ඇත. AB, BC සහ BD දඬු සාදා ඇති ද්‍රව්‍යයේ තාප සන්නායකතාව k_1 වන අතර CD, CE සහ DE දඬු සාදා ඇති ද්‍රව්‍යයේ තාප සන්නායකතාව k_2 වේ.

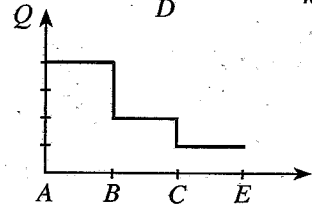
සියලු දඬු හොඳින් අවුරා ඇති අතර A සහ E දෙකෙළවර පිළිවෙලින් θ_1 සහ θ_2 උෂ්ණත්වවල ($\theta_1 > \theta_2$) පවත්වාගෙන ඇත. අනවරත අවස්ථාවට පැමිණි පසු AB, BC සහ CE දඬු ඔස්සේ තාපය ගලා යෑමේ ශීඝ්‍රතාවයේ (Q) විචලනය වඩාත්ම හොඳින් නිරූපණය වන්නේ කුමන ප්‍රස්තාරයෙන් ද?



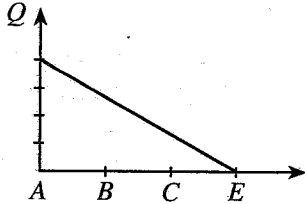
(1)



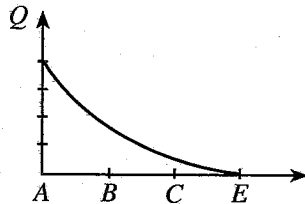
(2)



(3)

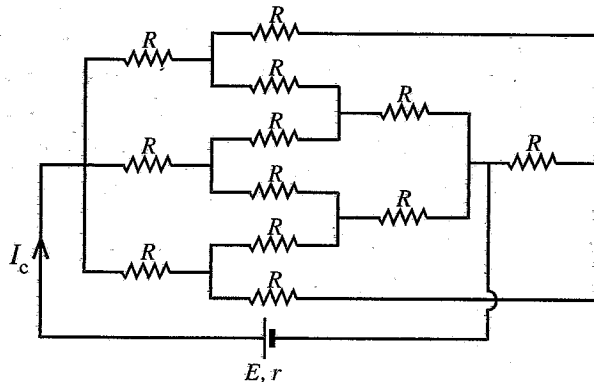
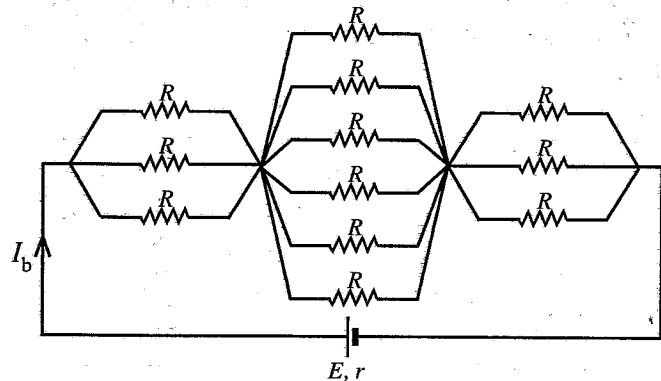
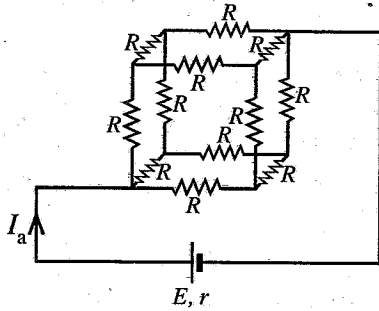


(4)



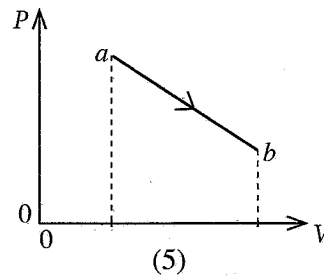
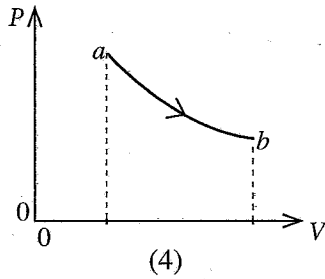
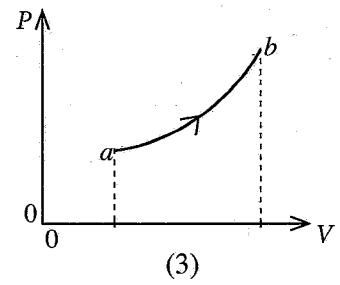
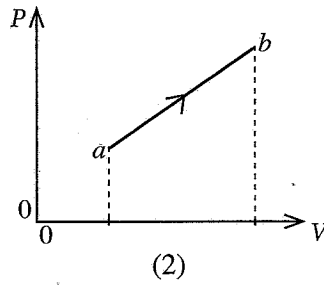
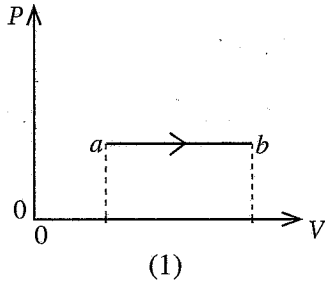
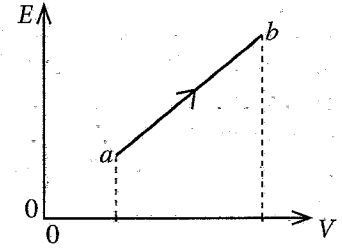
(5)

41. ප්‍රතිරෝධක 12ක් භාවිත කොට තනා ඇති පරිපථ තුනක් රූපවල පෙන්වා ඇත. පිළිවෙලින් පරිපථ හරහා ගලන ධාරා I_a, I_b සහ I_c අතර නිවැරදි සම්බන්ධතාවය දෙනු ලබන්නේ පහත කුමකින් ද?

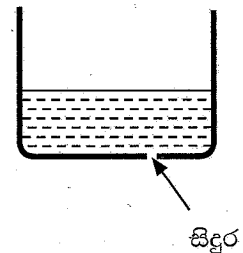


- (1) $I_a > I_b > I_c$
- (2) $I_a < I_b < I_c$
- (3) $I_a = I_b > I_c$
- (4) $I_a = I_b < I_c$
- (5) $I_a = I_b = I_c$

42. a සිට b දක්වා වූ කාපගතික ක්‍රියාවලියක් තුළදී පරිපූර්ණ වායුවක දී ඇති ස්කන්ධයක පරිමාව V සමග එහි මධ්‍යන්‍ය වාලන ශක්තිය E විචලනය වන අයුරු රූපයේ පෙන්වයි. වායුවේ පරිමාව V සමග පීඩනය P හි අනුරූප විචලනය වඩාත්ම හොඳින් නිරූපණය වන්නේ,



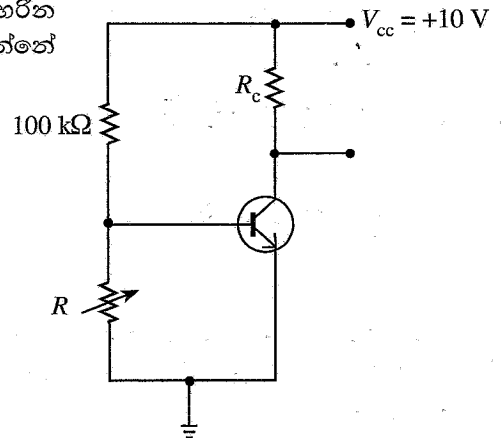
43. හරස්කඩ වර්ගඵලය A වන සිලින්ඩරාකාර බඳුනක පතුලේ රූපයේ පෙන්වා ඇති පරිදි අරය r වූ කුඩා සිදුරක් ඇත. පෘෂ්ඨික ආතතිය T වන ද්‍රවයක් බඳුනේ යම් උසකට පිරවූ විට ද්‍රවය සිදුර හරහා කාන්දු වීමට පටන් ගනී. එම උසෙන් හරි අඩකට ද්‍රවය පුරවා වස්තුවක් ද්‍රවයේ මතුපිට පා කරන ලදී. සිදුර හරහා ද්‍රවය කාන්දුවීම සඳහා වස්තුවට තිබිය යුතු අවම ස්කන්ධය කුමක් ද?



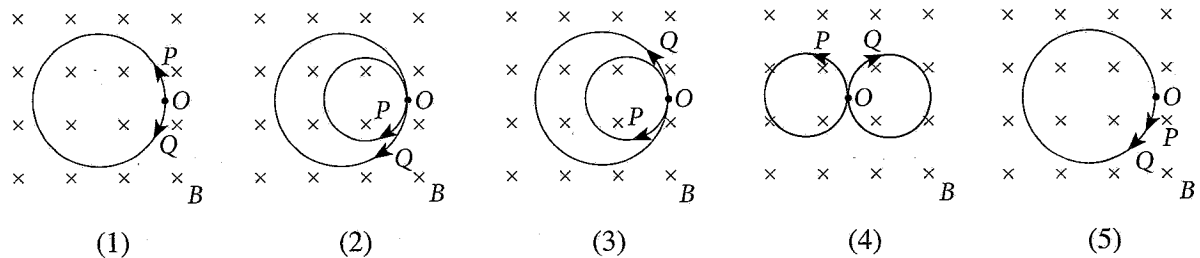
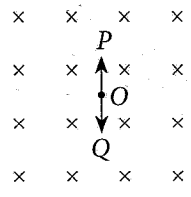
- (1) $\frac{AT}{2rg}$
- (2) $\frac{AT}{rg}$
- (3) $\frac{2AT}{rg}$
- (4) $\frac{rg}{AT}$
- (5) $\frac{2rg}{AT}$

44. පෙන්වා ඇති සිලිකන් ට්‍රාන්සිස්ටර පරිපථය පිළිවෙලින් කපාහරින පෙදෙසට සහ ක්‍රියාකාරී පෙදෙසට යොමු කරවන R හි අගයන් වන්නේ මොනවා ද?

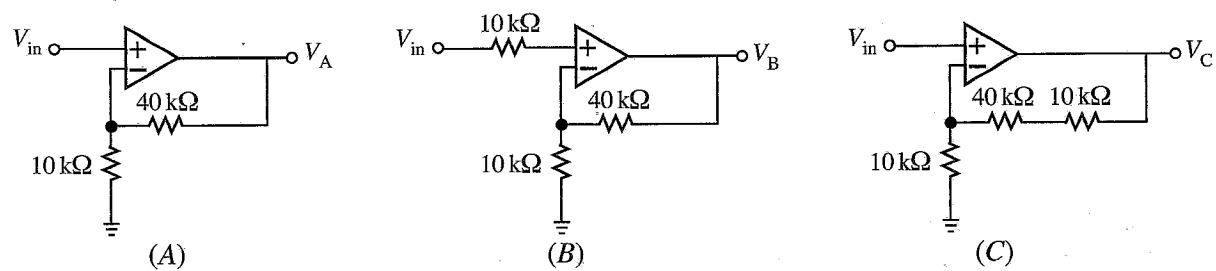
- (1) $5\text{ k}\Omega$, $1.0\text{ k}\Omega$
- (2) $5\text{ k}\Omega$, $2.5\text{ k}\Omega$
- (3) $5\text{ k}\Omega$, $7.5\text{ k}\Omega$
- (4) $100\text{ k}\Omega$, $10\text{ k}\Omega$
- (5) $100\text{ k}\Omega$, $50\text{ k}\Omega$



45. රූපයේ පෙන්වා ඇති පරිදි O ලක්ෂ්‍යයේ අවලව ඇති උදාසීන අංශුවක් සර්වසම ස්කන්ධ ඇති P සහ Q යන කුඩා ආරෝපිත අංශු දෙකකට ක්ෂය වේ. ප්‍රචාල සන්නිවේදන B වන නියත සහ ඒකාකාර චුම්බක ක්ෂේත්‍රයක් කඩදාසි තලය තුළට යොමු කොට ඇත. P සහ Q ආරෝපිත අංශු දෙකේ පට නිවැරදිව පෙන්වන්නේ පහත කුමකින් ද? (අංශු දෙක අතර ස්ථිති විද්‍යුත් අන්තර් ක්‍රියාව නොසලකා හරින්න.)



46. සර්වසම කාරකාන්තක වර්ධක මගින් සාදා ඇති A, B සහ C පරිපථ තුනක් රූපවල පෙන්වයි. පරිපූර්ණ වෝල්ටීයතා ප්‍රභවයකින් ලබාගත් V_{in} සර්වසම ප්‍රදාන වෝල්ටීයතා පරිපථ තුනටම යොදා ඇත. පරිපථ තුනේ අනුරූප ප්‍රතිදාන වෝල්ටීයතාවල විශාලත්ව $V_A, V_B,$ සහ V_C අතර ඇති නිවැරදි සසැලුම දෙනු ලබන්නේ පහත කුමකින් ද?



- (1) $V_A = V_B = V_C$
- (2) $V_A = V_B < V_C$
- (3) $V_A > V_B = V_C$
- (4) $V_A = V_B > V_C$
- (5) $V_A < V_B < V_C$

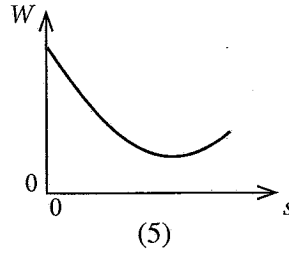
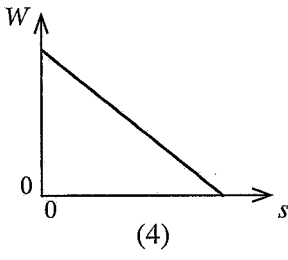
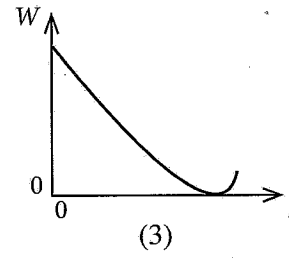
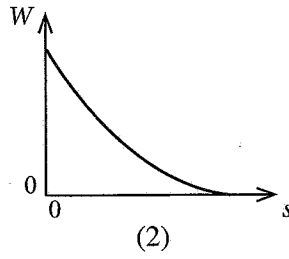
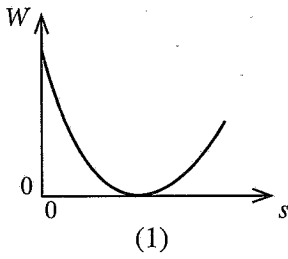
47. උෂ්ණත්වය 30°C සහ සාපේක්ෂ ආර්ද්‍රතාව (RH) 90% වූ පරිසරයේ ඇති වාතය 10°C දක්වා සිසිල් කොට වා සැකසුම් පිරිසකක් (air conditioning plant) මගින් වාතයේ ඇති යම් ජල වාෂ්ප ප්‍රමාණයක් ඉවත් කරන ලදී. ඊළඟට මෙම වාතය 20°C දක්වා රත් කොට පරිගණක විද්‍යාගාරයක් තුළට යවන ලදී. පිළිවෙලින් උෂ්ණත්ව $10^\circ\text{C}, 20^\circ\text{C}$ සහ 30°C දී සාපේක්ෂ ජල වාෂ්ප පීඩන a, b සහ c මගින් දෙනු ලබයි නම් පිරිසකෙන් ඉවත් කළ ජල වාෂ්ප අනුපාතය සහ 20°C දී වාතයේ අවසාන සාපේක්ෂ ආර්ද්‍රතාවය (RH) වන්නේ කුමක් ද?

- (1) $\frac{(0.9c - a)}{0.9c}, \frac{a \times 100}{b} \%$
- (2) $\frac{(0.9c - a)}{0.9c}, \frac{c \times 100}{b} \%$
- (3) $\frac{(0.9c - a)}{c}, \frac{a \times 100}{b} \%$
- (4) $\frac{(c - a)}{c}, \frac{b \times 100}{c} \%$
- (5) $\frac{(c - a)}{c}, \frac{a \times 100}{c} \%$

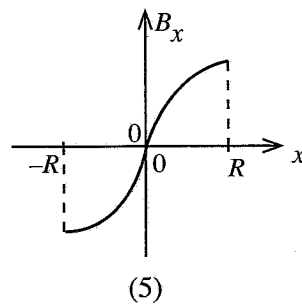
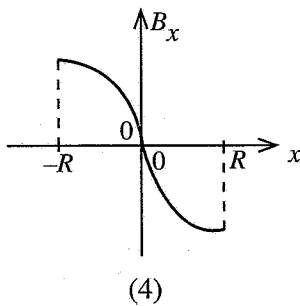
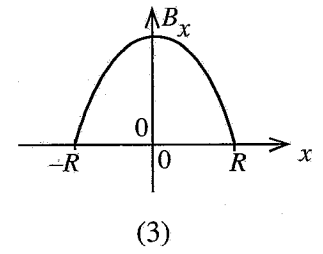
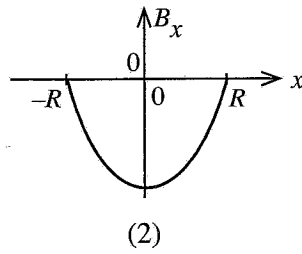
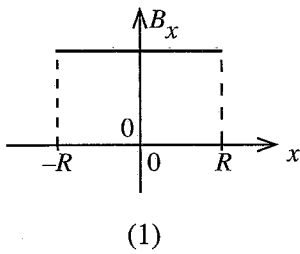
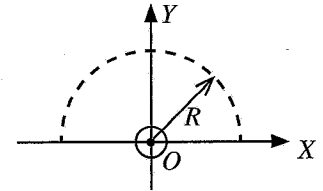
48. උෂ්ණත්වය 51°C වාතයෙන් පුරවන ලද එක් කෙළවරක් වැසූ නළයක් සමඟ සරසුලක් නාද කළ විට ඇසෙන නුගැසුම් සංඛ්‍යාතය 4 Hz ක් විය. උෂ්ණත්වය 127°C වාතයෙන් පුරවන ලද නළය සමඟ සරසුල නාද කළ විට ද එම නුගැසුම් සංඛ්‍යාතයම ඇසෙන ලදී. අවස්ථා දෙකේදීම නළය නාද වූයේ එකම උපරිතානයෙනි. සරසුලේ සංඛ්‍යාතය කොපමණ ද? නළයේ ආන්ත ශෝධනය නොසලකා හරින්න. ($\sqrt{324} = 18$)

- (1) 56 Hz
- (2) 60 Hz
- (3) 66 Hz
- (4) 76 Hz
- (5) 80 Hz

49. අභ්‍යවකාශ යානයක් පෘථිවියේ සිට සඳු කරා ගමන් කරයි නම් දුර (s) සමග එහි සඵල බරෙහි (W) විචලනය වඩාත්ම හොඳින් නිරූපණය වන්නේ පහත කුමන ප්‍රස්තාරය මගින් ද? (අනෙක් වස්තුවල බලපෑම නොසලකා හරින්න.)



50. කඩදාසියෙන් ඉවතට නියත ධාරාවක් d ගෙන යන දිග සෘජු කම්බියක් O මූල ලක්ෂ්‍යය හරහා Z අක්ෂය මස්සේ කඩදාසියේ තලයට ලම්බව තබා ඇත. කම්බිය කේන්ද්‍ර කොට ගෙන $X-Y$ තලයේ ඇඳ ඇති අරය R වූ අර්ධ වෘත්තයක් රූපයේ පෙන්වයි. අර්ධ වෘත්තාකාර පටය මස්සේ x සමග චුම්බක ස්‍රාව සන්නත්වයේ x -සංරචකයේ (B_x) විචලනය වඩාත්ම හොඳින් නිරූපණය වනුයේ පහත කුමන ප්‍රස්තාරය මගින් ද?





සියලුම හිමිකම් ඇවිරිණි / முழுப் பதிப்புரிமையுடையது / All Rights Reserved

ශ්‍රී ලංකා විභාග දෙපාර්තමේන්තුව ශ්‍රී ලංකා විභාග දෙපාර්තමේන්තුව ශ්‍රී ලංකා විභාග දෙපාර්තමේන්තුව ශ්‍රී ලංකා විභාග දෙපාර්තමේන්තුව ශ්‍රී ලංකා විභාග දෙපාර්තමේන්තුව
 இலங்கைப் பரீட்சைத் திணைக்களம் இலங்கைப் பரීட்சைத் திணைக்களம் இலங்கைப் பரීட்சைத் திணைக்களம் இலங்கைப் பரීட்சைத் திணைக்களம் இலங்கைப் பரීட்சைத் திணைக்களம்
 Department of Examinations, Sri Lanka Department of Examinations, Sri Lanka Department of Examinations, Sri Lanka Department of Examinations, Sri Lanka Department of Examinations, Sri Lanka
 ශ්‍රී ලංකා විභාග දෙපාර්තමේන්තුව ශ්‍රී ලංකා විභාග දෙපාර්තමේන්තුව ශ්‍රී ලංකා විභාග දෙපාර්තමේන්තුව ශ්‍රී ලංකා විභාග දෙපාර්තමේන්තුව ශ්‍රී ලංකා විභාග දෙපාර්තමේන්තුව
 இலங்கைப் பரීட்சைத் திணைக்களம் இலங்கைப் பரීட்சைத் திணைக்களம் இலங்கைப் பரීட்சைத் திணைக்களம் இலங்கைப் பரීட்சைத் திணைக்களம் இலங்கைப் பரීட்சைத் திணைக்களம்
 Department of Examinations, Sri Lanka Department of Examinations, Sri Lanka Department of Examinations, Sri Lanka Department of Examinations, Sri Lanka Department of Examinations, Sri Lanka

අධ්‍යයන පොදු සහතික පත්‍ර (උසස් පෙළ) විභාගය, 2022(2023)
 கல்விப் பொதுத் தராதரப் பத்திர (உயர் தர)ப் பரீட்சை, 2022(2023)
 General Certificate of Education (Adv. Level) Examination, 2022(2023)

භෞතික විද්‍යාව II
 பெளதிகவியல் II
 Physics II

01 S II

පැය තුනයි
 மூன்று மணித்தியாலம்
 Three hours

අමතර කියවීම් කාලය - මිනිත්තු 10 යි
 மேலதிக வாசிப்பு நேரம் - 10 நிமிடங்கள்
 Additional Reading Time - 10 minutes

අමතර කියවීම් කාලය ප්‍රශ්න පත්‍රය කියවා ප්‍රශ්න තෝරා ගැනීමටත් පිළිතුරු ලිවීමේදී ප්‍රමුඛත්වය දෙන ප්‍රශ්න සංවිධානය කර ගැනීමටත් යොදාගන්න.

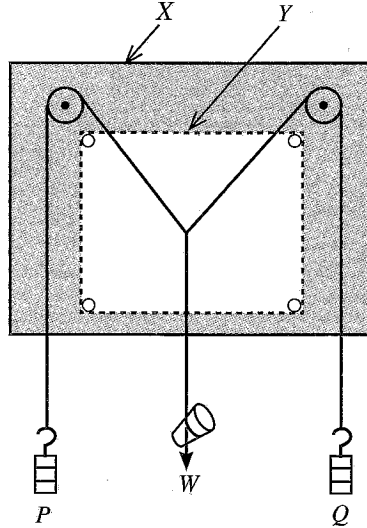
විභාග අංකය :

වැදගත් :
 * මෙම ප්‍රශ්න පත්‍රය පිටු 16 කින් යුක්ත වේ.
 * මෙම ප්‍රශ්න පත්‍රය A සහ B යන කොටස් දෙකකින් යුක්ත වේ. කොටස් දෙකටම නියමිත කාලය පැය තුනකි.
 * ගණක යන්ත්‍ර භාවිතයට ඉඩ දෙනු නොලැබේ.
A කොටස - ව්‍යුහගත රචනා (පිටු 2 - 8)
 සියලුම ප්‍රශ්නවලට පිළිතුරු මෙම පත්‍රයේම සපයන්න. ඔබේ පිළිතුරු, ප්‍රශ්න පත්‍රයේ ඉඩ සලසා ඇති තැන්වල ලිවිය යුතු ය. මේ ඉඩ ප්‍රමාණය පිළිතුරු ලිවීමට ප්‍රමාණවත් බව ද දීර්ඝ පිළිතුරු බලාපොරොත්තු නොවන බව ද සලකන්න.
B කොටස - රචනා (පිටු 9 - 16)
 මෙම කොටස ප්‍රශ්න හයකින් සමන්විත වන අතර ප්‍රශ්න හතරකට පමණක් පිළිතුරු සැපයිය යුතුය. මේ සඳහා සපයනු ලබන කඩදාසි පාවිච්චි කරන්න.
 * සම්පූර්ණ ප්‍රශ්න පත්‍රයට නියමිත කාලය අවසන් වූ පසු A සහ B කොටස් එක් පිළිතුරු පත්‍රයක් වන සේ, A කොටස B කොටසට උඩින් තිබෙන පරිදි අමුණා, විභාග ශාලාධිපතිට භාර දෙන්න.
 * ප්‍රශ්න පත්‍රයේ B කොටස පමණක් විභාග ශාලාවෙන් පිටතට ගෙන යාමට ඔබට අවසර ඇත.

පරීක්ෂකවරුන්ගේ ප්‍රයෝජනය සඳහා පමණි		
දෙවැනි පත්‍රය සඳහා		
කොටස	ප්‍රශ්න අංක	ලැබූ ලකුණු
A	1	
	2	
	3	
	4	
B	5	
	6	
	7	
	8	
	9(A)	
	9(B)	
	10(A)	
	10(B)	
එකතුව	ඉලක්කමෙන්	
	අකුරෙන්	
සංකේත අංක		
උත්තර පත්‍ර පරීක්ෂක 1		
උත්තර පත්‍ර පරීක්ෂක 2		
ලකුණු පරීක්ෂා කළේ		
අධීක්ෂණය කළේ		

A කොටස - ව්‍යුහගත රචනා
 ප්‍රශ්න හතරටම පිළිතුරු මෙම පත්‍රයේම සපයන්න.
 ($g = 10 \text{ m s}^{-2}$)

1. රූපයේ දක්වා ඇති පාසැල් විද්‍යාගාරයේ පවතින සැකසුම භාවිතයෙන් කුඩා වීදුරු මූඩියක බර (W) සහ එනයිත් ද්‍රවයක සාපේක්ෂ ඝනත්වය නිර්ණය කිරීමට ඔබට නියමව ඇත.



(a) රූපයේ ඇති X සහ Y මගින් නිරූපණය වන අයිතම නම් කරන්න.

X:

Y:

(b) (i) කප්පි සර්ඡණයෙන් තොරදැයි ඔබ පරීක්ෂා කරන්නේ කෙසේ ද?

.....

(ii) සර්ඡණය පවතී නම්, එය අවම කරන්නේ කෙසේ ද?

.....

(c) (i) දන්නා P සහ Q භාර සහ බර W වූ වීදුරු මූඩිය රූපයේ දැක්වෙන පරිදි සැහැල්ලු තන්තු භාවිතයෙන් එල්ලා ඇත. ඔබ අදාළ තන්තුවල පිහිටීම නිවැරදිව සලකුණු කරන්නේ කෙසේ ද?

.....

(ii) සුදුසු පරිමාණයක් භාවිතයෙන් සමාන්තරාස්‍රය නිර්මාණය කළ පසු, ඔබ බර W නිර්ණය කරන්නේ කෙසේ ද?

.....

(d) (i) ද්‍රවයේ සාපේක්ෂ ඝනත්වය නිර්ණය කිරීම සඳහා දැන් එම සැකසුම භාවිත කරයි. බිකර දෙකක්, ජලය සහ ද්‍රවය දී ඇත. ජලය හෝ ද්‍රවය තුළදී මූඩියේ දෘශ්‍ය බර නිර්ණය කිරීම සඳහා ඔබ අනුගමනය කරන පරීක්ෂණාත්මක පියවර ලියා දක්වන්න.

.....

මෙම
කිරීමේ
කිසිවක්
නොලියන්න

(ii) ඉහත මිනුම්වලින් හඳුනාගත යුතු මූඩියේ දෘශ්‍ය බර දෙක කුමක් ද?

W_1 :

W_2 :

(iii) විදුරු මූඩියෙහි දෘශ්‍ය බර අඩු වීම සඳහා ප්‍රකාශන දෙකක් W , W_1 සහ W_2 ඇසුරෙන් ලියා දක්වන්න.

ජලයේදී දෘශ්‍ය බර අඩු වීම =

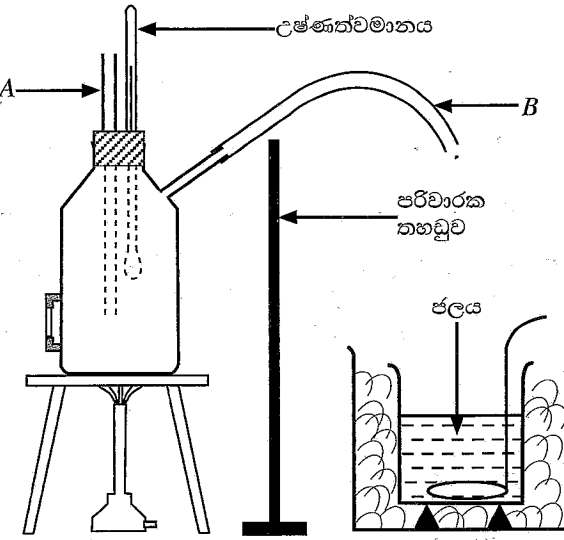
ද්‍රවයේදී දෘශ්‍ය බර අඩු වීම =

(iv) එනමින් ඉහත (d) (iii) හි ඔබ දී ඇති පිළිතුරු භාවිත කරමින් ද්‍රවයේ සාපේක්ෂ ඝනත්වය සඳහා ප්‍රකාශනයක් ලියා දක්වන්න.

ද්‍රවයේ සාපේක්ෂ ඝනත්වය =

(v) ද්‍රවයේ සාපේක්ෂ ඝනත්වයේ අගයට බලපාන, ඉහත (d)(i) හි පරීක්ෂණාත්මක ක්‍රියාපටිපාටියෙහි සිදුවිය හැකි දෝෂයක් (සමාන්තරාස්‍රය තැනීමට අදාළ නොවන) ලියා දක්වන්න.

2. මිශ්‍රණ ක්‍රමය භාවිතයෙන් ජලයේ වාෂ්පීකරණයේ විශිෂ්ට ගුණ තාපය නිර්ණය කිරීමට ඔබට නියමව ඇත. රූපයේ දැක්වෙන්නේ හුමාලය ජනනය කිරීම සඳහා විද්‍යාගාරයේ භාවිත කරන තඹ බොයිලේරුවකි. B රබර් නළය හුමාලය පිටතට ගැනීමට භාවිත කරයි. පරිවරණය කරන ලද තඹ කැලරිමීටරයක් සහ තඹ මන්ථයක් ද සපයා ඇත.



(a) (i) බොයිලේරුවේ ජල මට්ටම ප්‍රමාණවත් නොවේ නම්, A නළය භාවිතයෙන් ඔබ එය හඳුනා ගන්නේ කෙසේ ද?

.....

(ii) ඉහත (a)(i) හි දෝෂය නිවැරදි කිරීමෙන් පසු බොයිලේරුව තුළ හුමාලය ජනනය කරයි. හුමාලය පිටතට ගන්නා රබර් නළය අවහිර වී ඇත්නම් එය හඳුනා ගන්නේ කෙසේ ද?

.....

(b) මෙම පරීක්ෂණයේදී B නළයෙන් පිටවන හුමාලය සෘජුවම ජලය සමග මිශ්‍ර කිරීම නිවැරදි නොවේ.
 (i) එයට හේතුව ලියා දක්වන්න.

.....

(ii) ඔබ එය නිවැරදි කරන්නේ කෙසේද?

.....

මෙම
කිරීමේ
කිසිවක්
නොලියන්න

(c) මෙම පරීක්ෂණය සඳහා ඔබට අවශ්‍ය අනෙකුත් මිනුම් උපකරණ දෙක මොනවා ද?

.....

(d) ඉහත (b) (ii) හි සඳහන් නිවැරදි කිරීම සිදු කිරීමෙන් පසු ඔබ කැලරිමීටරයේ ජලයට හුමාලය යවයි. හුමාලය යවන වීදුරු නළයේ කෙළවර නිවැරදිව පිහිටුවන්නේ කෙසේ ද? නිවැරදි ක්‍රියා පටිපාටිය යටින් ඉරක් අඳින්න.

ජල මට්ටමට ස්වල්පයක් ඉහළින් / ජල මට්ටම ස්පර්ශ කරමින් / ජල මට්ටමට පහළින්

(e) මෙම පරීක්ෂණයේදී ඔබ ගැනීමට බලාපොරොත්තු වන උෂ්ණත්ව මිනුම් මොනවාද? එම මිනුම් අනුපිළිවෙලට දෙන්න.

θ_1 :

θ_2 :

θ_3 :

(f) (i) ඉහත උෂ්ණත්ව මිනුම්වලට අමතරව මෙම පරීක්ෂණයේදී ඔබ ගන්නා අනෙකුත් මිනුම් මොනවාද? එම මිනුම් අනුපිළිවෙලට දෙන්න.

m_1 :

m_2 :

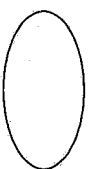
m_3 :

(ii) තඹ සහ ජලයෙහි විශිෂ්ට තාප ධාරිතා පිළිවෙලින් c_c සහ c_w වේ නම් ජලයේ වාෂ්පීකරණයේ විශිෂ්ට ගුණක තාපය (L) නිර්ණය කිරීම සඳහා ප්‍රකාශනයක් ඉහත (e) සහ (f) හි සඳහන් සංකේත ඇසුරෙන් ලියා දක්වන්න. පරිසරය සමග තාප හුවමාරුවක් සිදු නොවන බව උපකල්පනය කරන්න.

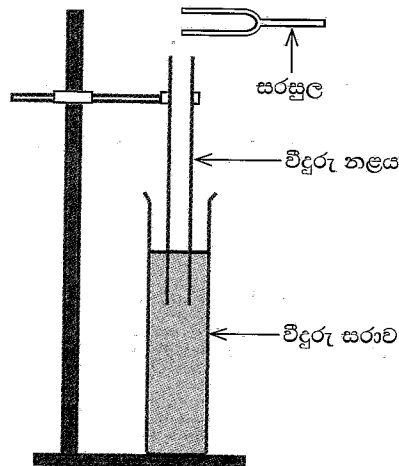
.....
.....
.....

(g) අවට පරිසරය සමග තාප හුවමාරුව නිසා ඇතිවන දෝෂය අවම කර ගැනීමට මෙම පරීක්ෂණයේදී ඔබ ගන්නා පූර්වෝපාය කුමක් ද?

.....
.....
.....
.....



3. වාතයේ ධ්වනි වේගය (v) නිර්ණය කිරීම සඳහා පාසල් විද්‍යාගාරය තුළදී භාවිත කරන සුපුරුදු පරීක්ෂණාත්මක ඇටවුම රූපයේ පෙන්වා ඇත. ඇටවුමට දෙකෙළවර විවෘත විදුරු නළයක්, ජලය පිරවූ උස විදුරු සරාවක් සහ සරසුල් කට්ටලයක් අයත් වේ. වාතයේ ධ්වනි වේගය නිර්ණය කිරීම සඳහා අනුනාද ක්‍රමය යොදා ගනී.



(a) මෙම පරීක්ෂණය සිදු කිරීම සඳහා අවශ්‍ය අනෙක් මිනුම් උපකරණය කුමක් ද?

.....

(b) පහත අසම්පූර්ණ ප්‍රකාශයේ හිස්තැන උචිත වචනයෙන් පුරවන්න.

වස්තුවක් අනෙක් වස්තුවේ සංඛ්‍යාතයෙන් කම්පනය වන විට පළමු වස්තුව දෙවන වස්තුව අනුනාද කරවයි.

(c) (i) අනුනාදයේදී නළය තුළ හටගන්නේ කුමන වර්ගයේ තරංගයක් ද? නිවැරදි පිළිතුරු යටින් ඉරක් අඳින්න.

(1) අන්වායාම / තීර්යයක්

(2) ප්‍රගමන / ස්ථාවර

(ii) ඔබ (c) (i) හි තෝරාගත් තරංගය හටගන්නේ කෙසේද?

.....

(d) නළයේ පළමු කම්පන විධියට (මූලිකයට) අදාළ අනුනාද දිග නිවැරදිව ලබා ගැනීම සඳහා ඔබ අනුගමනය කරන පරීක්ෂණාත්මක ක්‍රියා පිළිවෙළ පියවර ආකාරයෙන් සඳහන් කරන්න.

.....

(e) සංඛ්‍යාතය f වන දී ඇති සරසුලක් සඳහා නළයේ පළමු කම්පන විධියට සහ දෙවන කම්පන විධියට අනුරූප අනුනාද දිග ඔබට මැනීමට ඇත.

(i) පළමු කම්පන විධියට අනුරූප අනුනාද දිග l_1 නම්, l_1 සඳහා ප්‍රකාශනයක් තරංගයේ තරංග ආයාමය λ සහ නළයේ ආන්ත ශෝධනය e ඇසුරෙන් ලියා දක්වන්න.

.....

(ii) දෙවන කම්පන විධියට අනුරූප අනුනාද දිග l_2 නම්, l_2 සඳහා ප්‍රකාශනයක් තරංගයේ තරංග ආයාමය λ සහ නළයේ ආන්ත ශෝධනය e ඇසුරෙන් ලියා දක්වන්න.

.....

(iii) එනමින් ($l_2 - l_1$) සඳහා ප්‍රකාශනයක් λ ඇසුරෙන් ලියා දක්වන්න.

.....

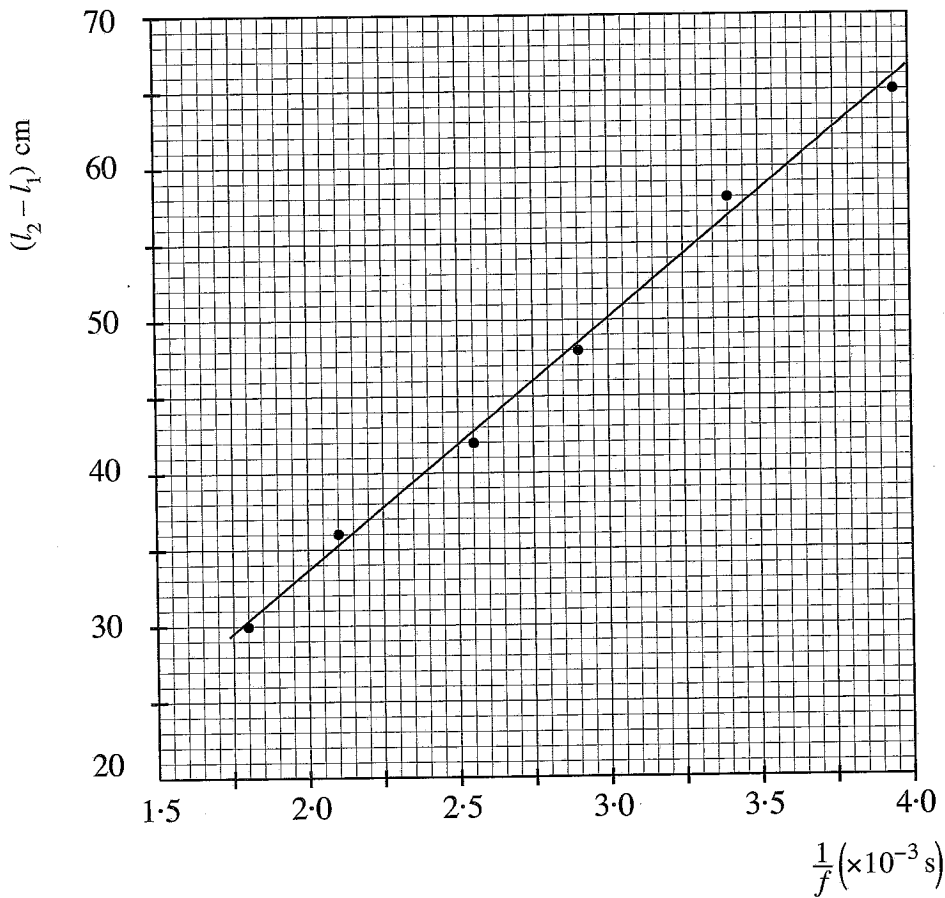
(iv) $(l_2 - l_1)$ ලබාගැනීමේ වාසිය කුමක් ද?

.....

(v) ඉහත (e) (iii) හි ලියන ලද ප්‍රකාශනයට v සහ f ආදේශ කොට සරල රේඛා ප්‍රස්තාරයක් ලබා ගැනීම සඳහා එය නැවත සකසන්න.

.....

(f) පහත පෙන්වා ඇති ඡාලයේ $\frac{1}{f}$ එදිරිව $(l_2 - l_1)$ ප්‍රස්තාරය පෙන්වයි. ප්‍රස්තාරය භාවිත කොට වාතයේ ධ්වනි වේගය v (ms^{-1} වලින්) ගණනය කරන්න.



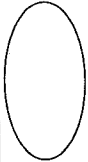
.....

(g) ඉහත (a) හි සඳහන් කරන ලද මිනුම් උපකරණය වෙනුවට අනුනාද දිග නිවැරදිව නිර්ණය කිරීම සඳහා විකල්ප ක්‍රමයක් යෝජනා කරන්න.

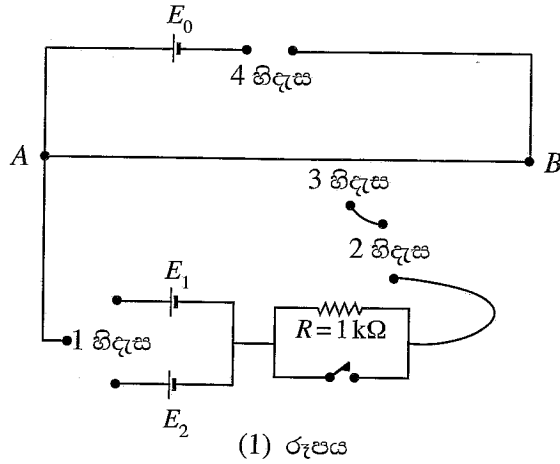
.....

(h) වාතයේ ධ්වනි වේගය ප්‍රකාශ කරන විට දිය යුතු අත්‍යවශ්‍ය පරාමිතිය කුමක් ද?

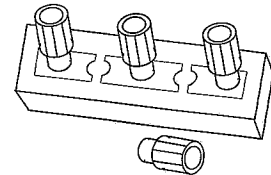
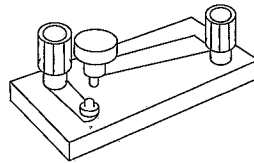
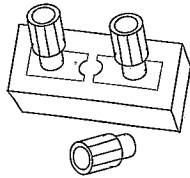
.....



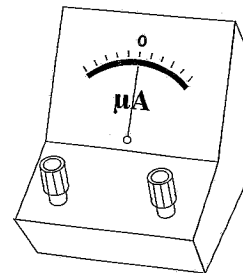
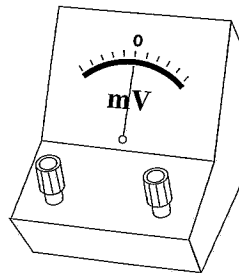
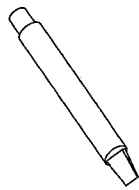
4. විභවමානයක් ආධාරයෙන් කෝෂ දෙකක විද්‍යුත්ගාමක බල E_1 සහ E_2 සංසන්දනය කිරීම සඳහා ශිෂ්‍යයෙක් පරීක්ෂණයක් සැලසුම් කර ඇත. ඒ සඳහා භාවිත කළ හැකි අසම්පූර්ණ පරිපථ සටහනක් (1) රූපයේ දැක්වේ. පරිපථයට සම්බන්ධ කළ හැකි අනෙකුත් අයිතම වෙනම පෙන්වා ඇත.



(a) පහත රූපවල පෙන්වා ඇති අයිතම නම් කරන්න.



A B C



D E F

(b) රූපය (1) හි ඇති 1 හිදැස, 2 හිදැස, 3 හිදැස සහ 4 හිදැසට සම්බන්ධ කළ යුතු ඉහත (a) හි දී ඇති එක් එක් අයිතමයට අදාළ නිවැරදි අකුර ලියන්න.

1 හිදැස : 2 හිදැස :

3 හිදැස : 4 හිදැස :

(c) විද්‍යුත්ගාමක බලය (වි.ගා.බ.) E_0 ලබා දෙන කෝෂයේ වර්ගය නම් කර එම E_0 හි අගය ලියා දක්වන්න.

.....

(d) විභවමාන කම්බියේ ප්‍රතිරෝධයට සාපේක්ෂව වි.ගා.බ. E_0 වන කෝෂයේ අභ්‍යන්තර ප්‍රතිරෝධය ඉතා කුඩා විය යුත්තේ ඇයි?

.....

(e) මෙම පරීක්ෂණය සිදු කිරීම සඳහා E_1, E_2 සහ E_0 සම්බන්ධයෙන් යම් කොන්දේසි සපුරාලිය යුතුය. ඒවා මොනවා ද?

.....

.....

(f) පරිපූර්ණ නොවන වෝල්ටීය මීටරයක් හා සසඳන විට, වි.ගා.බ. අගයක් නිවැරදිව මැනීම සඳහා විභවමානයක් සුදුසු උපකරණයක් ලෙස සැලකේ. එයට හේතුව කුමක් ද?

.....

.....

(g) විභවමාන කම්බියේ හරස්කඩ වර්ගඵලය ඒකාකාර විය යුත්තේ ඇයි?

.....

.....

(h) (i) E_1/E_2 අනුපාතය නිර්ණය කිරීම සඳහා අනුගමනය කළ යුතු පරීක්ෂණාත්මක ක්‍රියා පටිපාටිය ලියන්න.


.....

.....

(ii) E_1 සහ E_2 ට අනුරූප ඉහත (h) (i) හි ගන්නා ලද මිනුම් පිළිවෙළින් x_1 සහ x_2 නම්, E_1/E_2 අනුපාතය සඳහා ප්‍රකාශනයක් ලියන්න.

.....

(i) (i) වෙනත් ශිෂ්‍යයෙක් ප්‍රස්තාරික ක්‍රමයක් භාවිත කර E_1/E_2 අනුපාතය නිර්ණය කිරීමට සැලසුම් කර ඇත්තේ (2) රූපයේ පෙන්වා ඇති 6 m දිග විභවමාන කම්බියේ සඵල දිග වෙනස් කිරීමෙනි. ශිෂ්‍යයා අනුගමනය කළ යුතු පරීක්ෂණාත්මක ක්‍රියා පිළිවෙළ කුමක් ද?



(2) රූපය

.....

.....

.....

(ii) ඉහත (i)(i) හි ඇඳිය හැකි ප්‍රස්තාරයේ අනුක්‍රමණය m නම් සහ E_1 හි අගය දන්නේ නම්, E_2 සඳහා සම්බන්ධතාවක් m සහ E_1 ඇසුරෙන් ලියන්න.

.....

.....

**

සියලුම හිමිකම් ඇවිරිණි / முழுப் பதிப்புரிமையுடையது / All Rights Reserved

ශ්‍රී ලංකා විභාග දෙපාර්තමේන්තුව ශ්‍රී ලංකා විභාග දෙපාර්තමේන්තුව ශ්‍රී ලංකා විභාග දෙපාර්තමේන්තුව ශ්‍රී ලංකා විභාග දෙපාර්තමේන්තුව ශ්‍රී ලංකා විභාග දෙපාර්තමේන්තුව ශ්‍රී ලංකා විභාග දෙපාර්තමේන්තුව
 இலங்கைப் பரீட்சைத் திணைக்களம் இலங்கைப் பரීட்சைத் திணைக்களம் இலங்கைப் பரීட்சைத் திணைக்களம் இலங்கைப் பரීட்சைத் திணைக்களம் இலங்கைப் பரීட்சைத் திணைக்களம்
 Department of Examinations, Sri Lanka Department of Examinations, Sri Lanka Department of Examinations, Sri Lanka Department of Examinations, Sri Lanka Department of Examinations, Sri Lanka
 ශ්‍රී ලංකා විභාග දෙපාර්තමේන්තුව ශ්‍රී ලංකා විභාග දෙපාර්තමේන්තුව ශ්‍රී ලංකා විභාග දෙපාර්තමේන්තුව ශ්‍රී ලංකා විභාග දෙපාර්තමේන්තුව ශ්‍රී ලංකා විභාග දෙපාර්තමේන්තුව
 இலங்கைப் பரීட்சைத் திணைக்களம் இலங்கைப் பரීட்சைத் திணைக்களம் இலங்கைப் பரීட்சைத் திணைக்களம் இலங்கைப் பரීட்சைத் திணைக்களம் இலங்கைப் பரීட்சைத் திணைக்களம்
 Department of Examinations, Sri Lanka Department of Examinations, Sri Lanka Department of Examinations, Sri Lanka Department of Examinations, Sri Lanka Department of Examinations, Sri Lanka

අධ්‍යයන පොදු සහතික පත්‍ර (උසස් පෙළ) විභාගය, 2022(2023)
கல்விப் பொதுத் தராதரப் பத்திர (உயர் தர)ப் பரீட்சை, 2022(2023)
General Certificate of Education (Adv. Level) Examination, 2022(2023)

භෞතික විද්‍යාව II
பொளதிகவியல் II
Physics II

B කොටස - රචනා

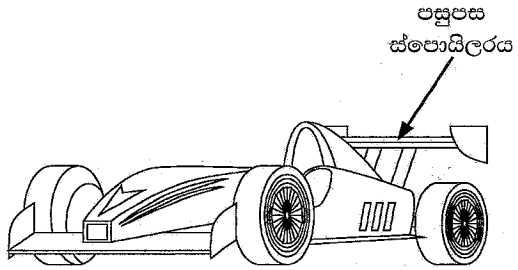
01 S II

ප්‍රශ්න හතරකට පමණක් පිළිතුරු සපයන්න.
 (g = 10 m s⁻²)

- සටහන: උදාහරණයක් වශයෙන් 65210 සංඛ්‍යාව දශම ස්ථාන දෙකකට වැටසූ පසු 6.52×10⁴ ලෙස විද්‍යාත්මක අංකනයෙන් (scientific notation) ලිවිය හැක.

5. (a) දුස්ස්‍රාවී නොවන අසම්පීඩ්‍ය තරලයක අනවරත ප්‍රවාහයක් සඳහා බ'නුලි සමීකරණය $P + \frac{1}{2}\rho v^2 + h\rho g =$ නියතයක් ලෙසින් ලිවිය හැක. මෙහි සියලුම සංකේතවලට සුදුසු රුදු තේරුම ඇත. සමීකරණයේ වම් පස ඇති පද හඳුන්වන්න.

(b) පහළ පෘෂ්ඨය වක්‍ර වූ පසුපස ස්පොයිලරයක් (rear spoiler) සහිත රේසිං මෝටර් රථයක් (racing car) (1) රූපයේ පෙන්වා ඇත. මෝටර් රථය අධික වේගයෙන් යන විට බ'නුලි මූලධර්මයට අනුව ස්පොයිලරය මත පහළ දිශාවට බලයක් ඇති වේ.

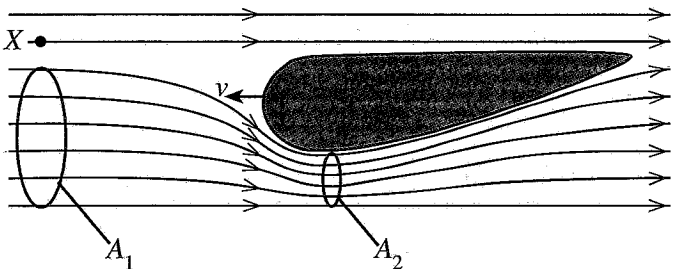


(1) රූපය

පොළොවට සාපේක්ෂව v නියත ප්‍රවේගයකින් වාතය හරහා තිරස්ව වම් අතට ගමන් කරන රේසිං මෝටර් රථයක පසුපස ස්පොයිලරයේ සිරස් හරස්කඩක් (2) රූපයේ පෙන්වා ඇත.

(i) මෝටර් රථයට සාපේක්ෂව X ලක්ෂ්‍යයේදී වාතයේ ප්‍රවේගය කුමක් ද? පොළොවට සාපේක්ෂව වාතය නිසලව පවතී යැයි උපකල්පනය කරන්න.

(ii) (2) රූපයේ පෙන්වා ඇති පරිදි ස්පොයිලරයට ඇති පිහිටි කල්පිත ප්‍රවාහ නළයක හරස්කඩ වර්ගඵලය A₁ ද, ස්පොයිලරයේ පහළ පෘෂ්ඨයේදී එම ප්‍රවාහ නළයේ අනුරූප හරස්කඩ වර්ගඵලය A₂ ද වේ. $\frac{A_1}{A_2} = 1.2$ නම් මෝටර් රථයට සාපේක්ෂව ස්පොයිලරයට පහළින් ගලායන වාතයේ වේගය (v₂) සඳහා ප්‍රකාශනයක් v ඇසුරෙන් ලියා දක්වන්න.



(2) රූපය

(iii) ස්පොයිලරයේ සළල තිරස් හරස්කඩ වර්ගඵලය 0.2 m² නම් ස්පොයිලරය මත පහළට ක්‍රියාකරන බලය ගණනය කරන්න. v = 360 km h⁻¹ සහ වාතයේ ඝනත්වය = 1.2 kg m⁻³.

(iv) පොළොවට සාපේක්ෂව නියත ප්‍රවේගයකින් වමේ සිට දකුණට සුළඟක් තිරස්ව හමයි නම් ඉහත (b) (iii) හි ගණනය කළ බලය වැඩිවේ ද? නැතහොත් අඩු වේ ද? ගණනය කිරීම්වලින් තොරව ඔබගේ පිළිතුරට හේතු දෙන්න.

(c) වේගයෙන් ගමන් කරන මෝටර් රථයක් මත වාතය නිසා ක්‍රියා කරන රෝධක බලය (F_d), $F_d = \frac{1}{2} C \rho A v^2$ මගින් දෙනු ලබයි. මෙහි C රෝධක සංගුණකය ලෙසින් හඳුන්වන අතර, ρ වාතයේ ඝනත්වයද, A වාතයට අභිමුඛ රථයේ සළල මුහුණත් වර්ගඵලය සහ v වාතයට සාපේක්ෂව රථයේ වේගය වේ. ස්පොයිලර මගින් රථ මතින් ගලන වායු ප්‍රවාහවල දිශා ද වෙනස් කොට රෝධක සංගුණකය අඩු කරයි.


- (i) C මාන රහිත බව පෙන්වන්න.
- (ii) C = 0.3, A = 1.4 m², ρ = 1.2 kg m⁻³ සහ v = 360 km h⁻¹ ලෙස ගනිමින් ඉහත (b) හි සඳහන් රේසිං මෝටර් රථය මත ක්‍රියා කරන රෝධක බලය F_d ගණනය කරන්න. පොළොවට සාපේක්ෂව වාතය නිසලව පවතී යැයි උපකල්පනය කරන්න.
- (iii) මෝටර් රථය 360 km h⁻¹ නියත ප්‍රවේගයකින් ගමන් කරන විට රෝධක බලය මැඩපැවැත්වීමට අවශ්‍ය ජවය (P) ගණනය කරන්න.

- (iv) මෝටර් රථය නිසලතාවයෙන් ගමන් අරඹා 360 km h^{-1} වේගයක් අයත් කර ගනී. මෙම ක්‍රියාවලියේදී රෝධක බලය මැඩ පැවැත්වීම සඳහා අවශ්‍ය මධ්‍යන්‍ය ජවය $\frac{P}{2}$ වන බවට ශිෂ්‍යයෙක් තර්ක කරයි. මෙහි P යනු ඉහත (c) (iii) හි ඔබ ගණනය කළ අගයයි. ශිෂ්‍යයාගේ තර්කයට ඔබ එකඟ වන්නේ ද යන්න හේතු දක්වමින් සඳහන් කරන්න.
- (v) මෝටර් රථය මත ක්‍රියා කරන අනෙකුත් සර්ඡණ බල මැඩපැවැත්වීමට අවශ්‍ය ජවය 48 kW වේ. පෙට්‍රල් එක් ලීටරයක් දහනය වීමෙන් නිදහස් වන ශක්තිය $4.0 \times 10^7 \text{ J}$ සහ මෙම ශක්තියෙන් 15% ක් පමණක් මෝටර් රථය ගමන් කරවීමට භාවිත වේ. මෝටර් රථය 360 km h^{-1} නියත වේගයෙන් ගමන් කරන විට රථයේ ඉන්ධන කාර්යක්ෂමතාවය ලීටරයකට km වලින් නිර්ණය කරන්න.
- (vi) පොළොවට සාපේක්ෂව සුළඟ නියත 10 m s^{-1} ප්‍රවේගයකින් තිරස්ව වමේ සිට දකුණට හමයි නම් මෝටර් රථය 360 km h^{-1} නියත ප්‍රවේගයෙන් ගමන් කරන විට රෝධක බලය මැඩපැවැත්වීමට අවශ්‍ය ජවය (P') ගණනය කරන්න. (ඔබගේ පිළිතුර kW වලින් ආසන්න පූර්ණ සංඛ්‍යාවට දෙන්න.)

6. (a) (i) නක්ෂත්‍ර (ප්‍රකාශ) දුරේක්ෂයක කෝණික විශාලනය (m) අර්ථ දක්වන්න.
- (ii) රේඩිය විශාලනය හා සසඳන විට ප්‍රකාශ උපකරණයක් සඳහා කෝණික විශාලනය වඩා හොඳ මිනුමක් වන්නේ ඇයි?
- (b) නාභීය දුර f_o වූ L_o අවනෙන් කාවයක් සහ නාභීය දුර f_e වූ L_e උපනෙන් කාවයක් යොදා ගනිමින් නක්ෂත්‍ර දුරේක්ෂයක් සාදා ඇත.
- (i) දුරේක්ෂයක සාමාන්‍ය සිරුමාරුව යන්නෙන් අදහස් කරන්නේ කුමක් ද?
 - (ii) දුරේක්ෂය සාමාන්‍ය සිරුමාරුවේ ඇති අවස්ථාවේදී පැහැදිලිව නම් කරන ලද කිරණ රූප සටහනක් අඳින්න.
 - (iii) කිරණ රූප සටහන භාවිතයෙන් දුරේක්ෂයේ කෝණික විශාලනය සඳහා ප්‍රකාශනයක් ලබා ගන්න.
 α (රේඩියන වලින්) හි ඉතා කුඩා අගයයන් සඳහා $\tan(\alpha) = \alpha$.
- (c) (i) $f_o = 100 \text{ cm}$ සහ $f_e = 10 \text{ cm}$ වූ නක්ෂත්‍ර දුරේක්ෂයක් සිරු මාරු කර ඇත්තේ සඳෙහි අවසාන ප්‍රතිබිම්බය ඇසේ විශද දෘෂ්ටියේ අවම දුරෙහි ($D = 25 \text{ cm}$) සෑදෙන පරිදි ය. සඳ, පියවි ඇසෙහි 0.5° ක කෝණයක් ආපාතනය කරයි. මෙම සිරුමාරුවේදී දුරේක්ෂය තුළින් සඳේ ප්‍රතිබිම්බය ඇසෙහි ආපාතනය කරනු ලබන කෝණය (අංශකවලින්) සහ කෝණික විශාලනය ගණනය කරන්න. ඇස සහ උපනෙන් කාවය අතර දුර නොසැලකිය හැකි යැයි උපකල්පනය කරන්න. ඔබට $1^\circ = 0.018$ රේඩියන ලෙස භාවිත කළ හැක.
- (ii) සුදුසු වෙනස් කිරීමකින් පසු ඉහත දුරේක්ෂය වන්ද්‍රයාගේ තාත්වික ප්‍රතිබිම්බයක් තිරයක් මතට ලබා ගැනීමට භාවිත කරයි. නාභි ලක්ෂ්‍යයන් සහ දුරවල් පැහැදිලිව සලකුණු කරමින් මෙම අවස්ථාව සඳහා කිරණ රූප සටහන අඳින්න.
 - (iii) ඉහත (c) (ii) හි සඳහන් වෙනස් කිරීමෙන් පසු උපනෙන් කාවයේ සිට 30 cm දුරින් තබා ඇති තිරය මත තාත්වික ප්‍රතිබිම්බය සෑදෙන්නේ නම් තිරයේ ඇතිවන වන්ද්‍රයාගේ ප්‍රතිබිම්බයේ විශාලත්වය (විෂ්කම්භය) ගණනය කරන්න.
 - (iv) ඇමෙරිකා එක්සත් ජනපදයේ විස්කොන්සින්හි යර්ක්ස් නිරීක්ෂණාගාරය (Yerkes Observatory) 1897 සිට මේ දක්වා ක්‍රියාත්මක වන විශාලතම සහ පැරණිතම වර්තන නක්ෂත්‍ර දුරේක්ෂයයි. නිරීක්ෂණාගාරය නවීන තාරකා භෞතික විද්‍යාවේ උපන් ස්ථානය වූ අතර නක්ෂත්‍ර වස්තූන්ගේ ඡායාරූප තහඩු 170000 කට වඩා ලබා ගෙන ඇත.
යර්ක්ස් දුරේක්ෂයේ අවනෙන් කාවයේ නාභීය දුර 19.0 m කි. උපනෙන් සිට 30 cm පිටුපසින් තබා ඇති ඡායාරූප තහඩුවක් මත විෂ්කම්භය 17.1 cm වූ වන්ද්‍රයාගේ තාත්වික ප්‍රතිබිම්බයක් එය ලබා දෙයි. යර්ක්ස් දුරේක්ෂයේ උපනෙන් කාවයේ නාභීය දුර සහ මෙම අවස්ථාවේ කෝණික විශාලනය ගණනය කරන්න. (කෝණික විශාලනය ආසන්න පූර්ණ සංඛ්‍යාවට දෙන්න.)

7. (a) සුපුරුදු සංකේත මගින් ද්‍රව්‍යයක යං මාපාංකය, $\frac{F}{A}/\frac{e}{l}$ යන සමීකරණය මගින් දෙනු ලබයි. $\frac{F}{A}$ සහ $\frac{e}{l}$ යන පද නම් කරන්න.

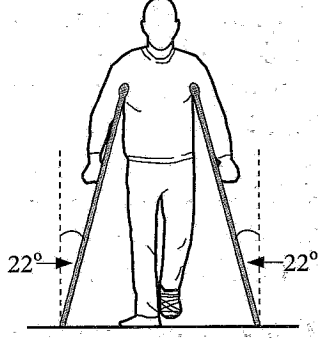
(b) කරාටේ ක්‍රීඩකයෙක් (1) රූපයේ පෙන්වා ඇති පරිදි විචලනයක් ගසන එක පා පහරකින් ලී පුවරුවක් කඩා දැමීමට උත්සාහ කරයි. ක්‍රීඩකයා ලී පුවරුවට පහර දෙන විට, පුවරුව නොකැඩී ක්‍රීඩකයාගේ විචල 24 ms⁻¹ ආරම්භක වේගයකින් පටන්ගෙන 4.0 ms තුළදී නිශ්චලතාවයට පත්වේ. පාදයේ සඵල ස්කන්ධය 16.0 kg වන අතර පාද අස්ථියේ කුඩාම කොටසේ සඵල හරස්කඩ වර්ගඵලය 3.0 × 10⁻⁴ m² වේ. පාදයේ අස්ථි ද්‍රව්‍යයට 1.8 × 10⁷ N m⁻² උපරිම සම්පීඩන ප්‍රත්‍යාබලයකට ඔරොත්තු දිය හැකිය. අස්ථිය දිගේ ප්‍රත්‍යාබලය ඒකාකාරව බෙදී යන බව උපකල්පනය කරන්න.



(1) රූපය

- (i) ක්‍රීඩකයාගේ විචල 24 ms⁻¹ සිට නිශ්චලතාවයට පැමිණෙන අතරවාරයේ ඔහුගේ පාදය මත ක්‍රියාකරන මධ්‍යන්‍ය බලය ගණනය කරන්න.
- (ii) පාදයේ අස්ථිය මත ඇති කරනු ලබන උපරිම සම්පීඩන ප්‍රත්‍යාබලය කොපමණ ද?
- (iii) අස්ථිය බිඳීමට හැකියාවක් ඇත් ද? ඔබගේ පිළිතුරට හේතු දෙන්න.

(c) ඉහත (b) හි සඳහන් පාදයෙන් පහරදෙන ක්‍රියාවලියේදී කරාටේ ක්‍රීඩකයාගේ පාදයේ අස්ථිය බිඳේ. ක්‍රීඩකයා යථා තත්ත්වයට පත්වන තෙක් ඇවිදීම සඳහා (2) රූපයේ පෙන්වා ඇති පරිදි තනි බටයකින් සාදන ලද කිහිලිකරු භාවිත කරයි. ක්‍රීඩකයාගේ ස්කන්ධය 90 kg වේ. ක්‍රීඩකයාගේ බරෙන් හරි අඩක් කිහිලිකරු මගින් සහ අනෙක් හරි අඩ ඔහුගේ අනෙක් පාදයෙන් දරයි. ඔහු සිටගෙන සිටින විට, එක් එක් කිහිලිකරුවක් සිරස් අතට 22° ක කෝණයක් සාදයි. එක් එක් කිහිලිකරු පිළිවෙලින් අභ්‍යන්තර අරය 1.0 × 10⁻² m සහ බාහිර අරය 2.0 × 10⁻² m වන කුහර ඇලුමිනියම් බටයකින් සාදා ඇත. ඇලුමිනියම්වල යං මාපාංකය 7.0 × 10¹⁰ N m⁻² වේ.

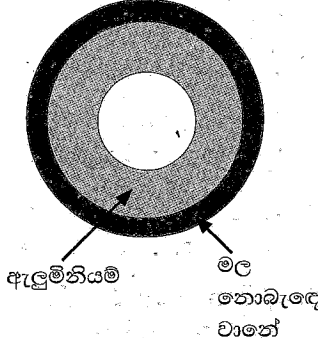


(2) රූපය

- (i) ඔහුට ලිස්සා යාමකින් තොරව නිශ්චලව සිටගෙන සිටීම සඳහා කිහිලිකරු කෙළවර සහ බිම අතර තිබිය යුතු අවම ස්ථිතික ඝර්ෂණ සංගුණකය කොපමණ ද? tan(22°) = 0.4 ලෙස ගන්න.
- (ii) එක් එක් කිහිලිකරුවක් මත ක්‍රියාකරන සම්පීඩන බලයේ විශාලත්වය ගණනය කරන්න. cos(22°) = 0.9 ලෙස ගන්න.

- පහත (c) (iii), (c) (iv) සහ (d) (ii) සඳහා ඔබගේ පිළිතුරු විද්‍යාත්මක අංකනයෙන් දශම ස්ථාන දෙකකට වටයන්න. ප්‍රශ්න අංක 5 ට පෙර දී ඇති සටහන බලන්න.
- (iii) කිහිලිකරුවක් මත ඇති සම්පීඩන ප්‍රත්‍යාබලය සහ සම්පීඩන වික්‍රියාව ගණනය කරන්න. π = 3 ලෙස ගන්න.
- (iv) කිහිලිකරුවක දිග 125 cm නම් කිහිලිකරුවක ඇතිවන දිගෙහි වෙනස කුමක් ද?

(d) ඉහත (c) හි සඳහන් කිහිලිකරු වෙනුවට ඒකාක්ෂ කුහර බට දෙකකින් සමන්විත කිහිලිකරු ක්‍රීඩකයා විසින් භාවිත කරන්නේ යැයි සිතන්න. එම සිලින්ඩරාකාර කිහිලිකරුවල අභ්‍යන්තර බටය යං මාපාංකය E₁ වන ඇලුමිනියම්වලින් සාදා ඇති අතර බාහිර බටය යං මාපාංකය E₂ වන මල නොබැඳෙන වානේවලින් සාදා ඇත. ඇලුමිනියම් සහ මල නොබැඳෙන වානේ බටවල හරස්කඩ වර්ගඵල පිළිවෙලින් A₁ සහ A₂ වේ. සංයුක්ත බටයේ හරස්කඩක් (3) රූපයේ පෙන්වයි.



(3) රූපය

- (i) සංයුක්ත බටයේ සඵල යං මාපාංකය E,
- $$E = \frac{E_1 A_1 + E_2 A_2}{(A_1 + A_2)}$$
- මගින් ලබා දෙන බව පෙන්වන්න.

(ii) E₁ = 8.0 × 10¹⁰ N m⁻², A₁ = 10.0 × 10⁻⁴ m², E₂ = 2.0 × 10¹¹ N m⁻², A₂ = 6.0 × 10⁻⁴ m². එක් එක් කිහිලිකරුවක දිග සෙන්ටිමීටර 125 කි. ඉහත (c) (ii) හි බලය කිහිලිකරුවකට යොදනවිට සංයුක්ත බටයේ දිග වෙනස්වීම ගණනය කරන්න.

(e) සාමාන්‍යයෙන් ඇලුමිනියම් කිහිලිකරුවල පහළ කෙළවරට රබර් ආවරණ සවි කර ඇත. රබර් ආවරණ සහිත මෙම කිහිලිකරු භාවිතයෙන් පුද්ගලයෙක් ඇවිදින විට ඔහුට ඇතිවන වාසි භෞතික විද්‍යා මූලධර්ම යොදා ගනිමින් සඳහන් කරන්න.

8. පහත ඡේදය කියවා ප්‍රශ්නවලට පිළිතුරු සපයන්න.

කළු කුහර (Black holes) යනු විශ්වයේ පවතින ඉතාම කුහුභලය දැනවන වස්තුවලින් එකකි. අවම පරිමාවක් තුළ ඇතිරී ඇති අතිවිශාල පදාර්ථ ප්‍රමාණයකින් සමන්විත වීමේ ප්‍රතිඵලයක් ලෙස අති ප්‍රබල ගුරුත්වාකර්ෂණ ක්ෂේත්‍රයක් ඒවාහි පවතී. කළු කුහරයකින් ආලෝකයට නිකුත් වීමට නොහැකි නිසා ඒවා අද්‍රශ්‍යමාන වේ.

ස්කන්ධය M හා අරය R වන ඒකාකාර ඝනත්වයක් සහිත ගෝලාකාර වස්තුවක මතුපිටින් විශේෂ වීමේ ප්‍රවේගය (v_e), $\sqrt{\frac{2GM}{R}}$ මගින් දෙනු ලබයි. මෙහි G යනු සාර්වත්‍ර ගුරුත්වාකර්ෂණ නියතයයි. ස්කන්ධය M වන වස්තුවක අරය R , යම් අවධි අගයකට සමාන හෝ ඊට වඩා අඩු වන්නේ නම් එම වස්තුව කළු කුහරයක් ලෙස ක්‍රියා කරන බව විශේෂ ප්‍රවේගය සඳහා වන මෙම ප්‍රකාශනය යෝජනා කරයි. මෙම අවධි අරය ශ්වාච්ඡවයිල්ඩ් අරය (Schwarzschild radius) R_s , ලෙස හඳුන්වන අතර කළු කුහරය වටා ඇති මෙම අරය සහිත ගෝලයේ මතුපිට, සිදුවීම් ක්ෂිතිජය (event horizon) ලෙස හැඳින්වේ. මෙම ගෝලය තුළින් ආලෝකයට ඉවත්ව යා නොහැකි නිසා අපට එය තුළ සිදුවන සිදුවීම් අනාවරණය කරගත නොහැක.

කළු කුහරයකින් ආලෝකයට ඉවත්විය නොහැකි නම්, එවැනි වස්තු පවතින බව අප දැනගන්නේ කෙසේ ද? කළු කුහරයක් අසල ඇති ඕනෑම වායුවක් හෝ දූවිලි දිය සුළියක් සේ කරකැවෙමින් කළු කුහරය තුළට ඇදී යයි. පොම්පයක සම්පීඩිත වාතය උණුසුම් වන ආකාරයටම මෙම දූවිලි/වායු රත් වීමකට බඳුන් වේ. දූවිලි/වායු උෂ්ණත්ව 10^6 K ටත් වඩා වැඩි විය හැකි අතර එබැවින් ඒවා ද්‍රව්‍ය ආලෝකය පමණක් නොව X-කිරණ ද නිකුත් කරයි. දූවිලි/වායු මගින් නිකුත් කරන මෙම X-කිරණ සිදුවීම් ක්ෂිතිජය හරහා යෑමට පෙර ඒවා සොයා ගැනීම මගින් කළු කුහරයක් පවතින බව තාරකා විද්‍යාඥයින්ට අනාවරණය කරගත හැක.

අති දැවැන්ත සුපිරි ස්කන්ධ (supermassive) සහිත කළු කුහර පවතින බවට ද ප්‍රබල සාක්ෂි ඇත. පෘථිවියේ සිට ආලෝක වර්ෂ 26000 ක් දුරින් ධනු රාශියේ දිශාවට අපගේ ක්ෂීරපථ මන්දාකිණියේ මධ්‍යයේ එවැනි කළු කුහරයක් පවතින බව සොයා ගෙන ඇත. තාරකා භෞතික විද්‍යාඥයින් විසින් S4716 ලෙසින් නම් කරන ලද තාරකාවක් මෙම කළු කුහරය වටා පරිභ්‍රමණය වන බවට අනාවරණය කරගෙන ඇත. මෙම තාරකාව වසර හතරක් වැනි කෙටි කාලයක් තුළ සුපිරි ස්කන්ධ කළු කුහරය වටා එක් පරිභ්‍රමණයක් සම්පූර්ණ කරයි. මෙයින් අදහස් කරන්නේ තරුව $8.0 \times 10^6 \text{ ms}^{-1}$ ඉතා ඉහළ වේගයකින් මෙම කළු කුහරය වටා ගමන් කරන බවයි. මෙම චලිතය විශ්ලේෂණය කිරීමෙන් නොපෙනෙන සුපිරි කළු කුහරයේ ස්කන්ධය ගණනය කළ හැක.

$G = 6.0 \times 10^{-11} \text{ Nm}^2\text{kg}^{-2}$ සහ ආලෝකයේ වේගය $c = 3.0 \times 10^8 \text{ ms}^{-1}$ ලෙසට ඔබට ගත හැක.

- (a) කළු කුහරයක් යනු කුමක් ද?
- (b) (i) ප්‍රථම මූලධර්මවලින් පටන්ගෙන විශේෂ ප්‍රවේගය $v_e = \sqrt{\frac{2GM}{R}}$ ප්‍රකාශනය ව්‍යුත්පන්න කරන්න.
- (ii) ඒකාකාර ρ ඝනත්වයක් ඇති ගෝලාකාර වස්තුවක් සඳහා, v_e , වස්තුවේ අරය R ට අනුලෝමව සමානුපාතික වන බව පෙන්වන්න.
- (iii) ඉහත (b) (i) හි ව්‍යුත්පන්න කළ ප්‍රකාශනයේ $v_e = c$ ලෙසට ගෙන ස්කන්ධය M වූ ගෝලාකාර වස්තුවක් සඳහා ශ්වාච්ඡවයිල්ඩ් අරය (R_s) සඳහා ප්‍රකාශනයක් G, M සහ c ඇසුරෙන් ලබා ගන්න.
- (c) සිදුවීම් ක්ෂිතිජයක් අර්ථ දැක්වීමේ හේතුව කුමක් ද?
- (d) කළු කුහරයකින් X-කිරණ නිකුත් කළ හැකි ද? ඔබගේ පිළිතුරට හේතු දෙන්න.
- (e) දිය සුළියක් සේ කරකැවෙමින් කළු කුහරය තුළට ඇදී යන 10^6 K උෂ්ණත්වයේ පවතින දූවිලි/වායු මගින් නිකුත් කෙරෙන විකිරණවල උච්ච තරංග ආයාමය (λ_m) නිර්ණය කරන්න. (වින් ගේ විස්ථාපන නියතය = $2900 \mu\text{m} \cdot \text{K}$).
- පහත (f) (i) සහ (f) (ii) සඳහා ඔබගේ පිළිතුරු විද්‍යාත්මක අංකනයෙන් පිළිවෙලින් දශම ස්ථාන දෙකකට සහ එකකට වටයන්න. ප්‍රශ්න අංක 5 ට පෙර දී ඇති සටහන බලන්න.
- (f) S4716 තාරකාව සුපිරි ස්කන්ධ කළු කුහරය වටා අරය r වන වෘත්තාකාර පථයක පරිභ්‍රමණය වන බව උපකල්පනය කරන්න. තාරකාව සහ සුපිරි ස්කන්ධ කළු කුහරය ඒකාකාර ඝනත්වයෙන් යුත් ගෝලාකාර හැඩයක් ගන්නා බව තව දුරටත් උපකල්පනය කරන්න.
 - (i) ඡේදයේ දී ඇති දත්ත භාවිත කොට r හි අගය නිර්ණය කරන්න. ($\pi = 3$ ලෙස ගන්න)
 - (ii) එනමින් සුපිරි ස්කන්ධ කළු කුහරයේ ස්කන්ධය M_B ගණනය කරන්න.
 - (iii) සුපිරි ස්කන්ධ කළු කුහරයේ ශ්වාච්ඡවයිල්ඩ් අරය R_s ගණනය කරන්න.
- (g) සූර්යයා හදිසියේම අද පවතින ස්කන්ධයෙන් යුක්තව කළු කුහරයක් බවට පත්වේ යැයි උපකල්පිත ලෙස සිතන්න.
 - (i) පෘථිවිය සූර්යයා වටා දැන් ගමන් කරන කක්ෂයේම දිගටම පරිභ්‍රමණය වේ ද? ඔබගේ පිළිතුර සඳහා හේතු දක්වන්න.
 - (ii) මේ නිසා පෘථිවියේ ජීවයට බලපෑම් ඇති විය හැකි ද? ඔබගේ පිළිතුර සඳහා ප්‍රධාන හේතුව දෙන්න.
 - (iii) අරය 2.4 km වන ගෝලයකට සූර්ය ස්කන්ධය හැකිලිය හැකිනම් සූර්යයා කළු කුහරයක් බවට පත්වන බව පෙන්වන්න. සූර්යයාගේ ස්කන්ධය $1.8 \times 10^{30} \text{ kg}$ ලෙස ගන්න.

9. (A) කොටසට හෝ (B) කොටසට හෝ පමණක් පිළිතුරු සපයන්න.

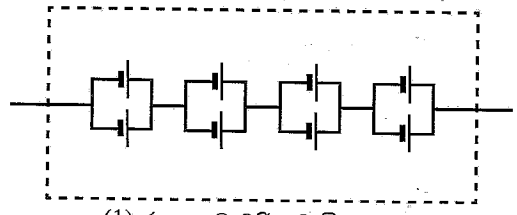
(A) කොටස

(a) පැය 1ක් තුළ කෝෂයකින් ලබාදිය හැකි උපරිම නියත ධාරාව කෝෂයේ ධාරිතාව (capacity) ලෙස අර්ථ දැක්වෙන අතර එහි ඒකකය ඇම්පියර-පැය (Ah) මගින් දෙනු ලබයි. ධාරිතාව 6 Ah සහ විද්‍යුත්ගාමක බලය 5.0 V බැගින් වූ සර්වසම කෝෂ දෙකක් බැටරියක් සෑදීමට සම්බන්ධ කර ඇත.

- (i) කෝෂ දෙක ශ්‍රේණිගතව සම්බන්ධ කර ඇත්නම්, සහ
- (ii) කෝෂ දෙක සමාන්තරගතව සම්බන්ධ කර ඇත්නම්,

බැටරියේ ධාරිතාවය (Ah වලින්) සහ විද්‍යුත්ගාමක බලය (V වලින්) ගණනය කරන්න.

(b) විද්‍යුත් මෝටර් රථ බැටරියක් සෑදීම සඳහා එක එකෙහි විද්‍යුත්ගාමක බලය 4.0 V වන සර්වසම කෝෂ 192ක් යොදාගෙන ඇත. කෝෂ අටක් (1) රූපයේ පෙන්වා ඇති පරිදි බැටරි මොඩියුලයක් සාදා ගැනීමට සම්බන්ධ කර ඇත. එවැනි මොඩියුල 24ක් ශ්‍රේණිගතව සම්බන්ධ කර 24 kWh විද්‍යුත් මෝටර් රථ බැටරිය සාදනු ලබයි.



(1) රූපය: බැටරි මොඩියුලය

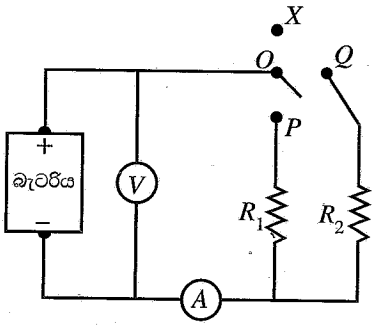
(i) එක් බැටරි මොඩියුලයක විද්‍යුත්ගාමක බලය (V වලින්), සහ ධාරිතාවය (Ah වලින්) ගණනය කරන්න. (1 kWh = 10³ V Ah ලෙස ඔබට ගත හැක.)

(ii) 24 kWh වූ විද්‍යුත් මෝටර් රථ බැටරියේ ධාරිතාවය (Ah වලින්) සහ විද්‍යුත්ගාමක බලය (V වලින්) ගණනය කරන්න.

(c) තිරස් මාර්ගයක 36 km h⁻¹ නියත වේගයකින් ගමන් කරන ඉහත විද්‍යුත් මෝටර් රථය එහි චලිතයට එරෙහිව 480 N සම්පූර්ණ ප්‍රතිරෝධක බලයක් අත්විඳියි. මෝටර් රථයේ වායු සමීකරණයේ (A/C) ක්ෂමතා පරිභෝජනය 1.2 kW වේ. පහත අවස්ථා සඳහා බැටරියේ ගබඩා වී ඇති සම්පූර්ණ ශක්තියෙන් (kWh වලින්) 50% පමණක් පරිභෝජනය කරමින් මෝටර් රථයට ගමන් කළ හැකි උපරිම දුර ගණනය කරන්න.

- (i) සම්පූර්ණ ගමන සඳහා වායුසමීකරණය (A/C) ක්‍රියාත්මක කර ඇති විට. (සම්පූර්ණ ගමන සඳහා වායුසමීකරණයේ ක්ෂමතා පරිභෝජනය නියත යැයි උපකල්පනය කරන්න.)
- (ii) සම්පූර්ණ ගමන සඳහා වායුසමීකරණය (A/C) ක්‍රියාත්මක නොමැති විට.

(d) ඉහත මෝටර් රථයේ අභ්‍යන්තරය උණුසුම් කිරීම සඳහා භාවිත කරන විද්‍යුත් පරිපථයක් (2) රූපයේ දැක්වේ. සීත කාලගුණයකදී වාහනයේ අභ්‍යන්තරය උණුසුම් කිරීමට අවශ්‍ය වූ විට, රියදුරුට ස්විච්චයක් යොදා ගනිමින් R₁ හෝ R₂ (R₁ < R₂) ප්‍රතිරෝධක හරහා ධාරාවක් ගමන් කිරීමට සැලැස්විය හැකිය. R₁ සහ R₂ ප්‍රතිරෝධක හරහා ගමන් කරන ධාරාව තාපය ආකාරයෙන් උත්සර්ජනය වී අභ්‍යන්තරය උණුසුම් කරයි. එමනිසා ප්‍රතිරෝධක තාපක ලෙස ක්‍රියා කරයි. කාලයක් සමග බැටරියේ අභ්‍යන්තර ප්‍රතිරෝධයක් ගොඩනැගෙන්නේ යැයි සලකන්න. අභ්‍යන්තර ප්‍රතිරෝධය 10 Ω වන ඇම්ටරයක් සහ පරිපූර්ණ වෝල්ටීම්ටරයක් පරිපථය පරීක්ෂා කිරීම සඳහා සම්බන්ධ කොට ඇත.



(2) රූපය

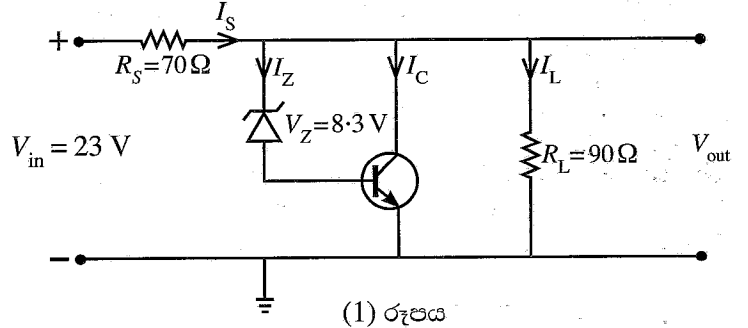
- (i) OP හෝ OQ සම්බන්ධ කිරීමෙන් රියදුරුට පරිපථය සම්පූර්ණ කළ හැක. අඩු සහ ඉහළ ක්ෂමතා උත්සර්ජනයක් ලබා ගැනීම සඳහා සුදුසු සම්බන්ධතා හඳුනා ගෙන ඒවා ලියා දැක්වන්න. උදාහරණයක් ලෙස, OX සම්බන්ධතාවය සෑදීම මගින් තාපක හරහා ධාරාව ගලා නොයන අතර පරිපථයෙන් R₁ සහ R₂ ඉවත් කරයි.
- (ii) තාපක ක්‍රියාත්මක නොවී ඇති විට වෝල්ටීම්ටර කියවීම 255 V වේ. පරිපථය R₁ ට සම්බන්ධ කළ විට වෝල්ටීම්ටර කියවීම 250 V දක්වා පහත වැටෙන අතර ඇම්ටරය 5.0 A කියවයි. බැටරියේ විද්‍යුත්ගාමක බලය, බැටරියේ අභ්‍යන්තර ප්‍රතිරෝධය සහ R₁ ප්‍රතිරෝධකයේ ප්‍රතිරෝධයෙහි අගය ගණනය කරන්න.
- (iii) ඉහත (d) (ii) හි සඳහන් ක්ෂමතා විධියේ ක්‍රියාත්මක වන විට තාපකයේ ක්ෂමතා උත්සර්ජනය ගණනය කරන්න.

(B) කොටස

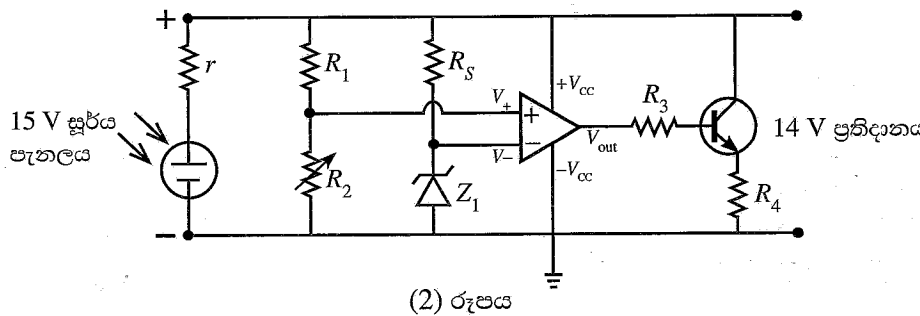
(a) පහත (1) රූපයේ දැක්වෙන පරිපථය සෙන්ට් දියෝඩයක් සහ ට්‍රාන්සිස්ටර සැකැස්මක් භාවිත කරමින් විචල්‍ය V_{in} ප්‍රදාන වෝල්ටීයතාවයකින් සුදුසු V_{out} ප්‍රතිදාන වෝල්ටීයතාවයක් ලබා ගනී. අවම ධාරාව 10 mA වූ සෙන්ට් දියෝඩයක් සහ සිලිකන් ට්‍රාන්සිස්ටරයක් පරිපථයේ භාවිත කර ඇත. ප්‍රතිරෝධය $R_S = 70 \Omega$, භාර ප්‍රතිරෝධය $R_L = 90 \Omega$ සහ සෙන්ට් වෝල්ටීයතාව $V_Z = 8.3 \text{ V}$ ලෙස සලකමු. $V_{in} = 23 \text{ V}$ ලෙස සලකන්න.

පහත දෑ ගණනය කරන්න.

- (i) V_{out} ($V_{BE} = 0.7 \text{ V}$ ලෙස ගන්න.)
- (ii) I_L ධාරාව
- (iii) I_S ධාරාව සහ
- (iv) අවම සෙන්ට් ධාරාවට අනුරූප වන I_C



- (b) ඉහත (1) රූපයේ පරිපථයට නියත V_{out} අගයක් පවත්වා ගැනීමට ප්‍රදාන වෝල්ටීයතා විචලනයක් යාමනය කළ හැක.
 - (i) $V_{in} = 23 \text{ V}$ සහ 30 V විට R_S ප්‍රතිරෝධය හරහා උත්සර්ජනය වන ක්ෂමතාවය ගණනය කරන්න.
 - (ii) ඉහත (b) (i) සඳහා ඔබේ ගණනයන් භාවිත කරමින්, පරිපථය ප්‍රදාන වෝල්ටීයතාවයේ වෙනසක් යාමනය කරන ආකාරය කෙටියෙන් පැහැදිලි කරන්න.
- (c) ඉහත (1) රූපයේ පරිපථයට ප්‍රතිදාන භාර-ප්‍රතිරෝධයේ වැඩිවීමක් නිසා සිදුවන ප්‍රතිදාන V_{out} වෝල්ටීයතා විචලනයක් යාමනය කළ හැක.
 - (i) භාර-ප්‍රතිරෝධය වැඩි වුවහොත්, සෙන්ට් ධාරාව I_Z සහ I_C වලට කුමක් සිදු වේ ද? ඔබේ පිළිතුර පැහැදිලි කරන්න.
 - (ii) භාර-ප්‍රතිරෝධය වැඩි වන විට සෙන්ට් දියෝඩය සහ ට්‍රාන්සිස්ටර සංයෝජනය මගින් ප්‍රතිදාන වෝල්ටීයතාවය යාමනය කරන්නේ කෙසේදැයි කෙටියෙන් පැහැදිලි කරන්න.
- (d) පහත (2) රූපයෙහි පෙන්වා ඇති පරිපථය 15 V දක්වා ජනනය කළ හැකි අභ්‍යන්තර ප්‍රතිරෝධයක් (r) සහිත සූර්ය පැනලයක් මගින් බැටරියක් ආරෝපණය කිරීමට භාවිත කරයි. පරිපථයේ ප්‍රතිදාන වෝල්ටීයතාවය 14 V නොඉක්මවිය යුතුය.



- (i) දී ඇති වරණ (අපවර්තන වර්ධකයක්, අපවර්තන නොවන වර්ධකයක්, සංසන්දකයක්) අතරින් ඉහත පරිපථයේ කාරකාත්මක වර්ධකයේ ක්‍රියාත්මක වීඩිය ලියා දක්වන්න.
- (ii) දීප්තිමත් හිරු එළිය යටතේ, ප්‍රතිදාන වෝල්ටීයතාවය 14 V නිපදවන පරිදි R_2 සකසනු ලැබේ. $R_1 = 9 \text{ k}\Omega$ සහ $R_2 = 5 \text{ k}\Omega$ වන විට කාරකාත්මක වර්ධකයේ ප්‍රතිදානය ධන ලෙස සංතෘප්ත වීම සඳහා Z_1 සෙන්ට් දියෝඩයට කිබිය යුතු වඩාත් සුදුසු උපරිම වෝල්ටීයතාවය V_Z ගණනය කරන්න.
- (iii) අපවර්තන නොවන ප්‍රදානයේ සහ අපවර්තන ප්‍රදානයේ වෝල්ටීයතා අතර $100 \mu\text{V}$ වෙනසකට කාරකාත්මක වර්ධකයේ ප්‍රතිදානය සංතෘප්ත වේ නම් පරිපථයේ ප්‍රතිදාන වෝල්ටීයතාවය 14 V විට කාරකාත්මක වර්ධකයේ විවෘත පුඩු වෝල්ටීයතා ලාභය ගණනය කරන්න. කාරකාත්මක වර්ධකයෙහි ප්‍රතිදාන සංතෘප්ත වෝල්ටීයතාවය සැලසුම් වෝල්ටීයතාවයට වඩා 2 V කින් අඩු බව උපකල්පනය කරන්න.
- (iv) මඳ හිරු එළිය යටතේ සූර්ය පැනලය 14 V ට වඩා අඩු වෝල්ටීයතාවක් ජනනය කරන විට මෙම පරිපථයේ කාරකාත්මක වර්ධකය සහ ට්‍රාන්සිස්ටරයේ ක්‍රියාකාරිත්වය කෙටියෙන් පැහැදිලි කරන්න.

10. (A) කොටසට හෝ (B) කොටසට හෝ පමණක් පිළිතුරු සපයන්න.

(A) කොටස

- (a) භාවිත කරන සංකේත පැහැදිලිව හඳුන්වමින් ද්‍රව්‍යක පරිමා ප්‍රසාරණතාව (γ) සඳහා ප්‍රකාශනයක් ලියා දක්වන්න.
- (b) එක්තරා දිනක නුවරඑළියේ ඇති ඉන්ධන පිරවුම්හලක ටැංකියේ පවතින පෙට්‍රල්වල උෂ්ණත්වය උදෑසනදී 7°C වන අතර පස්වරුවේදී උෂ්ණත්වය 27°C වේ. පෙට්‍රල්වල මධ්‍යන්‍ය පරිමා ප්‍රසාරණතාවය $9.6 \times 10^{-4} \text{ }^\circ\text{C}^{-1}$ වන අතර, 7°C දී පෙට්‍රල්වල ඝනත්වය 730 kg m^{-3} වේ. පිරවුම්හලෙන් පෙට්‍රල් ලීටර 20 ක් මෝටර් රථයකට පිරවීමට නියමිතය.
 - (i) 7°C දී පෙට්‍රල් ලීටර 20 ක ස්කන්ධය කොපමණ ද? ($1 \text{ m}^3 = 1000 \text{ ලීටර}$)
 - (ii) 7°C දී පෙට්‍රල් 1 m^3 ක උෂ්ණත්වය 27°C දක්වා වැඩි වූයේ නම්, එහි නව පරිමාව ගණනය කරන්න. (ඔබගේ පිළිතුර m^3 වලින් දශම ස්ථාන තුනකට වටයන්න.)
 - (iii) 27°C දී පෙට්‍රල්වල ඝනත්වය කොපමණ ද? [$\frac{7.3}{1.019} = 7.164$ ලෙස ගන්න. ඔබගේ පිළිතුර kg m^{-3} වලින් ආසන්න පූර්ණ සංඛ්‍යාවට දෙන්න.]
 - (iv) 27°C දී පෙට්‍රල් ලීටර 20 ක ස්කන්ධය ගණනය කරන්න.
 - (v) ඉන්ධන පිරවුම්හලෙන් 7°C දී පෙට්‍රල් ලීටර 20 පිරවුවහොත් 27°C දී ට වඩා අමතර පෙට්‍රල් කිලෝග්‍රෑම් කොපමණ ප්‍රමාණයක් මෝටර් රථයට ලැබේද?
- (c) පෙට්‍රල් බවුසරයක ටැංකිය ලෝහයකින් සාදා ඇති අතර ටැංකියේ අභ්‍යන්තර පරිමාව 7°C දී ලීටර 25 000 වේ. උණුසුම් දිනකදී පෙට්‍රල් සහ ටැංකියේ උෂ්ණත්වය 27°C වූ අතර ප්‍රසාරණය නිසා ටැංකිය සම්පූර්ණයෙන්ම පෙට්‍රල්වලින් පිරුණි. පෙට්‍රල්වල මධ්‍යන්‍ය පරිමා ප්‍රසාරණතාව $9.6 \times 10^{-4} \text{ }^\circ\text{C}^{-1}$ වන අතර ලෝහයෙහි රේඛීය ප්‍රසාරණතාව $2.4 \times 10^{-5} \text{ }^\circ\text{C}^{-1}$ වේ.
 - පහත (c) (i), (c) (iii) සහ (c) (iv) සඳහා ඔබගේ පිළිතුරු විද්‍යාත්මක අංකනයෙන් දශම ස්ථාන දෙකකට වටයන්න. ප්‍රශ්න අංක 5 ට පෙර දී ඇති සටහන බලන්න.
 - (i) ටැංකිය තුළ ඇති පෙට්‍රල්වල දාශ්‍ය පරිමා ප්‍රසාරණතාව ගණනය කරන්න.
 - (ii) එනමින් 7°C දී පෙට්‍රල්වල පරිමාව (ලීටර වලින්) ගණනය කරන්න. [$\frac{1}{1+1.776 \times 10^{-2}} = 0.98$ ලෙස ගන්න.]
 - (iii) උෂ්ණත්වය 7°C සිට 27°C දක්වා ඉහළ නැංවීම සඳහා පරිසරයෙන් කොපමණ තාපයක් ටැංකිය සහ පෙට්‍රල් අවශෝෂණය කර ඇත් ද? ලෝහයේ සහ පෙට්‍රල්වල විශිෂ්ට තාප ධාරිතා පිළිවෙලින් $5.0 \times 10^2 \text{ J kg}^{-1} \text{ K}^{-1}$ සහ $2.2 \times 10^3 \text{ J kg}^{-1} \text{ K}^{-1}$ වේ. හිස් ටැංකියේ ලෝහයේ ස්කන්ධය $2.0 \times 10^3 \text{ kg}$ වේ.
 - (iv) 7°C දී ටැංකිය පෙට්‍රල්වලින් හරි අඩක් පුරවා ඉතිරි කොටස $1.0 \times 10^5 \text{ Pa}$ වායුගෝලීය පීඩනයේ ඇති වාතය සමගින් මුද්‍රා තබා ඇතැයි සිතමු. 27°C දී ටැංකිය තුළ මුළු පීඩනය නිර්ණය කරන්න. 27°C දී පෙට්‍රල්වල සංතෘප්ත වාෂ්ප පීඩනය $7.47 \times 10^4 \text{ Pa}$ වේ. මෙම ගණනය සඳහා ලෝහයේ සහ පෙට්‍රල්වල පරිමා ප්‍රසාරණය නොසලකා හරින්න.
 - (v) ඉහත (c) (iv) අවස්ථාවේ 27°C දී බවුසරය තුළ පවතින පෙට්‍රල් වාෂ්ප මවුල ගණන කොපමණ ද? සාර්වත්‍ර වායු නියතය $R = 8.3 \text{ J mol}^{-1} \text{ K}^{-1}$. පෙට්‍රල් වාෂ්ප පරිපූර්ණ වායුවක් සේ හැසිරෙන බව උපකල්පනය කරන්න.

(B) කොටස


මාත්‍රාමානයක් (Dosimeter) යනු අයනීකරණ විකිරණ නිරාවරණය (exposure) මැනීමට භාවිත කරන උපකරණයකි. එය මිනිස් සිරුර නිරාවරණය වන විකිරණ ප්‍රමාණය මැනීමට භාවිත කළ හැකි අතර ආරක්ෂාව සඳහා එය අත්‍යවශ්‍ය පියවරකි. සක්‍රීය (active) සහ අක්‍රීය (passive) මාත්‍රාමාන ලෙස මාත්‍රාමාන වර්ග දෙකක් ඇත. සක්‍රීය මාත්‍රාමානයක් මගින් එම අවස්ථාවේදීම නිරාවරණය ලබා ගත හැක. අක්‍රීය මාත්‍රාමානයක් මගින් යම් නිශ්චිත කාලයක් තුළ පුද්ගලයකු අවශෝෂණය කරන විකිරණ ප්‍රමාණය මනිනු ලැබේ. වඩාත් බහුලව භාවිත වන අක්‍රීය මාත්‍රාමානය වන්නේ තාපප්‍රතිදීප්ත මාත්‍රාමානයයි. (Thermoluminescent dosimeter, TLD)

තාපප්‍රතිදීප්ත ස්ඵටිකයක් අයනීකරණ විකිරණවලට නිරාවරණය වූ විට, එම විකිරණ ශක්තිය අවශෝෂණය කර එහි ස්ඵටික දැලිසෙහි රඳවා ගනියි. ස්ඵටිකය රත් කළ විට, එහි රඳවාගත් ශක්තිය දෘශ්‍ය ආලෝකය ලෙස මුදා හරියි. එම ආලෝකයේ තීව්‍රතාවය ස්ඵටිකය නිරාවරණය වූ අයනීකරණ විකිරණවල තීව්‍රතාවයට සමානුපාතික වේ. විමෝචනය වන ආලෝකය ප්‍රකාශ සංවේදී පෘෂ්ඨයක් මත පතනය වීමට ඉඩ දී එමගින් කුඩා ධාරාවක් නිපදවයි. අවසානයේ මෙම ධාරාව වර්ධනය කර මැන ගනු ලැබේ.

ගයිගර්-මුලර් ගණකයක් (Geiger-Müller counter) භාවිත කොට අයනීකරණ විකිරණ අනාවරණය කර ගත හැක. විවිධ ද්‍රව්‍යවලින් සාදන ලද වෙනස් සනකම් සහිත අවශෝෂක තහඩු (absorber plates) භාවිත කොට GM ගණකයක් මත පතිත වන විකිරණ වර්ගය නිර්ණය කළ හැක.

- (a) වාතය අයනීකරණය කිරීමට හැකි විකිරණ වර්ග තුනක් ලියන්න.
- (b) අක්‍රීය මාත්‍රාමානයකට වඩා සක්‍රීය මාත්‍රාමානයක ඇති වාසියක් ලියන්න.
- (c) අර්ධ ආයු කාලය පැය 1 ක් වන විකිරණශීලී ද්‍රව්‍යයක සක්‍රීයතාවය ගයිගර්-මුලර් ගණකයක් මගින් මනිනු ලබයි. ආරම්භක ගිණිම් ශීඝ්‍රතාවය තත්පරයට ගිණිම් 64 නම් පැය තුනකට පසු ගිණිම් ශීඝ්‍රතාවය ගණනය කරන්න.
- (d) විවිධ අවශෝෂක තහඩු භාවිතයෙන් ගයිගර්-මුලර් ගණකයක් මත පතනය වන අයනීකරණ විකිරණ වර්ගය තීරණය කළ හැක්කේ කෙසේ ද?
- (e) TLD මාත්‍රාමානයක් මගින් 198 nW තීව්‍රතාවයකින් යුත් තරංග ආයාමය 400 nm නිල් ආලෝකය නිකුත් කරයි. මෙම විමෝචනය වන ආලෝකය 2.0 eV කාර්ය ශ්‍රිතයක් සහිත සීසියම් වලින් සාදන ලද ප්‍රකාශ පෘෂ්ඨයකට ලම්බව පතිත වේ යැයි උපකල්පනය කරන්න. (ප්ලාන්ක් නියතය = 6.6×10^{-34} Js, ආලෝකයේ වේගය = 3.0×10^8 ms⁻¹, ඉලෙක්ට්‍රෝනයේ ආරෝපණය = 1.6×10^{-19} C, 1 eV = 1.6×10^{-19} J)
 - (i) තත්පරයකට ප්‍රකාශ පෘෂ්ඨය මත පතිත වන නිල් ආලෝකයේ පෝටෝන සංඛ්‍යාව නිර්ණය කරන්න.
 - (ii) ප්‍රකාශ සංවේදී පෘෂ්ඨය මත පතනය වන එක් එක් පෝටෝන 100 ක් මගින් ඉලෙක්ට්‍රෝන 10 ක් පිට කළහොත් ප්‍රකාශ සංවේදී පෘෂ්ඨය මගින් නිපදවන ධාරාව නිර්ණය කරන්න.
 - (iii) ප්‍රකාශ සංවේදී පෘෂ්ඨයෙන් පිට කරන ප්‍රකාශ ඉලෙක්ට්‍රෝනවල උපරිම වාලක ශක්තිය (J වලින්) ගණනය කරන්න.
- (f) CT පරිලෝකකයක් (CT scanner) මිනිස් සිරුර වටා විවිධ කෝණවලින් X-කිරණ පෙළක් ලබා ගනී. වෛද්‍ය පර්යේෂණාගාරයක ඇති CT පරිලෝකකයක් පර්යේෂක කටයුත්තක් සඳහා පූර්ණකාලීනව ක්‍රියාත්මක වේ. CT පරිලෝකකය අසල තබා ඇති TLD මාත්‍රාමානයක් 250 mSv/year (mSv/වසරක්) විකිරණ මාත්‍රාවක් වාර්තා කර ඇත.
 - (i) CT පරිලෝකකයේ ක්‍රියාකරු කාමරයේ සිටින විකිරණ විද්‍යාඥයෙකුට CT පරිලෝකකය ක්‍රියාත්මක වනවිට ලැබෙන විකිරණවලින් 10%කට නිරාවරණය විය හැක. විද්‍යාඥයා නිරාවරණය වීමට හැකි උපරිම මාත්‍රාව mSv/year වලින් ගණනය කරන්න.
 - (ii) විකිරණ කටයුතුවල නියැලෙන පුද්ගලයකු සඳහා අවසර දිය හැකි උපරිම වාර්ෂික මාත්‍රාව 20 mSv/year වේ. විද්‍යාඥයා දිනකට පැය 6 බැගින් වසරකට දින 146 ක් වැඩ කරන්නේ නම්, අවසර දිය හැකි උපරිම වාර්ෂික මාත්‍රාව ඉක්මවා ඔහුට නොලැබෙන බව ඔප්පු කරන්න.
 - (iii) විද්‍යාඥයාගේ ස්කන්ධය 75 kg ක් නම් ඔහු වසරකට කොපමණ විකිරණ ශක්ති ප්‍රමාණයකට (J වලින්) නිරාවරණය වේ ද?

[X-කිරණ සඳහා, මාත්‍රාව Sv වලින් = මාත්‍රාව Gy වලින්; 1 Gy = 1 Jkg⁻¹]



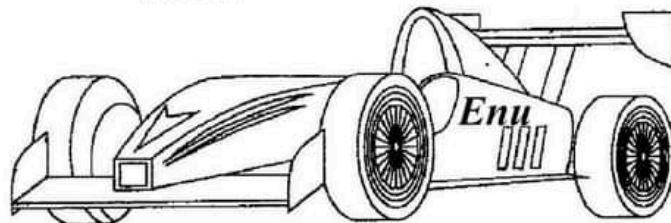
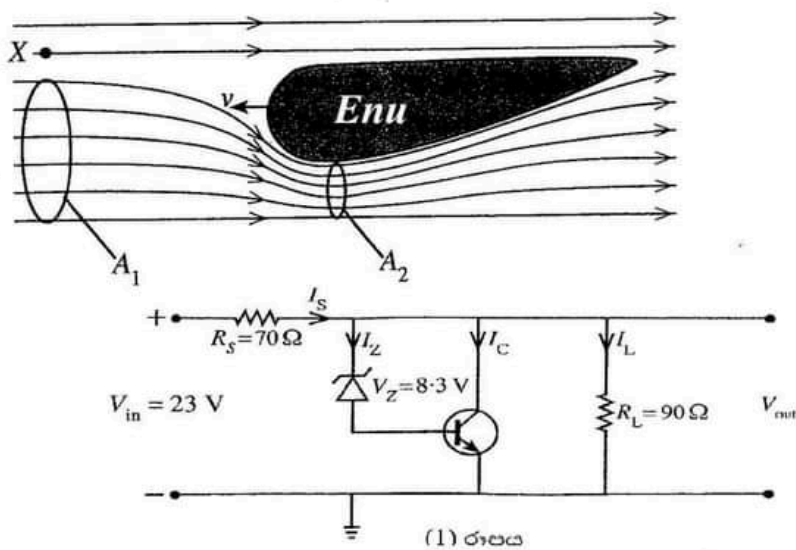


ශ්‍රී ලංකා විභාග දෙපාර්තමේන්තුව

අ.තො.ස. (උ.සෙළ) විභාගය - 2022 (2023)

01 - භෞතික විද්‍යාව

ලකුණු දීමේ පටිපාටිය



Enu

ශ්‍රී ලංකා විභාග දෙපාර්තමේන්තුව
 இலங்கைப் பரீட்சைத் திணைக்களம்
 අ.පො.ස. (උ.පෙළ) / க.பொ.த. (உயர் தர)ப் பரீட்சை- 2022 (2023)

විෂය අංකය
 பாட இலக்கம்

Enu

විෂය
 பாடம்

භෞතික විද්‍යාව

ලකුණු දීමේ පටිපාටිය / புள்ளிவழங்கும் திட்டம்
 I පත්‍රය / பத்திரம் I

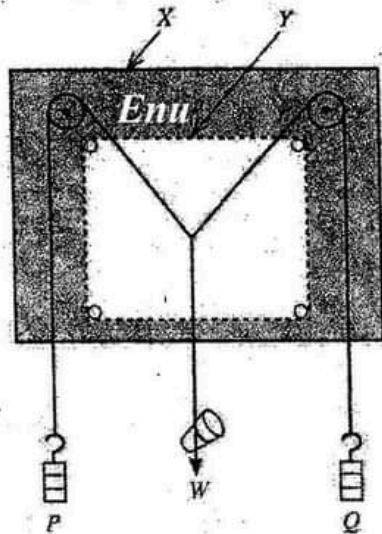
ප්‍රශ්න අංකය வினா இல.	පිළිතුරු අංකය விடை இல.	ප්‍රශ්න අංකය வினா இல.	පිළිතුරු අංකය விடை இல.	ප්‍රශ්න අංකය வினா இல.	පිළිතුරු අංකය விடை இல.	ප්‍රශ්න අංකය வினா இல.	පිළිතුරු අංකය விடை இல.	ප්‍රශ්න අංකය வினா இல.	පිළිතුරු අංකය விடை இல.
01.	04	11.	03	21.	02	31.	05	41.	05
02.	05	12.	03	22.	03	32.	04	42.	01
03.	05	13.	01	23.	04	33.	03	43.	02
04.	01	14.	05	24.	02	34.	04	44.	03
05.	04	15.	02	25.	02	35.	04	45.	01
06.	05	16.	05	26.	04	36.	02	46.	02
07.	04	17.	04	27.	03	37.	04	47.	01
08.	02	18.	02	28.	01	38.	05	48.	04
09.	02	19.	01	29.	05	39.	01	49.	03
10.	03	20.	01	30.	03	40.	02	50.	02

විශේෂ උපදෙස්/விசேட அறிவுறுத்தல் :

එක් පිළිතුරකට/ஒரு சரியான விடைக்கு ලකුණු 01 බැගින්/புள்ளி வீதம்

මුළු ලකුණු/மொத்தப் புள்ளிகள் 1× 50= 50

1. රූපයේ දැක්වූ ඇති පාසැල් විද්‍යාගාරයේ පවතින සත්‍යමුඛ භාවිතයෙන් කුඩා විදුරු මූඛික බර (W) සහ එහිම ඉවසන සාපේක්ෂ ඝනත්වය තීරණය කිරීමට ඔබට නියමුව ඇත.



(a) රූපයේ ඇති X සහ Y මගින් නිරූපණය වන අගිතම නම් කරන්න.

X - සිත්තම් පුවරුව/අදින පුවරුව/අදින ලෑල්ල හෝ සමාන්තරාස්‍ර පුවරුව/සමාන්තරාස්‍ර ලෑල්ල/ හෝ සමාන්තරාස්‍ර උපකරණය නිසි ලෙස X(01)

Y - සුදු කඩදාසිය / සුදු කොළය හෝ ගොටෝ කොපි කඩදාසිය/කොළය(01)

(ලෑල්ල / පුවරුව සහ කොළය පමණක් සඳහා ලකුණු නැත)

(b) (i) කළු ඝර්ෂණයෙන් තොරවූ ඔබ පරීක්ෂා කරන්නේ කෙසේ ද?

මැද භාරය / W භාරය / මූඛික පහළට ඇද(01)

තත්කවල මධ්‍ය ලක්ෂ්‍යය / තේදන ලක්ෂ්‍යය / භාරය (මූඛික) නැවත ආරම්භක පිහිටුමට පැමිණෙන්නේ දැයි පරීක්ෂා කිරීමට මුදා හරින්න.(01)

(ii) ඝර්ෂණය පවතී නම්, එය අවම කරන්නේ කෙසේ ද?

ලිහිසි තෙල් හෝ එන්ජින් තෙල් හෝ මැමින් තෙල් යොදන්න.(01)

(තෙල් පමණක් හෝ පොල්තෙල් හෝ ග්‍රීස් සඳහා ලකුණු නැත)

(c) (i) දත්ත P සහ Q භාර සහ බර W වූ විදුරු මූඛික රූපයේ දැක්වෙන පරිදි සැහැල්ලු කැපී භාවිතයෙන් එල්ලා ඇත. ඔබ අදාළ තත්කවල පිහිටීම නිවැරදිව සලකුණු කරන්නේ කෙසේ ද?

විහිත චතුරස්‍රයක් පුවරුවට ලම්බකව(01)

තත්ක දිගේ යම්තමින් ස්පර්ශ වන සේ තබා(01)

අවශ්‍ය තරමින් / උපරිම පරතරයකින් / 5 cm තරමවත් ඇතින් ඇති(01)

ලක්ෂ්‍ය දෙකක් සලකුණු කරන්න.(01)

[විකල්ප පිළිතුර:

ආර් කෙරී

අවශ්‍ය තරම් දිගින් යුත් තල දර්පණ (කැබැල්ලක්) තන්තුවලට යටින් තබා ... (01)

ලම්බකව බලමින් / (01)

තන්තුවේ එහි ප්‍රතිබිම්බයේ වැසෙන විට (01) අවශ්‍ය නම් X

තන්තුවේ ප්‍රතිබිම්බයේ දෙකෙළවර සලකුණු කරන්න. (01)}

(ii) සුදුසු පරිමාණයක් භාවිතයෙන් සමාන්තරාස්‍රය නිර්මාණය කළ පසු, ඔබ බර W නිර්ණය කරන්නේ කෙසේ ද?

විකර්ණයේ දිග මැනගෙන (01)

තෝරාගත් පරිමාණය භාවිතයෙන් එය භාරයට හරවන්න. (01)

(d) (i) ද්‍රවයේ සාපේක්ෂ ඝනත්වය නිර්ණය කිරීම සඳහා දැන් එම සැකසුම භාවිත කරයි. බිකර දෙකක්, ජලය සහ ද්‍රවය දී ඇත. ජලය හෝ ද්‍රවය තුළදී මුඩියේ දෘශ්‍ය බර නිර්ණය කිරීම සඳහා ඔබ අනුගමනය කරන පරීක්ෂණාත්මක පියවර ලියා දක්වන්න.

(ජලයේ හෝ ද්‍රවයේ) මුඩිය සම්පූර්ණයෙන් ගිල්වන්න. (01)

අදාළ සමාන්තරාස්‍ර නිර්මාණය කොට අනුරූප විකර්ණවල දිග මැන ගන්න (01)

(ii) ඉහත මිනුම්වලින් හඳුනාගත යුතු මුඩියේ දෘශ්‍ය බර දෙක තුමක් ද?

W_1 - ජලය තුළදී මුඩියේ බර (දෘශ්‍ය) බර (01)

W_2 - ද්‍රවය තුළදී මුඩියේ බර (දෘශ්‍ය) බර (01)

(W_1 හා W_2 හුවමාරු වූවත් සම්පූර්ණ ලකුණු දෙන්න)

(iii) විදුරු මුඩියෙහි දෘශ්‍ය බර අඩු වීම සඳහා ප්‍රකාශන දෙකක් W , W_1 සහ W_2 ඇසුරෙන් ලියා දක්වන්න.

ජලයේ දී දෘශ්‍ය බර අඩු වීම - $W - W_1$ Enu (01)

ද්‍රවයේ දී දෘශ්‍ය බර අඩු වීම - $W - W_2$ (01)

(ඉහත (ii) කොටසේ පිළිතුරුවලට අනුව මෙම ලකුණු ප්‍රදානය කරන්න)

(iv) එනමින් ඉහත (d) (iii) හි ඔබ දී ඇති පිළිතුරු භාවිත කරමින් ද්‍රවයේ සාපේක්ෂ ඝනත්වය සඳහා ප්‍රකාශනයක් ලියා දක්වන්න.

ද්‍රවයේ සාපේක්ෂ ඝනත්වය = $\frac{W - W_2}{W - W_1}$ (01)

(ඉහත (iii) කොටසේ පිළිතුරුවලට අනුව මෙම ලකුණු ප්‍රදානය කරන්න)

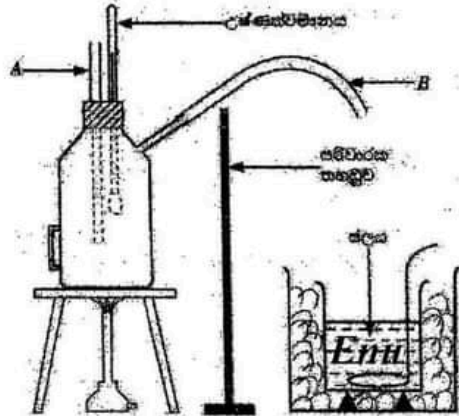
(v) ද්‍රවයේ සාපේක්ෂ ඝනත්වයේ අගයට බලපාන, ඉහත (d)(i) හි පරීක්ෂණාත්මක ක්‍රියාපටිපාටියෙහි සිදුවිය හැකි දෝෂයක් (සමාන්තරාස්‍රය තැනීමට අදාළ නොවන) ලියා දක්වන්න.

බිකරයේ පතුළේ / බිත්තියේ මුඩිය ස්පර්ශ වීම හෝ මුඩියට ඇදුණු වායු බුබුළු පැවතීම (02)

(එක් නිවැරදි පිළිතුරක් සඳහා ලකුණු 02)

02 ආර් 0

2. මිශ්‍රණ ක්‍රමය භාවිතයෙන් ජලයේ වාෂ්පීකරණයේ විශිෂ්ට භූමිකා කාරක නිර්ණය කිරීමට මෙවල නියම ව ඇත. රූපයේ දැක්වෙන්නේ හුමාලය ජනනය කිරීම සඳහා විද්‍යාගාරයේ භාවිත කරන තඹ බොයිලෝරුවකි. B රබර් නළය හුමාලය පිටතට ගැනීමට භාවිත කරයි. පරිවරණය කරන ලද තඹ කැලරිමීටරයක් සහ ඔබ් මන්ටරයක් ද සටහන ඇත.



(a) (i) බොයිලෝරුවේ ජල මට්ටම ප්‍රමාණවත් නොවේ නම්, A නළය භාවිතයෙන් ඔබ් එය සඳහා ගන්නේ කෙසේ ද?

රත් වීමේදී A නළය තුළින් හුමාලය පිටවේ. (02)

(ii) ඉහත (a)(i) හි දෝෂය නිවැරදි කිරීමෙන් පසු බොයිලෝරුව තුළ හුමාලය ජනනය කරයි. හුමාලය පිටතට ගන්නා රබර් නළය අවහිර වී ඇත්නම් එය සඳහා ගන්නේ කෙසේ ද?

රත්වීමේදී A නළය තුළින් (උණු) ජලය පිටවේ. (02)

නලය තුළින් ඔබ්ලා පරිසරය උණු දැරණය නැත.

(b) මෙම පරීක්ෂණයේදී B නළයෙන් පිටවන හුමාලය සෘජුවම ජලය සමඟ මිශ්‍ර කිරීම නිවැරදි නොවේ.

(i) එයට හේතුව ලියා දක්වන්න.

ජලය වටා භරණය හුමාලය

නළය තුළින් හුමාලය සමඟ සනීභවනය වූ (උණු) ජලය පැමිණිය හැක. (01)

(ii) ඔබ් එය නිවැරදි කරන්නේ කෙසේ?

රබර් නළයේ කෙළවරට හුමාල හබකයක් සම්බන්ධ කළ යුතු ය. (02)

(හෝ රූපයේ ඇඳ ඇති නිවැරදි රූප සටහනක්)

(c) මෙම පරීක්ෂණය සඳහා ඔබ්ව අවශ්‍ය අනෙකුත් මිනුම් උපකරණ දෙක මොනවා ද?

තවත් උපකරණවලාභයක් (01)

තෙදඩු / සිව් දඬු තුලාවක් [හෝ රසායනික තුලාවක් හෝ (පරීක්ෂණාගාර)

ඉලෙක්ට්‍රොනික තුලාවක්] (01)

(d) ඉහත (b) (ii) හි සඳහන් නිවැරදි කිරීම සිදු කිරීමෙන් පසු ඔබ් කැලරිමීටරයේ ජලයට හුමාලය යවයි. හුමාලය යවන විදුරු කළයේ කෙළවර නිවැරදිව පිහිටුවන්නේ කෙසේ ද? නිවැරදි ක්‍රියා පටිපාටිය ගවුන් ඉරක් අඳින්න.

ජල මට්ටමට ස්වල්පයක් ඉහළින් / ජල මට්ටම ස්පර්ශ කරමින් / ජල මට්ටමට පහළින් (01)

(e) මෙම පරීක්ෂණයේදී ඔබ් ගැනීමට බලාපොරොත්තු වන උපකරණ මිනුම් මොනවාද? එම මිනුම් අනුපිළිවෙළට දෙන්න.

- θ_1 : (බොයිලෝරුවේ ඇති) හුමාලයේ උෂ්ණත්වය [100 °C සඳහා ලකුණු නැත.]
- θ_2 : (කැලරිමීටරයේ ඇති) ජලයේ ආරම්භක උෂ්ණත්වය
- θ_3 : (ජලයේ හා හුමාල) මිශ්‍රණයේ උපරිම උෂ්ණත්වය

↑ ඉර ඉහත -
↓ නිවැරදි නැත.

..... (03)

[අනුපිළිවෙලට ඇති නිවැරදි පිළිතුරු 03 සඳහා ලකුණු 03, නිවැරදි නමුත් අනුපිළිවෙලට නැති පිළිතුරු 03 සඳහා ලකුණු 02, අනුපිළිවෙලට ඇති නිවැරදි පිළිතුරු 02 ක් සඳහා ලකුණු 01.]

{ θ_1 හා θ_2 හි අනුපිළිවෙල හුවමාරු වූවත් නිවැරදි ලෙස සලකන්න }

(f) (i) ඉහත උෂ්ණත්ව මිනුම්වලට අමතරව මෙම පරීක්ෂණයේදී ඔබ ගන්නා අනෙකුත් මිනුම් මොනවාද? එම මිනුම් අනුපිළිවෙලට දෙන්න.

- m_1 : (හිස්) කැලරිමීටරය සහ මත්ඵයේ / කැලරිමීටරය අඩංගු දෑ සමඟ ස්කන්ධය
 - m_2 : කැලරිමීටරය, මත්ඵය සහ ජලයේ ස්කන්ධය
 - m_3 : (හුමාලය එක් කළ පසු) පද්ධතියේ / මිශ්‍රණයේ මුළු/ අවසාන ස්කන්ධය
- } ජලයේ, නිවැරදි ලකුණ.
-(02)

[අනුපිළිවෙලට ඇති නිවැරදි පිළිතුරු 03 සඳහා ලකුණු 02, නිවැරදි නමුත් අනුපිළිවෙලට නැති පිළිතුරු 03 සඳහා ලකුණු 01, අනුපිළිවෙලට ඇති නිවැරදි පිළිතුරු 02 ක් සඳහා ලකුණු 01.]

(ii) තඹ සහ ජලයෙහි විශිෂ්ට තාප ධාරිතා පිළිවෙලින් c_p සහ c_w වේ නම් ජලයේ වාෂ්පීකරණයේ විශිෂ්ට ගුණක කාපය (L) නිර්ණය කිරීම සඳහා ප්‍රකාශනයක් ඉහත (e) සහ (f) හි සඳහන් සංකේත ඇසුරෙන් ලියා දැක්වන්න. පරිසරය සමඟ තාප හුවමාරුවක් සිදු නොවන බව උපකල්පනය කරන්න.

$$[(m_2 - m_1)c_w + m_1c_c](\theta_3 - \theta_2) = (m_3 - m_2)[L + c_w(\theta_1 - \theta_3)] \quad \text{Enu} \dots (03)$$

[එම පස සඳහා ලකුණු 01, දකුණු පස සඳහා ලකුණු 01, සමාන කිරීම සඳහා ලකුණු 01]

{ θ_1 හා θ_2 , එකිනෙකින් හුවමාරු කොට ඇත්නම් ඉහත ප්‍රකාශනයේ අදාළ වෙනස්කම් පරීක්ෂා කොට මුළු ලකුණු ලබා දෙන්න. ප්‍රකාශනයේ θ_1/θ_2 සඳහා 100 ලියා ඇත්නම් නිවැරදි ලෙස සලකන්න } (ඉකුණු ලියා ඇත්නම් 01 ලකුණ.)

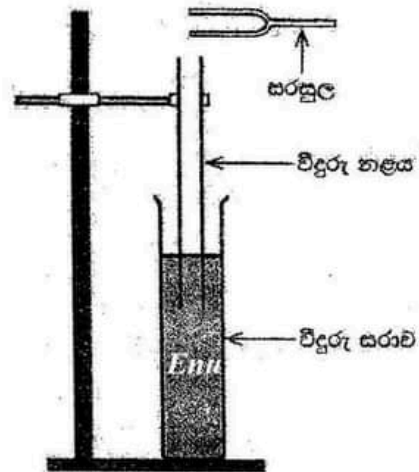
(g) අවට පරිසරය සමඟ තාප හුවමාරුව නිසා ඇතිවන දෝෂය අවම කර ගැනීමට මෙම පරීක්ෂණයේදී ඔබ ගන්නා පූර්වෝපාය කුමක් ද?

(උරිඟු/ගෘහාර / ඊරිසර / භාතය)

ජලයේ පටන් ගන්නා (ආරම්භක) උෂ්ණත්වය කාමර උෂ්ණත්වයේ සිට 5°C කින් (යම් ප්‍රමාණයකින්) (අයිස් දමා) අඩු කොට(01)

මිශ්‍රණයේ උපරිම උෂ්ණත්වය කාමර උෂ්ණත්වයේ සිට 5°C කින් (එම ප්‍රමාණයෙන්ම) ඉහළ නංවන තුරු හුමාලය යවන්න (01)

3. වාතයේ ධ්වනි වේගය (v) නිර්ණය කිරීම සඳහා පාසල් විද්‍යාගාරය තුළදී භාවිත කරන සුපුරුදු පරීක්ෂණාත්මක ඇටවුම් රූපයේ පෙන්වා ඇත. ඇටවුම්ව දෙකෙළවර විවෘත විදුරු තලයක්, ජලය පිරවූ උස විදුරු සරාවක් සහ සරසුල් කට්ටලයක් අයත් වේ. වාතයේ ධ්වනි වේගය නිර්ණය කිරීම සඳහා අනුකාද ක්‍රමය යොදා ගනී.



(a) මෙම පරීක්ෂණය සිදු කිරීම සඳහා අවශ්‍ය අනෙක් මිනුම් උපකරණය කුමක් ද?

මීටර කෝදුව(01)

(b) පහත අසම්පූර්ණ ප්‍රකාශයේ හිස්තැන උචිත වචනයෙන් පුරවන්න.

වස්තුවක් අනෙක් වස්තුවේ ස්වාභාවික සංඛ්‍යාතයෙන් කම්පනය වන විට පළමු(01)
වස්තුව දෙවන වස්තුව අනුකාද කරවයි.

(c) (i) අනුකාදයේදී තලය තුළ භවගන්නේ කුමන වර්ගයේ තරංගයක් ද? නිවැරදි පිළිතුරු යටින් ඉරක් අදින්න.

(1) අන්වයාම / නිරයයක්(01)

(2) ප්‍රගමන / ස්ථාවර(01)

(ii) ඔබ (c) (i) හි කෝරයගත් තරංගය භවගන්නේ කෙසේද?

පකිනි තරංග (ජල පෘෂ්ඨයෙන්) පරාවර්තනය වන තරංග සමඟ අධිස්ථාපනය වීමෙන් (01)

(d) තලයේ පළමු කම්පන විධියට (මූලිකයට) අදාළ අනුකාද දිග නිවැරදිව ලබා ගැනීම සඳහා ඔබ අනුගමනය කරන පරීක්ෂණාත්මක ක්‍රියා පිළිවෙළ පියවර ආකාරයෙන් සඳහන් කරන්න.

තලය සම්පූර්ණයෙන් ගිල්වන්න / වායු කඳේ කෙටිම දිගකින් පටන් ගන්න(01)

කම්පනය වන සරසුල තලයේ ඉහළ / විවෘත කෙළවරට ඉහළින් තබන්න(01)

උස් / උපරිම හඬක් ඇසෙන තුරු (අනුකාදය ඇතිවන අවස්ථාව) (01)
තලය ජලයෙන් ඉහළට ඔසවන්න / වායු කඳේ දිග වැඩි කරන්න

(e) සංඛ්‍යාතය f වන දී ඇති සරසුලක් සඳහා තලයේ පළමු කම්පන විධියට සහ දෙවන කම්පන විධියට අනුරූප අනුකාද දිග ඔබට මැනීමට ඇත.

(i) පළමු කම්පන විධියට අනුරූප අනුකාද දිග l_1 නම්, l_1 සඳහා ප්‍රකාශනයක් තරංගයේ තරංග ආයාමය λ සහ තලයේ ආත්ත ශෝධනය e ඇසුරෙන් ලියා දක්වන්න.

$$l_1 = \frac{\lambda}{4} - e \quad \dots\dots\dots(01)$$

(ii) දෙවන කම්පන විධියට අනුරූප අනුනාද දිග l_2 නම්, l_2 සඳහා ප්‍රකාශනයක් තරංගයේ තරංග ආයාමය λ සහ නළයේ ආන්ත ශෝධනය e ඇසුරෙන් ලියා දක්වන්න.

$$l_2 = \frac{3\lambda}{4} - e \dots\dots\dots(01)$$

{ශිෂ්‍යයෙක් $l_1 + e = \frac{\lambda}{4}$ සහ $l_2 + e = \frac{3\lambda}{4}$ ලෙස ලියා ඇත්නම් එක් ලකුණක් පමණක් ප්‍රදානය කරන්න}

(iii) එතයින් ($l_2 - l_1$) සඳහා ප්‍රකාශනයක් λ ඇසුරෙන් ලියා දක්වන්න.

$$l_2 - l_1 = \frac{\lambda}{2} \dots\dots\dots(01)$$

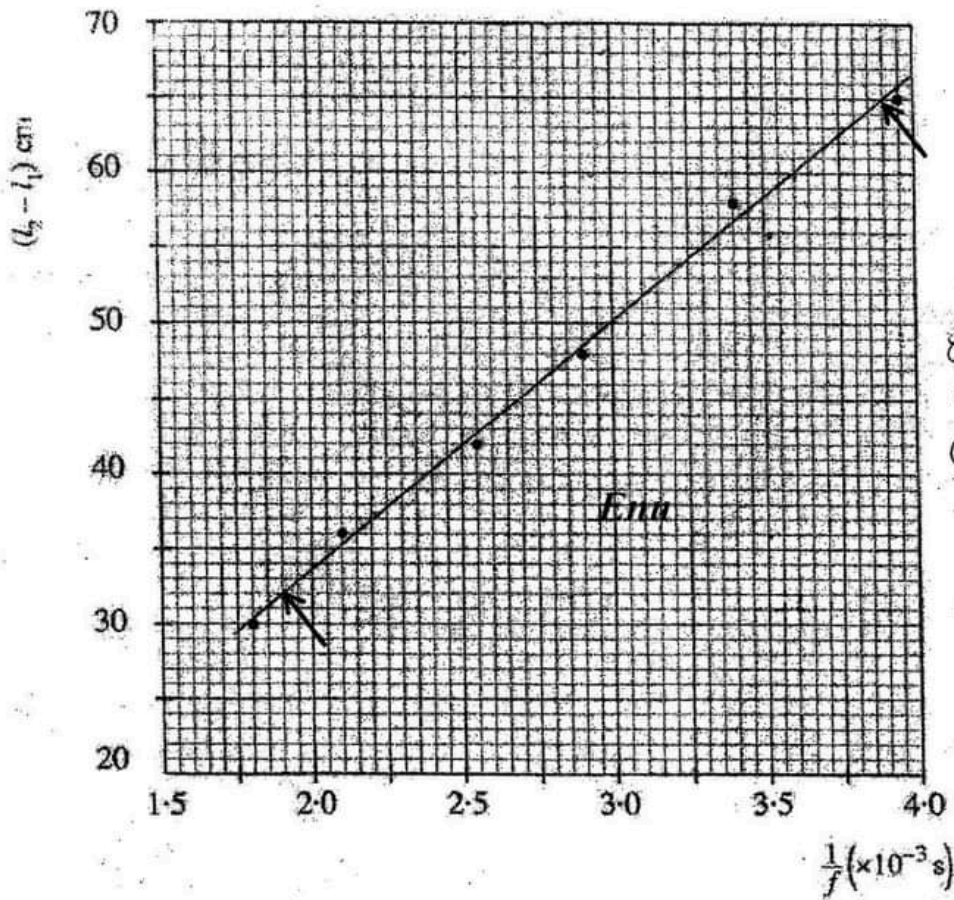
(iv) ($l_2 - l_1$) ලබාගැනීමේ වාසිය කුමක් ද?

නළයේ ආන්ත ශෝධනය/ e ඉවත් වේ.(01)

(v) ඉහත (e) (iii) හි ලියන ලද ප්‍රකාශනයට v සහ f ආදේශ කොට සරල රේඛා ප්‍රස්තාරයක් ලබා ගැනීම සඳහා එය නැවත සකසන්න.

$$l_2 - l_1 = \frac{v}{2f} \dots\dots\dots(01)$$

(f) පහත පෙන්නවා ඇති ඡාලයේ $\frac{1}{f}$ එදිරිව ($l_2 - l_1$) ප්‍රස්තාරය පෙන්වයි. ප්‍රස්තාරය හැඩිත කොට වාගයේ ධ්වනි වේගය v (ms^{-1} වලින්) ගණනය කරන්න.



දක්වන රේඛාව වල
විකල භාගයක් දැන්ව
ලෙස ආරා ආරා

Enu

(e) මෙම පරීක්ෂණය සිදු කිරීම සඳහා E_1, E_2 සහ E_0 සම්බන්ධයෙන් යම් කොන්දේසි සපුරාලිය යුතුය. ඒවා මොනවා ද?

E_0 ට වඩා E_1 කුඩා විය යුතුය හෝ $E_1 < E_0$ (01)

හරහර් පත්‍රලේ ලියාපදිංචි කොමිෂනර් ජනරාල්

E_0 ට වඩා E_2 කුඩා විය යුතුය හෝ $E_2 < E_0$ (01)

(f) පරිපූර්ණ නොවන වෝල්ටීයතාවයක් හා සසඳන විට, වි.ගා.බ. අගයක් නිවැරදිව මැනීම සඳහා විභවමානයක් හුදුසු උපකරණයක් ලෙස භාලකේ, එයට හේතුව කුමක් ද?

පරිපූර්ණ නොවන වෝල්ටීයතාවයක් වි.ගා බලය වෙනුවට අග්‍ර හරහා පවතින විභව අන්තරය මනියි.(01)

සංතුලනය වී පවතින විභවමානයක් කෝෂය හරහා ධාරාවක් ඇද නොගන්නා බැවින් වි.ගා බලය මනියි. හෝ සංතුලන අවස්ථාවේදී විභවමානය අභිශුන්‍ය ක්‍රමයක් භාවිත කරයි.(01)

(g) විභවමාන කම්බියේ හරස්කඩ වර්ගඵලය ඒකාකාර විය යුත්තේ ඇයි?

කම්බිය ඔස්සේ ඒකාකාර / නියත විභව බැස්මක් හෝ ඒකාකාර / නියත විභව අනුක්‍රමණයක් ලබා ගැනීම සඳහා (01)

(h) (i) E_1/E_2 අනුපාතය නිර්ණය කිරීම සඳහා අනුගමනය කළ යුතු පරීක්ෂණාත්මක ක්‍රියා පටිපාටිය ලියන්න.

එක් කෝෂයක් (විද්‍යුත් ගාමක බලය E_1) පමණක් (දෙමං යතුර භාවිත කරමින්) සම්බන්ධ කොට සංතුලන දිග ලබා ගන්න. (01)


අනෙක් කෝෂය (විද්‍යුත් ගාමක බලය E_2) (දෙමං යතුර භාවිත කරමින්) සම්බන්ධ කොට සංතුලන දිග ලබා ගන්න.(01)

ඉරහර් අනුපල ජෝරා දුර්වල නිගමන

(ii) E_1 සහ E_2 ට අනුරූප ඉහත (h) (i) හි ගන්නා ලද මිනුම් පිළිවෙළින් x_1 සහ x_2 නම්, E_1/E_2 අනුපාතය සඳහා ප්‍රකාශනයක් ලියන්න.

$\frac{E_1}{E_2} = \frac{x_1}{x_2}$ (x වෙනුවට l ලියා ඇත්නම් ලකුණු නැත.)(01)

(i) වෙනත් ශිෂ්‍යයෙක් ප්‍රස්තාරයේ ක්‍රමයක් භාවිත කර E_1/E_2 අනුපාතය නිර්ණය කිරීමට සැලසුම් කර ඇත්තේ (2) රූපයේ පෙන්වා ඇති 6 ආ දිග විභවමාන කම්බියේ සරල දිග වෙනස් කිරීමෙනි. ශිෂ්‍යයා අනුගමනය කළ යුතු පරීක්ෂණාත්මක ක්‍රියා පිළිවෙළ කුමක් ද?



(2) රූපය

B අග්‍රය ($B_1, B_2, B_3, \dots, B_6$) 1 m කම්බි එක එකෙහි කෙළවරට සම්බන්ධ කොට(01)
අනුරූප සංතුලන දිග මැන ගන්න.(01)

(ii) ඉහත (i)(i) හි ඇඳිය හැකි ප්‍රස්තාරයේ අනුක්‍රමණය m නම් සහ E_1 හි අගය දන්නේ නම්, E_2 සඳහා සම්බන්ධතාවක් m සහ E_1 ඇසුරෙන් ලියන්න.

$E_2 = \frac{E_1}{m}$ හෝ $E_2 = mE_1$ (01)

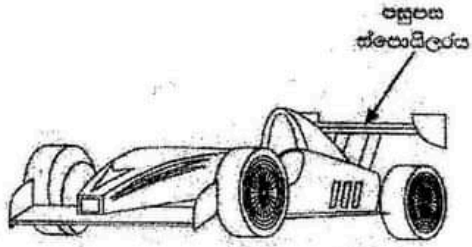
X දුරය හෝ දුරේ මනිනු ලබන දිග

ප්‍රශ්න පත්‍රයේ ප්‍රධාන ප්‍රශ්න පත්‍රය සඳහා සලකුණු සපයන්න.
($g = 10 \text{ m s}^{-2}$)

• සටහන: උදාහරණයක් වශයෙන් 65210 සංඛ්‍යාව දශම ස්ථාන දෙකකට වැටුණ පසු 6.52×10^4 ලෙස විද්‍යාත්මක අංකනයෙන් (scientific notation) ලිවිය හැක.

(a) දුස්ස්‍රාවී නොවන අසම්පීඩ්‍ය තරලයක අනවරත ප්‍රවාහයක් සඳහා බ්‍රූලි සමීකරණය $P + \frac{1}{2} \rho v^2 + h \rho g = \text{නියතය}$ ලෙසින් ලිවිය හැක. මෙහි සියලුම සංකේතවලට සුදුසු තේරුම් ඇත. සමීකරණයේ වම් පස ඇති පද හඳුන්වන්න.


(b) පහළ පාෂ්ඨය වක්‍ර වූ පසුපස ස්පොයිලරයක් (rear spoiler) සහිත රේසිං මෝටර් රථයක් (racing car) (1) රූපයේ පෙන්වා ඇත. මෝටර් රථය අධික වේගයෙන් යන විට බ්‍රූලි මූලධර්මයට අනුව ස්පොයිලරය මත පහළ දිශාවට බලයක් ඇති වේ.



(1) රූපය

වේගය වැඩිකරන විට
↓ පහළට දැමිය
වැඩිවේ.

පොළොවට සාපේක්ෂව v නියත ප්‍රවේගයකින් වාතය හරහා තීරස්ව වම් අතට ගමන් කරන රේසිං මෝටර් රථයක පසුපස ස්පොයිලරයේ සිරස් තරස්කඩක් (2) රූපයේ පෙන්වා ඇත.



(2) රූපය

(i) මෝටර් රථයට සාපේක්ෂව X ලක්ෂ්‍යයේදී වාතයේ ප්‍රවේගය කුමක් ද? පොළොවට සාපේක්ෂව වාතය නිසලව පවතී. යැයි උපකල්පනය කරන්න.

(ii) (2) රූපයේ පෙන්වා ඇති පරිදි ස්පොයිලරයට ඇතිත් පිහිටි කල්පිත ප්‍රවාහ නළයක තරස්කඩ වර්ගඵලය A_1 ද, ස්පොයිලරයේ පහළ පාෂ්ඨයේදී එම ප්‍රවාහ නළයේ අනුරූප තරස්කඩ වර්ගඵලය A_2 ද වේ. $\frac{A_1}{A_2} = 1.2$ නම් මෝටර් රථයට සාපේක්ෂව ස්පොයිලරයට පහළින් ගලායන වාතයේ වේගය (v_2) සඳහා ප්‍රකාශනයක් v ඇසුරෙන් ලියා දක්වන්න.

(iii) ස්පොයිලරයේ සඵල තිරස් තරස්කඩ වර්ගඵලය 0.2 m^2 නම් ස්පොයිලරය මත පහළට ක්‍රියාකරන බලය ගණනය කරන්න. $v = 360 \text{ km h}^{-1}$ සහ වාතයේ ඝනත්වය $= 1.2 \text{ kg m}^{-3}$.

(iv) පොළොවට සාපේක්ෂව නියත ප්‍රවේගයකින් වමේ සිට දකුණට සුළඟක් තීරස් ව හමයි නම් ඉහත (b) (iii) හි ගණනය කළ බලය වැඩිවේ ද? නැතහොත් අඩු වේ ද? ගණනය කිරීම්වලින් තොරව ඔබගේ පිළිතුරට හේතු දෙන්න.

(c) වේගයෙන් ගමන් කරන මෝටර් රථයක් මත වාතය නියත ක්‍රියා කරන රෝධක බලය (F_d), $F_d = \frac{1}{2} C \rho A v^2$ මගින් දෙනු ලැබේ. මෙහි C රෝධක සංගුණකය ලෙසින් හඳුන්වන අතර, ρ වාතයේ ඝනත්වයද, A වාතයට අභිමුඛ රථයේ සඵල මුහුණත් වර්ගඵලය සහ v වාතයට සාපේක්ෂව රථයේ වේගය වේ. ස්පොයිලර මගින් රථ මගින් ගලන වායු ප්‍රවාහවල දිශා ද වෙනස් කොට රෝධක සංගුණකය අඩු කරයි.

(i) C මාන රහිත බව පෙන්වන්න.
(ii) $C = 0.3$, $A = 1.4 \text{ m}^2$, $\rho = 1.2 \text{ kg m}^{-3}$ සහ $v = 360 \text{ km h}^{-1}$ ලෙස ගනිමින් ඉහත (b) හි සඳහන් රේසිං මෝටර් රථය මත ක්‍රියා කරන රෝධක බලය F_d ගණනය කරන්න. පොළොවට සාපේක්ෂව වාතය නිසලව පවතී යැයි උපකල්පනය කරන්න.

(iii) මෝටර් රථය 360 km h^{-1} නියත ප්‍රවේගයකින් ගමන් කරන විට රෝධක බලය මැඩපැවැත්වීමට අවශ්‍ය ජවය (P) ගණනය කරන්න.

(iv) මෝටර් රථය නිසලතාවයෙන් ගමන් කරන 360 km h^{-1} වේගයක් අයත් කර ගනී. මෙම ක්‍රියාවලියේදී රෝධක බලය මැඩ පැවැත්වීම සඳහා අවශ්‍ය මධ්‍යන්‍ය ජවය $\frac{P}{2}$ වන බවට ශිෂ්‍යයෙක් තර්ක කරයි. මෙහි P යනු ඉහත (c) (iii) හි ඔබ ගණනය කළ අගයයි. ශිෂ්‍යයාගේ තර්කයට ඔබ එකඟ වන්නේ ද යන්න හේතු දක්වමින් සඳහන් කරන්න.

(v) මෝටර් රථය මත ක්‍රියා කරන අනෙකුත් ඝර්ෂණ බල මැඩපැවැත්වීමට අවශ්‍ය ජවය 48 kW වේ. පෙට්‍රල් එක් ලීටරයක් දහනය වීමෙන් නිදහස් වන ශක්තිය $4.0 \times 10^7 \text{ J}$ සහ මෙම ශක්තියෙන් 15% ක් පමණක් මෝටර් රථය ගමන් කරවීමට භාවිත වේ. මෝටර් රථය 360 km h^{-1} නියත වේගයෙන් ගමන් කරන විට රථයේ ඉන්ධන කාර්යක්ෂමතාවය ලීටරයකට km වලින් නිර්ණය කරන්න.

(vi) පොළොවට සාපේක්ෂව සුළඟ නියත 10 ms^{-1} ප්‍රවේගයකින් තීරස්ව වමේ සිට දකුණට හමයි නම් මෝටර් රථය 360 km h^{-1} නියත ප්‍රවේගයෙන් ගමන් කරන විට රෝධක බලය මැඩපැවැත්වීමට අවශ්‍ය ජවය (P') ගණනය කරන්න. (ඔබගේ පිළිතුර kW වලින් ආසන්න පූර්ණ සංඛ්‍යාවට දෙන්න.)

(a) P - පීඩනය / ඒකක පරිමාවක පීඩන ශක්තිය(01)

$\frac{1}{2}\rho v^2$ - ඒකක පරිමාවක වාලක ශක්තිය (01)

$h\rho g$ - (සමුද්දේශ මට්ටමක සිට මැනෙන) ඒකක පරිමාවක (ගුරුත්වාකර්ෂණ) විභව ශක්තිය ... (01)

(b) (i) මෝටර් රථයට සාපේක්ෂව X ලක්ෂ්‍යයේදී වාතයේ ප්‍රවේගය $-v/$ හෝ $v/$ හෝ v වමේ සිට දකුණට(01)

$$[v_{A,C} = v_{A,G} + v_{G,C} = 0 - v]$$

(ii) $A_2v_2 = A_1v$ හෝ $A_2v_2 = 1.2A_1v$ (01)

$v_2 = 1.2v$ (01)

(iii) ස්පොයිලරයට ඉහළින් සහ පහළින් වාතයේ පීඩන පිළිවෙළින් P_1 සහ P_2 නම්, බ' නූලි සමීකරණය යෙදීමෙන්

$$P_1 + \frac{1}{2}\rho v^2 = P_2 + \frac{1}{2}\rho v_2^2 \text{ OR } P_1 + \frac{1}{2}\rho v^2 = P_2 + \frac{1}{2}\rho(1.2v)^2 \dots\dots\dots (01)$$

$$P_1 - P_2 = \frac{1}{2}\rho[(1.2v)^2 - v^2]$$

$$v = \frac{360 \times 10^3}{60 \times 60} \text{ (km h}^{-1}\text{, m s}^{-1}\text{ට හැරවීම සඳහා) } \dots\dots\dots (01)$$

$$v = 100 \text{ m s}^{-1}$$

$$P_1 - P_2 = \frac{1}{2} \times 1.2 \times 100^2 (1.44 - 1)$$

ස්පොයිලරය මත පහළට ක්‍රියා කරන බලය = $(P_1 - P_2) \times 0.2$ Enu... (01)

(පීඩන වෙනස වර්ගඵලයෙන් ගුණ කිරීම සඳහා)

$$= \frac{1}{2} \times 1.2 \times 100^2 \times 0.44 \times 0.2 \dots\dots\dots (01)$$

(නිවැරදි ආදේශය සඳහා)

$$= 528 \text{ N} \dots\dots\dots (01)$$

(iv) වැඩිවේ (01)

රථයට සාපේක්ෂව වාතයේ ප්‍රවේගය වැඩිවේ. හෝ $v/$ v_2 වැඩිවේ. හෝ (01)

$v_{A,C} = v_{A,G} + v_{G,C} = -v'' - v$, මෙහි v'' යනු පොළොවට සාපේක්ෂව සුළඟේ ප්‍රවේගයයි.

(c) (i) බලයේ මාන (වම් පැත්ත) = MLT^{-2} (01)

ρAv^2 හි මාන = $ML^{-3}L^2L^2T^{-2}$ (01)

$$= MLT^{-2}$$

$\therefore C$ මාන රහිත වේ.

(ii) රෝධක බලය $F_d = \frac{1}{2} C \rho A v^2 = \frac{1}{2} \times 0.3 \times 1.2 \times 1.4 \times 100^2$ (01)

(නිවැරදි ආදේශය සඳහා)

$F_d = 2520 \text{ N}$ (01)

(iii) රෝධක බලය මැඩපැවැත්වීමට අවශ්‍ය ජවය $= F_d v$ (01)

$= 2520 \times 100$

$= 252 \text{ kW (252000 W)}$ (01)

(iv) එකඟ නොවේ (01)

ජවය (P), v සමඟ රේඛීයව විචලනය නොවේ හෝ ජවය සමානුපාතික වන්නේ v ට නොව v^3 ට ය. (01)

(v) පෙට්‍රල් එක් ලීටරයක් දහනය වීමෙන් මුදා හැරෙන ශක්තිය $= \frac{4.0 \times 10^7}{100} \times 15$ (01)

$= 6 \times 10^6$ ලීටරයකට J

අවශ්‍ය මුළු ජවය $= 252 + 48 = 300 \text{ kW}$ (01)

(එකතු කිරීම සඳහා)

පෙට්‍රල් එක් ලීටරයක් දහනය කිරීමෙන් මෝටර් රථයට $= \frac{6 \times 10^6}{300 \times 10^3}$ (01)

ගමන් කළ හැකි කාලය

(බෙදීම සඳහා)

\therefore පෙට්‍රල් එක් ලීටරයක් දහනය කිරීමෙන් මෝටර් රථයට යා හැකි දුර $= \frac{6 \times 10^6}{300 \times 10^3} \times 100$ (01)

(100 හෝ 100×10^{-3} න් ගුණ කිරීම සඳහා)

ලීටරයකට km වලින් රථයේ ඉන්ධන කාර්යක්ෂමතාවය $=$ ලීටරයකට 2 km **Enu**... (01)

{විකල්ප ක්‍රමය:

1 km දුරක් යෑමට මෝටර් රථයට ගතවන කාලය (තත්පර වලින්) $= \frac{360}{60 \times 60}$ (01)

\therefore පෙට්‍රල් ලීටරයක් දහනය කිරීමෙන් මෝටර් රථයට ගමන් කළ හැකි දුර $= \frac{6 \times 10^6}{300 \times 10^3} \times \frac{360}{60 \times 60}$

.....(01)

$=$ ලීටරයකට 2 km(01)}

(vi) වාතයට සාපේක්ෂව මෝටර් රථයේ වේගය $= 100 + 10$ (එකතු කිරීම සඳහා) (01)

නව රෝධක බලය $F_d = \frac{1}{2} \times 0.3 \times 1.2 \times 1.4 \times 110^2$ (01)

(නිවැරදි ආදේශය සඳහා)

ඉලා

රෝධක බලය මැඩ පැවැත්වීමට අවශ්‍ය ජවය

$P' = \frac{1}{2} \times 0.3 \times 1.2 \times 1.4 \times 110^2 \times 100$ (01)

(රෝධක බලය 100 න් ගුණ කිරීම සඳහා)

$= 305 \text{ kW}$ (01)

6. (a) (i) නක්ෂත්‍ර (ප්‍රකාශ) දුරේක්ෂයක කෝණික විශාලනය (m) අර්ථ දක්වන්න.
- (ii) රේඩිය විශාලනය හා සසඳන විට ප්‍රකාශ උපකරණයක් සඳහා කෝණික විශාලනය වඩා හොඳ මිනුමක් වන්නේ ඇයි?
- (b) තාභීය දුර f_o වූ L_o අවනෙන් කාචයක් සහ තාභීය දුර f_e වූ L_e උපනෙන් කාචයක් යොදා ගනිමින් නක්ෂත්‍ර දුරේක්ෂයක් සාදා ඇත.
- (i) දුරේක්ෂයක සාමාන්‍ය සිරුමාරුව යන්නෙන් අදහස් කරන්නේ කුමක් ද?
- (ii) දුරේක්ෂය සාමාන්‍ය සිරුමාරුවේ ඇති අවස්ථාවේදී පැහැදිලිව නම් කරන ලද කිරණ රූප සටහනක් අඳින්න.
- (iii) කිරණ රූප සටහන භාවිතයෙන් දුරේක්ෂයේ කෝණික විශාලනය සඳහා ප්‍රකාශනයක් ලබා ගන්න.
- α (රේඩියනවලින්) හි ඉතා කුඩා අගයයක් සඳහා $\tan(\alpha) = \alpha$.
- (c) (i) $f_o = 100$ cm සහ $f_e = 10$ cm වූ නක්ෂත්‍ර දුරේක්ෂයක් සිරු මාරු කර ඇත්තේ සෛද්‍රික අවසාන ප්‍රතිබිම්බය ඇසේ විශද දෘෂ්ටියේ අවම දුරෙහි ($D = 25$ cm) සාදන පරිදි ය. සඳ, පියවි ඇසෙහි 0.5° ක කෝණයක් ආපාතනය කරයි. මෙම සිරුමාරුවේදී දුරේක්ෂය තුළින් සෛද්‍රික ප්‍රතිබිම්බය ඇසෙහි ආපාතනය කරනු ලබන කෝණය (අංශකවලින්) සහ කෝණික විශාලනය ගණනය කරන්න. ඇස සහ උපනෙන් කාචය අතර දුර පොහොලකිසි හැකි යැයි උපකල්පනය කරන්න. මඛට $1^\circ = 0.0175$ රේඩියන ලෙස භාවිත කළ හැක.
- (ii) සුදුසු වෙනස් කිරීමකින් පසු ඉහත දුරේක්ෂය වන්ද්‍රයාගේ තාත්වික ප්‍රතිබිම්බයක් තිරයක් මතට ලබා ගැනීමට භාවිත කරයි. තාහි ලක්ෂ්‍යයන් සහ දුරවල් පැහැදිලිව සලකුණු කරමින් මෙම අවස්ථාව සඳහා කිරණ රූප සටහන අඳින්න.
- (iii) ඉහත (c) (ii) හි සඳහන් වෙනස් කිරීමෙන් පසු උපනෙන් කාචයේ සිට 30 cm දුරින් තබා ඇති තිරය මත තාත්වික ප්‍රතිබිම්බය සාදෙන්නේ නම් තිරයේ ඇතිවන වන්ද්‍රයාගේ ප්‍රතිබිම්බයේ විශාලත්වය (විෂ්කම්භය) ගණනය කරන්න.
- (iv) ඇමෙරිකා එක්සත් ජනපදයේ විස්කොන්සින්හි යර්ක්ස් නිරීක්ෂණාගාරය (Yerkes Observatory) 1897 සිට මේ දක්වා ක්‍රියාත්මක වන විශාලතම සහ පැරණිතම වර්තන නක්ෂත්‍ර දුරේක්ෂයයි. නිරීක්ෂණාගාරය නවීන තාරකා භෞතික විද්‍යාවේ උපන් ස්ථානය වූ අතර නක්ෂත්‍ර වස්තූන්ගේ ඡායාරූප නහවූ 170000 කට වඩා ලබා ගෙන ඇත. යර්ක්ස් දුරේක්ෂයේ අවනෙන් කාචයේ තාභීය දුර 19.0 m කි. උපනෙන් සිට 30 cm පිටුපසින් තබා ඇති ඡායාරූප තහවූවක් මත විෂ්කම්භය 17.1 cm වූ වන්ද්‍රයාගේ තාත්වික ප්‍රතිබිම්බයක් එය ලබා දෙයි. යර්ක්ස් දුරේක්ෂයේ උපනෙන් කාචයේ තාභීය දුර සහ මෙම අවස්ථාවේ කෝණික විශාලනය ගණනය කරන්න. (කෝණික විශාලනය ආසන්න පූර්ණ සංඛ්‍යාවට දෙන්න.)

(a) (i) කෝණික විශාලනය $m = \frac{\alpha'}{\alpha}$ (සමීකරණය 1) **Enu**....(01)

මෙහි α' යනු අවසාන ප්‍රතිබිම්බයෙන් පැමිණෙන කිරණ මඟින් ඇසෙහි අපාතනය කරන කෝණයයි α යනු වස්තුවෙන් පැමිණෙන කිරණ මඟින් පියවි ඇසෙහි අපාතනය කරන කෝණයයි. (නිවැරදි දෙකම සඳහා)(01)

(ii) ප්‍රතිබිම්බයක රේඩිය විශාලනය වස්තුවේ ප්‍රමාණය සහ වස්තුවට ඇති දුර යන දෙකම මත රඳා පවතී.(01)

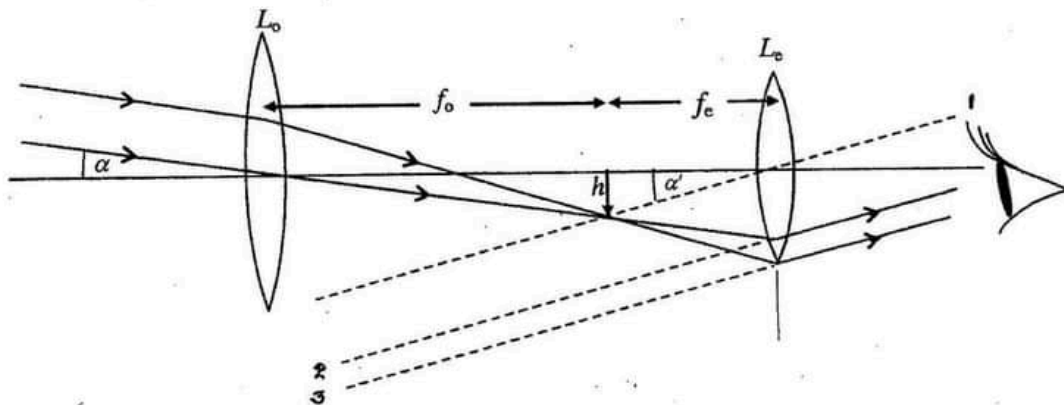
එනමුත් (ඇසේ) දෘෂ්ටි විතානය මත සෑදෙන ප්‍රතිබිම්බයේ ප්‍රමාණය රඳාපවතින්නේ ප්‍රතිබිම්බයේ සිට පැමිණෙන කිරණ මඟින් ඇසෙහි අපාතනය කරන කෝණය මත පමණි.(01)

එමනිසා රේඩිය විශාලනය හා සසඳන විට කෝණික විශාලනය වඩා හොඳ මිනුමක් වේ.

(b) (i) අවසාන ප්‍රතිබිම්බය අනන්තයේ සෑදෙන විට හෝ ඇස විවේකීව ඇති විට(01)

රිචල්ඩ් දැන් විට

(ii)



L_o හරහා යන සමාන්තර කිරණ දෙකක් සඳහා සහ ප්‍රතිබිම්බය තෙක් ඇඳ ඇති නිවැරදි h උසින් කිරණ සටහන සඳහා(01)

සමාන්තර කිරණ L_e හරහා ගොස් ඇස දක්වා පැමිණීම නිර්මාණය කිරීම සඳහා(01) ප්‍රශ්න කේතය නොවේ. දැනීම 2, 3 දී

f_o සහ f_e නිවැරදිව ලකුණු කිරීම සඳහා(01) අලු

(රිතල හිස් නොමැති නම් ලකුණු 01 අඩු කරන්න) එහි රඳා පවතින අන්තර්ගතය අත්හිටි ප්‍රශ්නයන්.

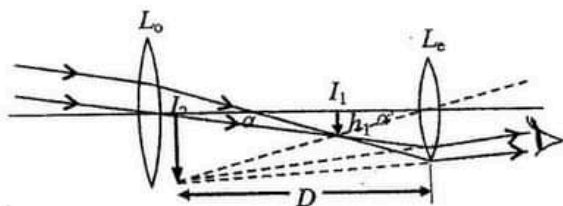
(iii) රූප සටහනට අනුව $\alpha = \frac{h}{f_o}$ (X) සහ

$\alpha' = \frac{h}{f_e}$ (X)

මින්දාම එක් සමීකරණයක් සඳහා (01)

(1) සමීකරණයේ ආදේශයෙන්, $m = \frac{f_o}{f_e}$ Enu (01)

(c) (i)



$\alpha = 0.5^\circ = 0.009$ රේඩියන්

I_1 පළමු ප්‍රතිබිම්බය සඳහා (2) සමීකරණයේ ආදේශ කිරීමෙන් $0.009 = \frac{h_1}{100}$ (01)

$h_1 = 0.9$ cm

උපතෙත (L_e), සඳහා කාච්ඡියානු ලකුණු සම්මුතිය භාවිතයෙන්

$v = +25$ cm, $f = -10$ cm

කාච සමීකරණය සඳහා $\frac{1}{v} - \frac{1}{u} = \frac{1}{f}$ (01)

$$\frac{1}{+25} - \frac{1}{u} = \frac{1}{-10} \dots\dots\dots(01)$$

(නිවැරදි ආදේශය සඳහා)

$$\frac{1}{u} = \frac{1}{25} + \frac{1}{10} = \frac{7}{50} \leftarrow (\text{සුළු කණිව එන})$$

$$I_2 \text{ දෙවන ප්‍රතිබිම්බය සලකා } \alpha' = \frac{h_1}{u} \dots\dots\dots(01)$$

$$\alpha' = \frac{0.9 \times 7}{50} \text{ රේඩියන } \dots\dots\dots(01)$$

(ආදේශය සඳහා)

$$\alpha' = \frac{0.9 \times 7}{50} \times \frac{1^\circ}{0.018}$$

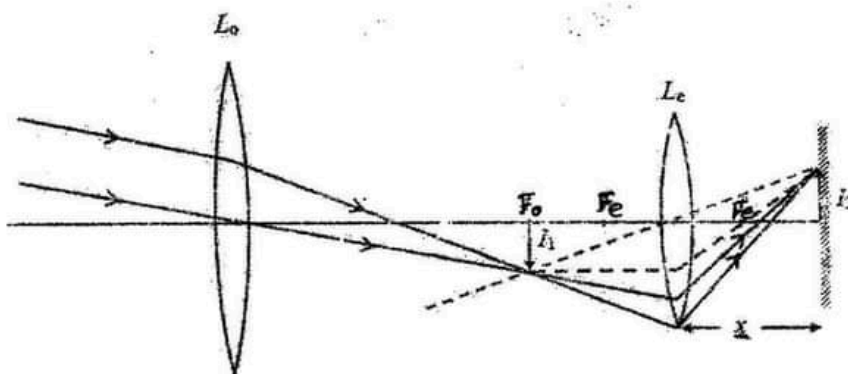
$$\alpha' = 7^\circ (6.9^\circ - 7^\circ) \dots\dots\dots(01)$$

(1) සමීකරණයේ ආදේශයෙන්, කෝණික විශාලනය (m) $m = \frac{7^\circ}{0.5^\circ} \dots\dots\dots(01)$

(ආදේශය සඳහා)

$$= 14(13.8 - 14) \dots\dots\dots(01)$$

(ii)



කඩ ඉරි දෙක ඇද තාත්වික ප්‍රතිබිම්බයේ පිහිටීම සොයා ගැනීම සඳහා ...Enu.....(01)

L_e හි දකුණු පස F_e නාභි ලක්ෂ්‍යය සලකුණු කිරීම සඳහා(01)

(iii)

$$v = -30 \text{ cm}, f = -10 \text{ cm}$$

මෙම අවස්ථාව සඳහා උපනෙතට කාච සමීකරණය යෙදීමෙන් $\frac{1}{v} - \frac{1}{u} = \frac{1}{f}$

$$\frac{1}{-30} - \frac{1}{u} = \frac{1}{-10} \dots\dots\dots(01)$$

(නිවැරදි ආදේශය සඳහා)

$$\frac{1}{u} = \frac{1}{10} - \frac{1}{30} = \frac{3-1}{30}$$

$$u = 15 \text{ cm}$$

උපනෙතෙහි රේඩිය විශාලය $M = \frac{v}{u} \dots\dots\dots(01)$

$$M = \frac{30}{15} = 2$$

$h_1 = 0.9 \text{ cm}$ නිසා

$$M = \frac{h_2}{h_1} \dots\dots\dots(01)$$

$$h_2 = 2 \times 0.9$$

$$= 1.8 \text{ cm} \dots\dots\dots(01)$$

(iv) යර්ක්ස් දුරේක්ෂයේ අවනෙතට $\alpha = \frac{h}{f_o}$ යෙදීමෙන්
 $0.009 = \frac{h_1}{19.0}$ (01)
 $h_1 = 17.1 \text{ cm}$

පළමු ප්‍රතිබිම්බයේ ප්‍රමාණය සහ දෙවන තාක්ෂික ප්‍රතිබිම්බයේ ප්‍රමාණය එක සමාන නිසා හෝ රේඛීය විශාලනය 1 වන නිසා හෝ වස්තු දුර සහ ප්‍රතිබිම්බ දුර සමාන බව හඳුනා ගැනීම සඳහා

එමනිසා, ප්‍රතිබිම්බ දුර = වස්තු දුර = $2f_e$ (01)
 හෝ $-\frac{1}{30} - \frac{1}{30} = \frac{1}{f_e}$ (01)

$2f_e = 30 \text{ cm}$

$f_e = 15 \text{ cm (0.15 m)}$ (01)

(1) සමීකරණය භාවිතයෙන් කෝණික විශාලනය , $m = \frac{h_1}{0.3} \times \frac{19}{h_1}$ හෝ $(\frac{19}{0.3})$ (01)

$m = 63$ හෝ (63.3) **Enu**..... (01)

7. (a) සුදුරුදු යංකේත මගින් ද්‍රව්‍යයක යං මාපාංකය, $\frac{F}{A}$ යන තනිකරණය මගින් දෙනු ලබයි. $\frac{F}{A}$ යන $\frac{F}{l}$ යන පද නම් කරන්න.

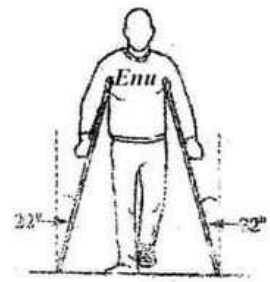
(b) කර්මේ ක්‍රීඩකයෙක් (1) රූපයේ පෙන්වා ඇති පරිදි විචලනයේ ගසක එක පා පනරයින් ලී පුවරුවක් සහිත දැමීමට උත්සාහ කරයි. ක්‍රීඩකයා ලී පුවරුවට පහර දෙන විට, පුවරුව නොකැඩී ක්‍රීඩකයාගේ විචල 24 ms⁻¹ ආරම්භය වේ. පුවරුවේ පටන්ගෙන 4.0 ms තුළදී නිශ්චලතාවට එන්නේ. පාදයේ ස්ඵල ස්කන්ධය 16.0 kg වන අතර පාද අස්ථියේ කුඩාම ආකාරයේ ස්ඵල භරණය වර්ගඵලය 3.0 × 10⁻⁴ m² වේ. පාදයේ අස්ථි ද්‍රව්‍යයේ 1.8 × 10⁷ N m⁻² උපරිම සම්පීඩන ප්‍රත්‍යාබලයක් ඔරොත්තු දිය හැකිය. අස්ථි දිගේ ප්‍රත්‍යාබලය එකාකාරව බෙදී යන බව උපකල්පනය කරන්න.



(1) රූපය

- (i) ක්‍රීඩකයාගේ විචල 24 ms⁻¹ සිට නිශ්චලතාවට පැමිණෙන අතරවරයේ ඔහුගේ පාදය මත ක්‍රියාකරන මධ්‍යන්‍ය බලය ගණනය කරන්න.
- (ii) පාදයේ අස්ථි මත ඇති කරනු ලබන උරුම සම්පීඩන ප්‍රත්‍යාබලය කොපමණ ද?
- (iii) අස්ථි බිඳීමට හැකියාවක් ඇත් ද? ඔබගේ පිළිතුරට හේතු දෙන්න.

(c) ඉහත (b) හි සඳහන් පාදයෙන් පහරදෙන ක්‍රියාවලියේදී කර්මේ ක්‍රීඩකයාගේ පාදයේ අස්ථි කැඩී, ක්‍රීඩකයා යථා තත්වයට පත්වන තෙක් ඇවිදීම සඳහා (2) රූපයේ පෙන්වා ඇති පරිදි තනි බවකින් සාදන (A) කිහිලිකරු භාවිත කරයි. ක්‍රීඩකයාගේ ස්කන්ධය 90 kg වේ. ක්‍රීඩකයාගේ බලෙන් හට ගත් කිහිලිකරු මගින් සහ අනෙක් හරි අඩ ඔහුගේ අනෙක් පාදයෙන් දැයි. ඔහු සිටගෙන සිටින විට, එක් එක් කිහිලිකරුවක් සිරස් අතට 22° ක කෝණයක් සාදයි. එක් එක් කිහිලිකරු පිළිවෙලින් අභ්‍යන්තර අරය 1.0 × 10⁻² m සහ බාහිර අරය 2.0 × 10⁻² m වන කුහර ඇලුමිනියම් බවකින් සාදා ඇත. ඇලුමිනියම්වල යං මාපාංකය 7.0 × 10¹⁰ N m⁻² වේ.

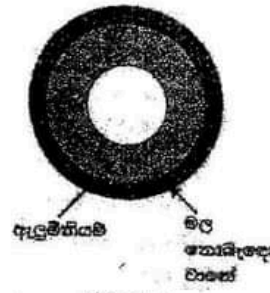


(2) රූපය

- (i) ඔහුට ලිස්සා යාමකින් තොරව නිශ්චලව සිටගෙන සිටීම සඳහා කිහිලිකරු කොළුවර සහ බිම අතර තිබෙන ශ්‍රිත අවම ස්ඵර්ෂක සංඝර්ෂණ සංගුණකය කොපමණ ද? tan(22°) = 0.4 ලෙස ගන්න.
- (ii) එක් එක් කිහිලිකරුවක් මත ක්‍රියාකරන සම්පීඩන බලයේ විශාලත්වය ගණනය කරන්න. cos(22°) = 0.9 ලෙස ගන්න.

- පහත (c) (iii), (c) (iv) සහ (d) (ii) සඳහා ඔබගේ පිළිතුරු විද්‍යාත්මක අංකනයෙන් දැමී ස්ථාන දෙකකට වටහාන්න. ප්‍රත්න අංක 5 ට පෙර දී ඇති සටහන බලන්න.
- (iii) කිහිලිකරුවක් මත ඇති සම්පීඩන ප්‍රත්‍යාබලය සහ තවදුරටත් විද්‍යාත්මක ගණනය කරන්න. π = 3 ලෙස ගන්න.
- (iv) කිහිලිකරුවක දිග 125 cm නම් කිහිලිකරුවක ඇතිවන දිගෙහි වෙනස කුමක් ද?

(d) ඉහත (c) හි සඳහන් කිහිලිකරු අවනුච්ච එකක් සතුරු බව දෙකකින් සමන්විත කිහිලිකරු ක්‍රීඩකයා විසින් භාවිත කරන්නේ ඇයි සිතන්න. එම සිලින්ඩරාකාර කිහිලිකරුවල අභ්‍යන්තර බවය යං මාපාංකය E₁ වන ඇලුමිනියම්වලින් සාදා ඇති අතර බාහිර බවය යං මාපාංකය E₂ වන මල භෞමික දැව වානේවලින් සාදා ඇත. ඇලුමිනියම් සහ මල භෞමික දැව වානේ බවවල භරණය වර්ගඵල පිළිවෙලින් A₁ සහ A₂ වේ. සංයුක්ත බවගේ භරණයක් (3) රූපයේ පෙන්වයි.



(3) රූපය

- (i) සංයුක්ත බවගේ ස්ඵල යං මාපාංකය E,

$$E = \frac{E_1 A_1 + E_2 A_2}{(A_1 + A_2)}$$
 මගින් ලබා දෙන බව පෙන්වන්න.
- (ii) E₁ = 8.0 × 10¹⁰ N m⁻², A₁ = 16.0 × 10⁻⁴ m², E₂ = 2.0 × 10¹¹ N m⁻², A₂ = 6.0 × 10⁻⁴ m². එක් එක් කිහිලිකරුවක දිග පෙන්වීමට 125 කි. ඉහත (c) (ii) හි බලය කිහිලිකරුවකට යොදන විට සංයුක්ත බවගේ දිග වෙනස්වීම් ගණනය කරන්න.

(e) සාමාන්‍යයෙන් ඇලුමිනියම් කිහිලිකරුවල සහල කොළුවරට රබර් අවරණ සවි කර ඇත. රබර් අවරණ සහිත මෙම කිහිලිකරු භාවිතයෙන් පුද්ගලයෙක් ඇවිදීම විට ඔහුට ඇතිවන වාසි භෞමික විද්‍යා මූලධර්ම යොදා ගනිමින් සඳහන් කරන්න.

(a) $\frac{F}{A} = \text{ප්‍රත්‍යාබලය}$ (01)

$\frac{e}{l} = \text{වික්‍රියාව}$ (01)

(b) (i) $F = m(v - u)/t$ (01)

$F = 16 \times \left(\frac{24-0}{4 \times 10^{-3}}\right)$ (01)

(නිවැරදි ආදේශය සඳහා)

$F = 9.6 \times 10^4 \text{N}$ (01)

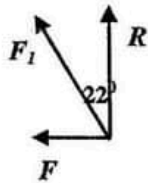
(ii) $\frac{F}{A} = \frac{9.6 \times 10^4}{3 \times 10^{-4}}$ (01)

(ආදේශය සඳහා)

$\frac{F}{A} = 3.2 \times 10^8 \text{ N m}^{-2}$ (01)

(iii) හැකියාවක් ඇත. (වැරදි අගයන් භාවිත කොට ලබාගන්නා තීරණය සඳහා ලකුණ නැත).. (01) ⁽ⁱⁱ⁾ ඉහත විචාර
 උපරිම සම්පීඩන ප්‍රත්‍යාබලය $1.8 \times 10^7 \text{ N m}^{-2} < 3.2 \times 10^8 \text{ N m}^{-2}$ (01) ⁽ⁱⁱⁱ⁾ ව
 ලෙදුරු ගණ

(c)



(i) එක් කිහිලිකරුවක් ඔස්සේ ඇති බලය F_1 නම්,
 සර්භණ බලය $F = F_1 \sin(22^\circ)$ Enu.....(01)

අභිලම්භ ප්‍රතික්‍රියා බලය $R = F_1 \cos(22^\circ)$ (01)

$\mu = \frac{F}{R}$ (01)

$\mu = \tan(22^\circ)$

$\mu = 0.4$ (01)

(ii) එක් කිහිලිකරුවක් මත අභිලම්භ ප්‍රතික්‍රියාව $F_1 \cos(22^\circ) = \frac{900-450}{2}$ ← ^{බරය} නැගෙන ^{කිලා} තරය.

$F_1 = \frac{225}{\cos(22^\circ)}$ හෝ $\frac{225}{0.9}$ (01)

$F_1 = 250 \text{ N}$ (234 - 250) N(01)

[විකල්ප ක්‍රමය:

$$R = \frac{900-450}{2} = 225 \text{ N} ; F = \mu R = 0.4 \times 225 = 90 \text{ N}$$

$$F_1 = 225 \times \cos(22^\circ) + 90 \times \sin(22^\circ) \dots\dots\dots (01)$$

$$= 225 \times \cos(22^\circ) + 90 \times \tan(22^\circ) \times \cos(22^\circ) = 225 \times 0.9 + 90 \times 0.4 \times 0.9$$

$$= 234.9 \text{ N (235 N)} \dots\dots\dots(01)$$

$$\text{හෝ } F_1^2 = 225^2 + 90^2 \dots\dots\dots(01)$$

$$= 242 \text{ N} \dots\dots\dots(01)$$

[මෙම විකල්ප ක්‍රම නිසා අවසාන පිළිතුරු සඳහා වැඩි පරාසයක් ලබා දීමට සිදුවේ]

(iii) සඵල වර්ගඵලය = $\pi(2^2 - 1^2) \times 10^{-4} \dots\dots\dots (01)$

සම්පීඩක ප්‍රත්‍යා බලය = $\frac{250}{\pi(2^2-1^2) \times 10^{-4}}$ (වර්ගඵලයෙන් බෙදීම සඳහා) **Enu...** (01)

$$= \frac{250 \times 10^4}{3 \times \pi}$$

$$= 2.78 \times 10^5 \text{ N m}^{-2} \dots\dots\dots(01)$$

$$(2.48 - 2.78) \times 10^5 \text{ N m}^{-2}$$

සම්පීඩන වික්‍රියාව = $\frac{2.78 \times 10^5}{7.0 \times 10^{10}}$ (යං මාපාංකයෙන් බෙදීම සඳහා) $\dots\dots\dots(01)$

$$= 3.97 \times 10^{-6} \dots\dots\dots(01)$$

$$(3.54 - 3.97) \times 10^{-6}$$

(iv) කිහිලිකරුවක ඇතිවන දිගෙහි වෙනස = $3.97 \times 10^{-6} \times 125 \times 10^{-2} \dots\dots\dots(01)$

(වික්‍රියාව දිගෙන් ගුණ කිරීම සඳහා)

$$= 4.96 \times 10^{-3} \text{ mm (} 4.96 \times 10^{-6} \text{ m)} \dots\dots\dots(01)$$

$$(4.42 - 4.96) \times 10^{-3} \text{ mm}$$

(d) (i) ඇලුමිනියම් සහ වානේ බටවලට යෙදෙන බල පිළිවෙළින් F_1 හා F_2 නම්

මුළු බලය $F_{\text{total}} = F_1 + F_2 \dots\dots\dots(01)$

$$\frac{Ee(A_1+A_2)}{l} = \frac{E_1eA_1}{l} + \frac{E_2eA_2}{l} \dots\dots\dots(01)$$

$$E = \frac{E_1A_1+E_2A_2}{(A_1+A_2)}$$

(ii) සංයුක්ත බටයේ දිග වෙනස්වීම e නම්

$$F = \frac{E_1 A_1 + E_2 A_2}{(A_1 + A_2)} \times e \times \frac{(A_1 + A_2)}{l}$$

$$e = \frac{F \times l}{E_1 A_1 + E_2 A_2}$$

$$e = \frac{250 \times 125 \times 10^{-2}}{8.0 \times 10^{10} \times 10.0 \times 10^{-4} + 20.0 \times 10^{10} \times 6.0 \times 10^{-4}} \dots \dots \dots (03)$$

[$F \times l$ පදයෙහි ආදේශය සඳහා ලකුණු 01; $E_1 A_1$ පදයේ නිවැරදි ආදේශය සඳහා ලකුණු 01; $E_2 A_2$ පදයේ නිවැරදි ආදේශය සඳහා ලකුණු 01]

$$e = 1.56 \times 10^{-3} \text{ mm } (1.56 \times 10^{-6} \text{ m}) \dots \dots \dots (01)$$

$$(1.46 - 1.56) \times 10^{-3} \text{ mm}$$

(e) (ස්පර්ශ කාලය වැඩි වන නිසා) පුද්ගලයාට දැනෙන (උපරිම) බලය අඩුවේ.

හෝ

(ස්පර්ශ කාලය වැඩි වන නිසා) පුද්ගලයාට දැනෙන (උපරිම) ආවේගය අඩුවේ.

හෝ

රබර්වල ප්‍රත්‍යස්ථ විභව ශක්තිය ලෙස ශක්තිය ගබඩා වීමෙන් කුෂන් / මෙට්ට ආචරණයක් සපයා දෙයි

හෝ

පොළොව සමඟ හොඳ ආසක්තියක් ඇති කරයි.

හෝ

සර්ෂණ සංගුණකය / සර්ෂණය වැඩිවේ / ලේස්සී යෑම අඩු කරයි **..Enu..... (02)**

[පිළිගත හැකි හේතු දෙකක් සඳහා ලකුණු 02 යි]

8

පහත ඡේදය කියවා ප්‍රශ්නවලට පිළිතුරු සපයන්න.

කළු කුහර (Black holes) යනු විශ්වයේ පවතින ඉතාම කුතුහලය දනවන වස්තුවලින් එකකි. අවම පරිමාවක් තුළ ඇති ඇති අතිවිශාල පදාර්ථ ප්‍රමාණයකින් සමන්විත වීමේ ප්‍රතිඵලයක් ලෙස අති ප්‍රබල ගුරුත්වාකර්ෂණ ක්ෂේත්‍රයක් ඒවායේ පවතී. කළු කුහරයකින් ආලෝකයට නිකුත් වීමට නොහැකි නිසා ඒවා අදෘශ්‍යමාන වේ.

ස්කන්ධය M හා අරය R වන ඒකාකාර ඝනත්වයක් සහිත ගෝලාකාර වස්තුවක මතුපිටින් විශේෂ වීමේ ප්‍රවේගය (v_e), $\sqrt{\frac{2GM}{R}}$ මගින් දෙනු ලබයි. මෙහි G යනු සාර්වත්‍ර ගුරුත්වාකර්ෂණ නියතයයි. ස්කන්ධය M වන වස්තුවක අරය R , යම් අවධි අගයකට සමාන හෝ ඊට වඩා අඩු වන්නේ නම් එම වස්තුව කළු කුහරයක් ලෙස ක්‍රියා කරන බව විශේෂ ප්‍රවේගය සඳහා වන මෙම ප්‍රකාශනය යෝජනා කරයි. මෙම අවධි අරය ශ්වාට්ස්චිල්ඩ් අරය (Schwarzschild radius) R_s , ලෙස හඳුන්වන අතර කළු කුහරය වටා ඇති මෙම අරය සහිත ගෝලයේ මතුපිට, සිදුවීම් ක්ෂිතිජය (event horizon) ලෙස හැඳින්වේ. මෙම ගෝලය තුළින් ආලෝකයට ඉවත්ව යා නොහැකි නිසා අපට එය තුළ සිදුවන සිදුවීම් අනාවරණය කරගත නොහැක.

කළු කුහරයකින් ආලෝකයට ඉවත්විය නොහැකි නම්, එවැනි වස්තු පවතින බව අප දැනගන්නේ කෙසේ ද? කළු කුහරයක් අභ්‍යන්තර ඇති ඕනෑම වායුවක් හෝ දූවිලි දිය පුළුස්සක් සේ කරකැවෙමින් කළු කුහරය තුළට ඇදී යයි. පෞම්පයක සම්පීඩිත වාතය උණුසුම් වන ආකාරයටම මෙම දූවිලි/වායු රත් වීමකට බඳුන් වේ. දූවිලි/වායු උෂ්ණත්ව 10^6 K වත් වඩා වැඩි විය හැකි අතර එබැවින් ඒවා දෘශ්‍ය ආලෝකය පමණක් නොව X-කිරණ ද නිකුත් කරයි. දූවිලි/වායු මගින් නිකුත් කරන මෙම X-කිරණ සිදුවීම් ක්ෂිතිජය තරණා යෑමට පෙර ඒවා සොයා ගැනීම මගින් කළු කුහරයක් පවතින බව තාරකා විද්‍යාඥයින්ට අනාවරණය කරගත හැක.

අතිදැවැන්ත සුපිරි ස්කන්ධ (supermassive) සහිත කළු කුහර පවතින බවට ද ප්‍රබල සාක්ෂි ඇත. පෘථිවියේ සිට ආලෝක වර්ෂ 26000 ක් දුරින් ධනු රාශියේ දිශාවට අපගේ ක්ෂීරපථ මන්දාකිණියේ මධ්‍යයේ එවැනි කළු කුහරයක් පවතින බව සොයා ගෙන ඇත, තාරකා භෞතික විද්‍යාඥයින් විසින් S4716 ලෙසින් නම් කරන ලද තාරකාවක් මෙම කළු කුහරය වටා පරිභ්‍රමණය වන බවට අනාවරණය කරගෙන ඇත. මෙම තාරකාව වසර හතරක් වැනි කෙටි කාලයක් තුළ සුපිරි ස්කන්ධ කළු කුහරය වටා එක් පරිභ්‍රමණයක් සම්පූර්ණ කරයි. මෙයින් අදහස් කරන්නේ තරුව $8 \cdot 0 \times 10^6 \text{ ms}^{-1}$ ඉතා ඉහළ වේගයකින් මෙම කළු කුහරය වටා ගමන් කරන බවයි. මෙම වලිභය විශ්ලේෂණය කිරීමෙන් නොපෙනෙන සුපිරි කළු කුහරයේ ස්කන්ධය ගණනය කළ හැක.

$G = 6.0 \times 10^{-11} \text{ Nm}^2 \text{ kg}^{-2}$ සහ ආලෝකයේ වේගය $c = 3.0 \times 10^8 \text{ ms}^{-1}$ ලෙසට ඔබට ගත හැක.

- (a) කළු කුහරයක් යනු කුමක් ද?
- (b) (i) ප්‍රථම මූලධර්මවලින් පටන්ගෙන විශේෂ ප්‍රවේගය $v_e = \sqrt{\frac{2GM}{R}}$ ප්‍රකාශනය ව්‍යුත්පන්න කරන්න.
 - (ii) ඒකාකාර ρ ඝනත්වයක් ඇති ගෝලාකාර වස්තුවක් සඳහා, v_e විස්තූලේ අරය R ට අනුලෝමව සමානුපාතික වන බව පෙන්වන්න.
 - (iii) ඉහත (b) (i) හි ව්‍යුත්පන්න කළ ප්‍රකාශනයේ $v_e = c$ ලෙසට ගෙන ස්කන්ධය M වූ ගෝලාකාර වස්තුවක් සඳහා ශ්වාට්ස්චිල්ඩ් අරය (R_s) සඳහා ප්‍රකාශනයක් G, M සහ c ඇසුරෙන් ලබා ගන්න.
- (c) සිදුවීම් ක්ෂිතිජයක් අර්ථ දැක්වීමේ හේතුව කුමක් ද?
- (d) කළු කුහරයකින් X-කිරණ නිකුත් කළ හැකි ද? ඔබගේ පිළිතුරට හේතු දෙන්න.
- (e) දිය පුළුස්සක් සේ කරකැවෙමින් කළු කුහරය තුළට ඇදී යන 10^6 K උෂ්ණත්වයේ පවතින දූවිලි/වායු මගින් නිකුත් කෙරෙන විකිරණවල උච්ච තරංග ආයාමය (λ_m) නිර්ණය කරන්න. (වින් හේ විස්ථාපන නියතය = $2900 \mu\text{m K}$).
- පහත (f) (i) සහ (f) (ii) සඳහා ඔබගේ පිළිතුරු විද්‍යාත්මක අංකනයෙන් පිළිවෙලින් දශම ස්ථාන දෙකකට සහ එකකට වටයන්න. ප්‍රශ්න අංක 5 ට පෙර දී ඇති සටහන බලන්න.
- (f) S4716 තාරකාව සුපිරි ස්කන්ධ කළු කුහරය වටා අරය r වන වෘත්තාකාර පථයක පරිභ්‍රමණය වන බව උපකල්පනය කරන්න. තාරකාම සහ සුපිරි ස්කන්ධ කළු කුහරය ඒකාකාර ඝනත්වයෙන් යුත් ගෝලාකාර හැඩයක් ගන්නා බව කවි දුරටත් උපකල්පනය කරන්න.
 - (i) ඡේදයේ දී ඇති දත්ත භාවිත නොව r හි අගය නිර්ණය කරන්න. ($\pi = 3$ ලෙස ගන්න)
 - (ii) එනමින් සුපිරි ස්කන්ධ කළු කුහරයේ ස්කන්ධය M_B ගණනය කරන්න.
 - (iii) සුපිරි ස්කන්ධ කළු කුහරයේ ශ්වාට්ස්චිල්ඩ් අරය R_s ගණනය කරන්න.
- (g) සූර්යයා හදිසියේම අද පවතින ස්කන්ධයෙන් යුක්තව කළු කුහරයක් බවට පත්වේ යැයි උපකල්පිත ලෙස සිතන්න.
 - (i) පෘථිවිය සූර්යයා වටා දැන් ගමන් කරන කක්ෂයේම දිගටම පරිභ්‍රමණය වේ ද? ඔබගේ පිළිතුර සඳහා හේතු දක්වන්න.
 - (ii) මේ නිසා පෘථිවියේ ජීවයට බලපෑම් ඇති විය හැකි ද? ඔබගේ පිළිතුර සඳහා ප්‍රධාන හේතුව දෙන්න.
 - (iii) අරය 2.4 km වන ගෝලයකට සූර්ය ස්කන්ධය හැකිලිය හැකිනම් සූර්යයා කළු කුහරයක් බවට පත්වන බව පෙන්වන්න. සූර්යයාගේ ස්කන්ධය $1.8 \times 10^{30} \text{ kg}$ ලෙස ගන්න.

(a) අවම පරිමාවක් තුළ ඇහිරී ඇති (01)

අතිවිශාල පදාර්ථ ප්‍රමාණයකින් සමන්විත වස්තුවක් කළු කුහරයක් වේ. (01)

(b) (i) විශේෂ වන වස්තුවේ ස්කන්ධය m ලෙස සලකමු

m ස්කන්ධයේ චාලක ශක්තිය $= \frac{1}{2}mv_e^2$ (01)

m ස්කන්ධයේ ගුරුත්වාකර්ෂණ විභව ශක්තිය $= -\frac{GMm}{R}$ (01)

ශක්ති සංස්ථිතියෙන්

$\frac{1}{2}mv_e^2 - \frac{GMm}{R} = 0$ (හෝ ඕනෑම ආකාරයක නිවැරදි ප්‍රකාශනයක්) (01)

$v_e = \sqrt{\frac{2GM}{R}}$

(ii) $\rho = \frac{M}{\frac{4}{3}\pi R^3}$ (01)

M සඳහා ආදේශයෙන්, $\Rightarrow v_e = \sqrt{\frac{2G^4/3\pi\rho R^3}{R}}$ (01)

$v_e = \sqrt{\frac{8G\pi\rho}{3}} R$ (01)

$\therefore v_e$, වස්තුවේ R අරයට අනුලෝමව සමානුපාතික වේ.

(iii) $c = \sqrt{\frac{2GM}{R_S}}$ (01)

$R_S = \frac{2GM}{c^2}$ (01)

(c) එය තුළ සිදුවන සිදුවීම් අනාවරණය කර ගත නොහැකි නිසා (01)

(d) නොහැකිය (01)

X - කිරණ ද ආලෝකය මෙන් විද්‍යුත් චුම්බක තරංග වේ. (01)

(e) $\lambda_m T =$ නියතයක් හෝ $\lambda_m T = 2900$ *Enu* (01)

$\lambda_m = \frac{2900}{10^6}$ (ආදේශය සඳහා) (01)

$\lambda_m = 2.9 \times 10^{-3} \mu\text{m}$ (01)

(f) (i) $T = \frac{2\pi r}{v}$ (01)

$4 \times 365 \times 24 \times 60 \times 60 = \frac{2 \times 3 \times r}{8.0 \times 10^6}$ (ආදේශය සඳහා) (01)

$r = 1.68 \times 10^{14} \text{ m } (1.680 - 1.682) \times 10^{14} \text{ m}$ (01)

(ii) තාරකාවේ ස්කන්ධය m ලෙස ගනිමු

$$\frac{GM_B m}{r^2} = \frac{mv^2}{r} \dots\dots\dots (01)$$

$$M_B = \frac{v^2 r}{G} \dots\dots\dots (01)$$

$$M_B = \frac{(8.0 \times 10^6)^2 \times 1.68 \times 10^{14}}{6.0 \times 10^{-11}} \text{ (ආදේශය සඳහා)} \dots\dots\dots (01)$$

$$M_B = 1.8 \times 10^{38} \text{ kg} (1.79 - 1.80) \times 10^{38} \text{ kg} \dots\dots\dots (01)$$

(iii) $R_S = \frac{2GM}{c^2}$

$$R_S = \frac{2 \times 6.0 \times 10^{-11} \times 1.8 \times 10^{38}}{9 \times 10^{16}} \text{ (ආදේශය සඳහා)} \dots\dots\dots (01)$$

$$R_S = 2.4 \times 10^{11} \text{ m} (2.38 - 2.40) \times 10^{11} \text{ m} \dots\dots\dots (01)$$

(g) (i) ඔව් / දිගටම පරිභ්‍රමණය වේ. (01)

පෘථිවිය මත ක්‍රියා කරන ගුරුත්වාකර්ෂණ ක්ෂේත්‍රයේ / බලයේ වෙනසක් සිදු නොවේ හෝ සූර්යයා තව කුහරය අපගේ සූර්යයා මඟින් යෙදෙන ගුරුත්වාකර්ෂණ ඇදීමේ ලබා දේ.

Enu (01)

(ii) ඔව් / බලපෑම් ඇතිවේ. (01)

පෘථිවියට ආලෝකය / තාපය ලබා නොවේ. (01)

(iii) සූර්යයා සඳහා R_S අගය -

$$R_S = \frac{2 \times 6.0 \times 10^{-11} \times 1.8 \times 10^{30}}{9 \times 10^{16}} \text{ (ආදේශය සඳහා)} \dots\dots\dots (01)$$

$$R_S = 2.4 \times 10^3 \text{ m} (2.4 \text{ km})$$

9. (A) කොටසට හෝ (B) කොටසට හෝ පමණක් පිළිතුරු සඳහන් කරන්න.

(A) කොටස

(a) පැය 1ක් තුළ කෝෂයකින් ලබාදිය හැකි උපරිම නියත ධාරාව කෝෂයේ ධාරිතාව (capacity) ලෙස අර්ථ දැක්වෙන අතර එහි ඒකකය ඇම්පියර-පැය (Ah) මගින් දෙනු ලබයි. ධාරිතාව 6 Ah සහ විද්‍යුත්ගාමක බලය 5.0 V බැගින් වූ සර්වසම කෝෂ දෙකක් බැටරියක් සෑදීමට සම්බන්ධ කර ඇත.

- (i) කෝෂ දෙක ශ්‍රේණිගතව සම්බන්ධ කර ඇත්නම්, සහ
- (ii) කෝෂ දෙක සමාන්තරගතව සම්බන්ධ කර ඇත්නම්,

බැටරියේ ධාරිතාවය (Ah වලින්) සහ විද්‍යුත්ගාමක බලය (V වලින්) ගණනය කරන්න.

(b) විද්‍යුත් මෝටර් රථ බැටරියක් සෑදීම සඳහා එක එකෙහි විද්‍යුත්ගාමක බලය 4.0 V වන සර්වසම කෝෂ 192ක් යොදාගෙන ඇත. කෝෂ අටක් (1) රූපයේ පෙන්වා ඇති පරිදි බැටරි මොඩියුලයක් සාදා ගැනීමට සම්බන්ධ කර ඇත. එවැනි මොඩියුල 24ක් ශ්‍රේණිගතව සම්බන්ධ කර 24 kWh විද්‍යුත් මෝටර් රථ බැටරිය සාදනු ලබයි.



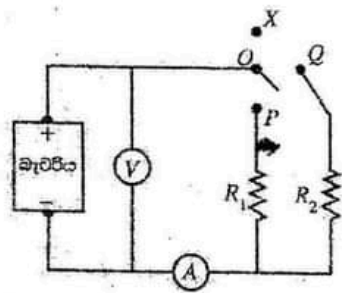
(i) එක් බැටරි මොඩියුලයක විද්‍යුත්ගාමක බලය (V වලින්), සහ ධාරිතාවය (Ah වලින්) ගණනය කරන්න. (1 kWh = 10³ V Ah ලෙස ඔබට ගත හැක.)

(ii) 24 kWh වූ විද්‍යුත් මෝටර් රථ බැටරියේ ධාරිතාවය (Ah වලින්) සහ විද්‍යුත්ගාමක බලය (V වලින්) ගණනය කරන්න.

(c) තිරස් මාර්ගයක 36 km h⁻¹ නියත වේගයකින් ගමන් කරන ඉහත විද්‍යුත් මෝටර් රථය එහි චලිතයට එරෙහිව 480 N සම්පූර්ණ ප්‍රතිරෝධක බලයක් අත්විඳියි. මෝටර් රථයේ වායු සම්කරණයේ (A/C) ක්ෂමතා පරිභෝජනය 1.2 kW වේ. පහත අවස්ථා සඳහා බැටරියේ ගබඩා වී ඇති සම්පූර්ණ ශක්තියෙන් (kWh වලින්) 50% පමණක් පරිභෝජනය කරමින් මෝටර් රථයට මෙන් කළ හැකි උපරිම දුර ගණනය කරන්න.

- (i) සම්පූර්ණ ගමන සඳහා වායුසම්කරණය (A/C) ක්‍රියාත්මක කර ඇති විට. (සම්පූර්ණ ගමන සඳහා වායුසම්කරණයේ ක්ෂමතා පරිභෝජනය නියත ගැසී උපකල්පනය කරන්න.)
- (ii) සම්පූර්ණ ගමන සඳහා වායුසම්කරණය (A/C) ක්‍රියාත්මක නොමැති විට.

(d) ඉහත මෝටර් රථයේ අභ්‍යන්තරය උණුසුම් කිරීම සඳහා භාවිත කරන විද්‍යුත් පරිපථයක් (2) රූපයේ දැක්වේ. ඕනෑම කාලයකදී වාහනයේ අභ්‍යන්තරය උණුසුම් කිරීමට අවශ්‍ය වූ විට, රිසිදුරුව ස්විච්චයක් යොදා ගනිමින් R₁ හෝ R₂ (R₁ < R₂) ප්‍රතිරෝධක හරහා ධාරාවක් ගමන් කිරීමට පැලෑටිය හැකිය. R₁ සහ R₂ ප්‍රතිරෝධක හරහා ගමන් කරන ධාරාව නාපය ආකාරයෙන් උත්සර්ජනය වී අභ්‍යන්තරය උණුසුම් කරයි. එමනිසා ප්‍රතිරෝධක තාපක ලෙස ක්‍රියා කරයි. කාලයක් සමග බැටරියේ අභ්‍යන්තර ප්‍රතිරෝධයක් යොදාගැනෙන්නේ යැයි සලකන්න. අභ්‍යන්තර ප්‍රතිරෝධය 10 Ω වන ඇම්පියරයක් සහ පරිපූර්ණ වෝල්ටීයමීටරයක් පරිපථය පරීක්ෂා කිරීම සඳහා සම්බන්ධ කොට ඇත.



- (i) OP හෝ OQ සම්බන්ධ කිරීමෙන් රිසිදුරුව පරිපථය සම්පූර්ණ කළ හැක. අඩු සහ ඉහළ ක්ෂමතා උත්සර්ජනයක් ලබා ගැනීම සඳහා පුදුළු සම්බන්ධතා හඳුනා ගෙන ඒවා ලියා දක්වන්න. උදාහරණයක් ලෙස, OX සම්බන්ධතාවය සෑදීම මගින් තාපක හරහා ධාරාව ගලා නොයන අතර පරිපථයෙන් R₁ සහ R₂ ඉවත් කරයි.
- (ii) තාපක ක්‍රියාත්මක නොවී ඇති විට වෝල්ටීයමීටර කියවීම 255 V වේ. පරිපථය R₁ ට සම්බන්ධ කළ විට වෝල්ටීයමීටර කියවීම 250 V දක්වා පහත වැටෙන අතර ඇම්පියරය 5.0 A කියවයි. බැටරියේ විද්‍යුත්ගාමක බලය, බැටරියේ අභ්‍යන්තර ප්‍රතිරෝධය සහ R₁ ප්‍රතිරෝධකයේ ප්‍රතිරෝධයෙහි අගය ගණනය කරන්න.
- (iii) ඉහත (d) (ii) හි සඳහන් ක්ෂමතා විධියේ ක්‍රියාත්මක වන විට තාපකයේ ක්ෂමතා උත්සර්ජනය ගණනය කරන්න.

(a) (i) ශ්‍රේණිගත සැකැස්මේදී ධාරාව වෙනස් නොවේ.

එමනිසා, ධාරිතාව = 6 Ah (01)

වි.ගා.බ එකතු වේ. (01)

එමනිසා, වි.ගා බලය = 5.0 + 5.0
= 10.0 V(01)

(ii) සමාන්තරගත සැකැස්මේදී ධාරා එකතු වේ. (01)

එමනිසා, ධාරිතාව = 6 + 6
= 12 Ah (01)

වි.ගා. බලය වෙනස් නොවේ.

එමනිසා, වි.ගා. බලය = 5.0 V (01)

(b) (i) වි.ගා.බලය = 4.0 × 4

= 16.0 V (01)

මුළු බැටරියේ (මොඩියුල 24 ශ්‍රේණිගත) ගබඩා වී ඇති ශක්තිය = 24 kWh

එක් මොඩියුලයක ගබඩා වී ඇති ශක්තිය = 24 / 24 (01)

= 1 kWh 1 kWh = 10³ Ah

මොඩියුලයක ධාරිතාව = 1000 / 16
= 62.5 Ah (01)

(ii) මුළු බැටරියේ ධාරිතාව = එක් මොඩියුලයක ධාරිතාව

= 62.5 Ah (01)

මුළු බැටරියේ වි.ගා. බලය = 24000 / 62.5

= 384 V **Enu**(01)

{ විකල්ප ක්‍රමය:

[මුළු බැටරියේ වි.ගා.බලය = 16 × 24
= 384 V (01)]

(c) (i) භාවිත කළ හැකි ශක්තිය = 24 × 50% (50% ගුණ කිරීම සඳහා) (01)

= 12 kWh

මෝටර් රථයේ වේගය = 36 km/h = 10 m/s (km h⁻¹ , m s⁻¹ ට හැරවීම සඳහා)(01)

පැය 1 තුළදී මුළු ක්ෂමතා පරිභෝජනය = 10 × 480 + 1200 (එකතු කිරීම සඳහා)..... (01)

= 6 kW

ගමන් කල මුළු කාලය = 12 / 6 (බෙදීම සඳහා) (01)

= 2 hr

පරාසය = 36 × 2

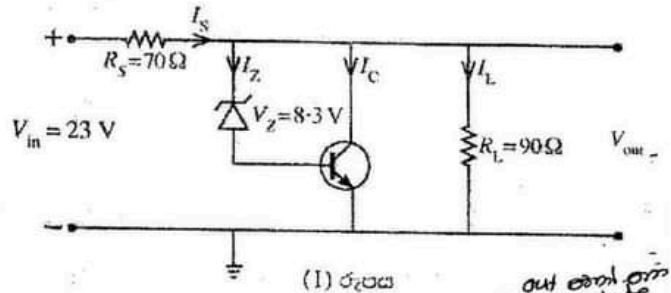
= 72 km (හෝ 72000 m)..... (01)

(B) කොටස

(a) පහත (1) රූපයේ දැක්වෙන පරිපථය සන්නර් දියෝඩයක් සහ ප්‍රාන්සිස්ටර සැකැස්මක් භාවිත කරමින් විචල්‍ය V_{in} ප්‍රදාන වෝල්ටීයතාවයකින් සුදුසු V_{out} ප්‍රතිදාන වෝල්ටීයතාවයක් ලබා ගනී. අවම ධාරාව 10 mA වූ සන්නර් දියෝඩයක් සහ සිලිකන් ප්‍රාන්සිස්ටරයක් පරිපථයේ භාවිත කර ඇත. ප්‍රතිරෝධය $R_S = 70 \Omega$, භාර ප්‍රතිරෝධය $R_L = 90 \Omega$ සහ සන්නර් වෝල්ටීයතාව $V_Z = 8.3 \text{ V}$ ලෙස සලකමු. $V_{in} = 23 \text{ V}$ ලෙස සලකන්න.

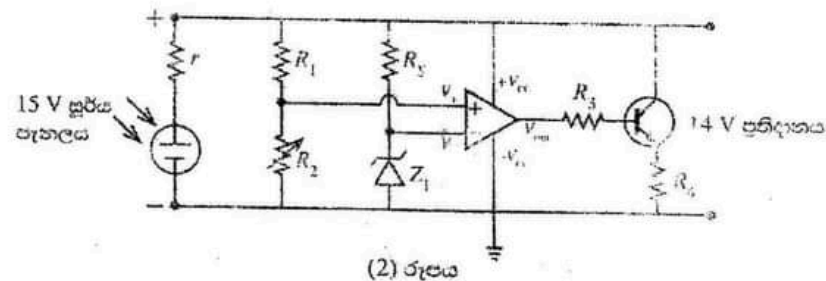
පහත දෑ ගණනය කරන්න.

- (i) V_{out} ($V_{BE} = 0.7 \text{ V}$ ලෙස ගන්න.)
- (ii) I_L ධාරාව
- (iii) I_S ධාරාව සහ
- (iv) අවම සන්නර් ධාරාවට අනුරූප වන I_C



- (b) ඉහත (1) රූපයේ පරිපථයට නියත V_{out} අගයක් පවත්වා ගැනීමට ප්‍රදාන වෝල්ටීයතා විචලනයක් යාමනය කළ හැක.
- (i) $V_{in} = 23 \text{ V}$ සහ 30 V විට R_S ප්‍රතිරෝධය හරහා උත්සර්ජනය වන ක්ෂේත්‍රය ගණනය කරන්න.
 - (ii) ඉහත (b) (i) සඳහා එවැනි ගණනයක් භාවිත කරමින්, පරිපථය ප්‍රදාන වෝල්ටීයතාවයේ වෙනසක් යාමනය කරන ආකාරය කෙටියෙන් පැහැදිලි කරන්න.
- (c) ඉහත (1) රූපයේ පරිපථයට ප්‍රතිදාන භාර-ප්‍රතිරෝධයේ වැඩිවීමක් නිසා සිදුවන ප්‍රතිදාන V_{out} වෝල්ටීයතා විචලනයක් යාමනය කළ හැක.
- (i) භාර-ප්‍රතිරෝධය වැඩි වුවහොත්, සන්නර් ධාරාව I_Z සහ I_C වලට කුමක් සිදු වේ ද? එවැනි පිළිතුර පැහැදිලි කරන්න.
 - (ii) භාර-ප්‍රතිරෝධය වැඩි වන විට සන්නර් දියෝඩය සහ ප්‍රාන්සිස්ටර සංයෝජනය මගින් ප්‍රතිදාන වෝල්ටීයතාවය යාමනය කරන්නේ කෙසේදැයි කෙටියෙන් පැහැදිලි කරන්න.

(d) පහත (2) රූපයෙහි පෙන්වා ඇති පරිපථය 15 V සූර්ය පාතලය කළ හැකි ගුණාත්මක ප්‍රතිරෝධයක් (r) සහිත සූර්ය පාතලයක් මගින් බැටරියක් ආරෝපණය කිරීමට භාවිත කරයි. පරිපථයේ ප්‍රතිදාන වෝල්ටීයතාවය 14 V නොගතවිය යුතුය.



- (i) දී ඇති වරණ (අපවර්තන වර්ධකයක්, අපවර්තන නොවන වර්ධකයක්, සංකෝදකයක්) අතරින් ඉහත පරිපථයේ කාරකාත්මක වර්ධකයේ ක්‍රියාත්මක විය යුතු ලියා දක්වන්න.
- (ii) දීප්තිමත් නිරූ ඵලය යටතේ, ප්‍රතිදාන වෝල්ටීයතාවය 14 V නිපදවන පරිදි R_2 සකසනු ලැබේ. $R_1 = 9 \text{ k}\Omega$ සහ $R_2 = 5 \text{ k}\Omega$ වන විට කාරකාත්මක වර්ධකයේ ප්‍රතිදානය බන ලෙස සංකෝජන වීම සඳහා Z_1 සන්නර් දියෝඩයට නිශ්චය යුතු වඩාත් සුදුසු උපරිම වෝල්ටීයතාවය V_Z ගණනය කරන්න.
- (iii) අපවර්තන නොවන ප්‍රදානයේ සහ අපවර්තන ප්‍රදානයේ වෝල්ටීයතා අතර $100 \mu\text{V}$ වෙනසකට කාරකාත්මක වර්ධකයේ ප්‍රතිදානය සංකෝජන වේ නම් පරිපථයේ ප්‍රතිදාන වෝල්ටීයතාවය 14 V විට කාරකාත්මක වර්ධකයේ විවෘත පුඩු වෝල්ටීයතා ලාභය ගණනය කරන්න. කාරකාත්මක වර්ධකයෙහි ප්‍රතිදාන සංකෝජන වෝල්ටීයතාවය සැපයුම් වෝල්ටීයතාවයට වඩා 2 V කින් අඩු බව උපකල්පනය කරන්න.
- (iv) මඳ නිරූ ඵලය යටතේ සූර්ය පාතලය 14 V ට වඩා අඩු වෝල්ටීයතාවක් ජනනය කරන විට මෙම පරිපථයේ කාරකාත්මක වර්ධකය සහ ප්‍රාන්සිස්ටරයේ ක්‍රියාකාරිත්වය කෙටියෙන් පැහැදිලි කරන්න.

(a)(i) $V_{out} = V_z + V_{BE}$ (01)

$= 8.3 + 0.7$ (එකතුව සඳහා) (01)

$V_{out} = 9\text{ V}$ \rightarrow කෙලින්ම ලැබූ 3 දෝන (01)

(ii) $I_L = V_{out} / R_L$ (01)

$I_L = 9 / 90$ (බෙදීම සඳහා) (01)

$I_L = 0.1\text{ A}$ (01)

(iii) $I_S = (V_{in} - V_{out}) / R_s$ (01)

$I_S = (23 - 9) / 70$ (බෙදීම සඳහා) (01)

$I_S = 0.2\text{ A}$ (01)

(iv) $I_S = I_Z + I_C + I_L$ (01)

$I_C = I_S - I_L - I_Z$

$I_C = 0.2 - 0.1 - 0.01$ (අන්තර් ගැනීම සඳහා) (01)

$I_C = 0.09\text{ A}$ (01)

(b) (i) $P = V^2 / R$ (හෝ $I^2 R$)
 $P = 2.8\text{ W}$ $(23 - 9)^2 / 70$ (01)

$P = 6.3\text{ W}$ $(30 - 9)^2 / 70$ (01)

(ii) සෙන්ට් දියෝඩය සහ ට්‍රාන්සිස්ටරය හරහා ප්‍රතිදාන වෝල්ටීයතාවය නියතයකි. ... (01)

ප්‍රදාන වෝල්ටීයතාවය වෙනස් වන විට, අමතර ක්ෂමතාව R_s ප්‍රතිරෝධය හරහා උත්සර්ජනය (තාපය ලෙසින්) වේ. **Enu** (01)

(c) (i) $I_S = I_Z + I_C + I_L$

හාර ප්‍රතිරෝධය වැඩි වන විට හාර ධාරාව අඩුවේ.

එමනිසා, I_Z වැඩි විය යුතුය. (01)

I_Z හි වැඩි වීම නිසා අමතර ධාරාවක් ට්‍රාන්සිස්ටරය හරහා ගලා යෑමට සලස්වයි.

එමනිසා, I_C වැඩිවේ. (01)

(ii) සෙන්ට් දියෝඩය සහ ට්‍රාන්සිස්ටරය හරහා ප්‍රතිදාන වෝල්ටීයතාවය නියතයකි.

හාර ප්‍රතිරෝධය වැඩි වන විට I_S නියතව තබා ගනිමින් ට්‍රාන්සිස්ටරය හරහා ගලන ධාරාව වැඩිවීමට සලස්වමින් I_Z වැඩිවේ.

නියත ප්‍රතිදාන වෝල්ටීයතාවයක් ලබා දීම සඳහා අමතර ක්ෂමතාව ට්‍රාන්සිස්ටරය හරහා උත්සර්ජනය වේ. (01)

(d)

(i) සංසන්දකයක් ලෙස (02)

(ii) $V_+ = V_{max} \times [R_2 / (R_1 + R_2)]$
 $= 14 \times 5 / (5 + 9)$ (ආදේශය සඳහා) (01)
 $V_z = 5 \text{ V}$ (01)

(iii) $A = V_{out} / (V_+ - V_-)$ (01)
 $A = (14 - 2) / (100 \times 10^{-6})$ (01)
 $A = 120,000$ (01)

(iv) මඳ හිරු එළිය යටතේ කාරකාත්මක වර්ධකයේ ධන අග්‍රයේ වෝල්ටීයතාව 5 V ව වඩා අඩුවේ. (01)
 මෙය කාරකාත්මක වර්ධකයේ ප්‍රතිදානය ශුන්‍යය (0 V) කරා යෑමට සලස්වයි. ... (01)
 මෙය ට්‍රාන්සිස්ටරය කපා හරින විධියට (ට්‍රාන්සිස්ටරය ක්‍රියාත්මක නොවේ) පත් වීමට සලස්වයි *Enu* (01)
 එමනිසා, සූර්ය පැනලය හරහා ජනිත වන වෝල්ටීයතාවය බැටරිය හරහා පවතින වෝල්ටීයතාවයට සමාන වේ. (01)

10. (A) කොටසට හෝ (B) කොටසට හෝ පමණක් පිළිතුරු සපයන්න.

(A) කොටස

- (a) භාවිත කරන සංකේත පැහැදිලිව නඳුන්වමින් උච්ඡාය පරිමා ප්‍රසාරණතාව (γ) සඳහා ප්‍රකාශනයක් ලියා දක්වන්න.
- (b) එක්තරා දිනක ක්‍රිස්ටල්ලයේ ඇති ඉන්ධන පිරවුම්ගලක වැංකියේ පවතින පෙට්‍රල්වල උෂ්ණත්වය උදාසනදී 7°C වන අතර පස්වරුවේදී උෂ්ණත්වය 27°C වේ. පෙට්‍රල්වල මධ්‍යන්‍ය පරිමා ප්‍රසාරණතාවය $9.6 \times 10^{-4} \text{ }^\circ\text{C}^{-1}$ වන අතර, 7°C දී පෙට්‍රල්වල ඝනත්වය 730 kg m^{-3} වේ. පිරවුම්ගලෙන් පෙට්‍රල් ලීටර 20 ක් මෝටර් රථයකට පිරවීමට නියමිතය.
 - (i) 7°C දී පෙට්‍රල් ලීටර 20 ක ස්කන්ධය කොපමණ ද? ($1 \text{ m}^3 = 1000 \text{ ලීටර}$)
 - (ii) 7°C දී පෙට්‍රල් 1 m^3 ක උෂ්ණත්වය 27°C දක්වා වැඩි වූයේ නම්, එහි නව පරිමාව ගණනය කරන්න. (ඔබගේ පිළිතුර m^3 වලින් දශම ස්ථාන තුනකට වටයන්න.)
 - (iii) 27°C දී පෙට්‍රල්වල ඝනත්වය කොපමණ ද? [$\frac{7.3}{1.019} = 7.164$ ලෙස ගන්න. ඔබගේ පිළිතුර kg m^{-3} වලින් සායනික පූර්ණ සංඛ්‍යාවට දෙන්න.]
 - (iv) 27°C දී පෙට්‍රල් ලීටර 20 ක ස්කන්ධය ගණනය කරන්න.
 - (v) ඉන්ධන පිරවුම්ගලෙන් 7°C දී පෙට්‍රල් ලීටර 20 පිරවුවහොත් 27°C දී ට වඩා අමතර පෙට්‍රල් කීලෝග්‍රෑම් කොපමණ ප්‍රමාණයක් මෝටර් රථයට ලැබේද?
- (c) පෙට්‍රල් බවුසරයක වැංකිය ලෝහයකින් සාදා ඇති අතර වැංකියේ අභ්‍යන්තර පරිමාව 7°C දී ලීටර 25 000 වේ. උණුසුම් දිනකදී පෙට්‍රල් සහ වැංකියේ උෂ්ණත්වය 27°C වූ අතර ප්‍රසාරණය නිසා වැංකිය සම්පූර්ණයෙන්ම පෙට්‍රල්වලින් පිරුණි. පෙට්‍රල්වල මධ්‍යන්‍ය පරිමා ප්‍රසාරණතාව $9.6 \times 10^{-4} \text{ }^\circ\text{C}^{-1}$ වන අතර ලෝහයෙහි රේඛීය ප්‍රසාරණතාව $2.4 \times 10^{-5} \text{ }^\circ\text{C}^{-1}$ වේ.
 - පහත (c) (i), (c) (iii) සහ (c) (iv) සඳහා ඔබගේ පිළිතුරු විද්‍යාත්මක අංකනයෙන් දශම ස්ථාන දෙකකට වටයන්න. ප්‍රශ්න අංක 5 ට පෙර දී ඇති සටහන බලන්න.
 - (i) වැංකිය තුළ ඇති පෙට්‍රල්වල දෘශ්‍ය පරිමා ප්‍රසාරණතාව ගණනය කරන්න.
 - (ii) එකමින් 7°C දී පෙට්‍රල්වල පරිමාව (ලීටර් වලින්) ගණනය කරන්න. [$\frac{1}{1+1.776 \times 10^{-4}} = 0.98$ ලෙස ගන්න.]
 - (iii) උෂ්ණත්වය 7°C සිට 27°C දක්වා ඉහළ නැංවීම සඳහා පරිසරයෙන් කොපමණ තාපයක් වැංකිය සහ පෙට්‍රල් අවශෝෂණය කර ඇත් ද? ලෝහයේ සහ පෙට්‍රල්වල විශිෂ්ට තාප ධාරිතා පිළිවෙලින් $5.0 \times 10^3 \text{ J kg}^{-1} \text{ K}^{-1}$ සහ $2.2 \times 10^3 \text{ J kg}^{-1} \text{ K}^{-1}$ වේ. තිස් වැංකියේ ලෝහයේ සකන්ධය $2.0 \times 10^3 \text{ kg}$ වේ.
 - (iv) 7°C දී වැංකිය පෙට්‍රල්වලින් හරි අඩක් පුරවා ඉතිරි කොටස $1.0 \times 10^5 \text{ Pa}$ වායුගෝලීය පීඩනයේ ඇති වාතය සමගින් මුදා හරින ලෝහයේ පීඩනය, 27°C දී වැංකිය තුළ මුළු පීඩනය නිර්ණය කරන්න. 27°C දී පෙට්‍රල්වල සංතෘප්ත වාෂ්ප පීඩනය $7.4 \times 10^4 \text{ Pa}$ වේ. මෙම ගණනය සඳහා ලෝහයේ සහ පෙට්‍රල්වල පරිමා ප්‍රසාරණය නොසලකා හරින්න.
 - (v) ඉහත (c) (iv) අවස්ථාවේ 27°C දී බවුසරය තුළ පවතින පෙට්‍රල් වාෂ්ප මට්ටම ගණන කොපමණ ද? සාර්වත්‍ර වායු නියමය $R = 8.3 \text{ J mol}^{-1} \text{ K}^{-1}$. පෙට්‍රල් වාෂ්ප පරිපූර්ණ වායුවක් සේ හැසිරෙන බව උපකල්පනය කරන්න.

(a) $\gamma = \frac{V_2 - V_1}{V_1(\theta_2 - \theta_1)}$ (01)

V_1 යනු θ_1 උෂ්ණත්වයේදී පරිමාව වන අතර, V_2 යනු θ_2 උෂ්ණත්වයේදී පරිමාව වේ. (01)

(b) (i) පෙට්‍රල් ලීටර 20 ක ස්කන්ධය = $20 \times 10^{-3} \times 730$ (01)
 = 14.6 kg (01)

(ii) $V_{27} = V_7[1 + \gamma(27 - 7)]$ (01)

$V_{27} = 1[1 + 9.6 \times 10^{-4} \times 20]$ (01)

$V_{27} = 1.019 \text{ m}^3$ (01)

(iii) 27 °C දී පෙට්‍රල්වල ස්කන්ධය = $\frac{1 \times 730}{1.019}$ (ආදේශය සඳහා)Enu..... (01)

[විකල්ප ක්‍රමය: $\rho_{27} = \frac{\rho_7}{1 + \gamma(27 - 7)}$ (01)}
 $= \frac{730}{1 + 9.6 \times 10^{-4} \times 20}$ (01)
 $= 716 \text{ kg m}^{-3}$ (01)

(iv) 27 °C දී පෙට්‍රල් 20 l ක ස්කන්ධය = $716 \times 20 \times 10^{-3}$ (ආදේශය සඳහා) (01)

= 14.3 kg (14.32 kg) (01)

(v) අමතර ස්කන්ධය = 14.6 - 14.3 (14.32) (ආදේශය සඳහා) (01)

= 0.3 kg (යෝ 0.28 kg) (01)

(c) (i) $\gamma_r = \gamma_a + 3\alpha$ (01)

දෘශ්‍ය පරිමා ප්‍රසාරණතාවය = $9.60 \times 10^{-4} - 3 \times 2.4 \times 10^{-5}$ (01)

(ආදේශය සඳහා)
 = $8.88 \times 10^{-4} \text{ } ^\circ\text{C}^{-1}$ (01)

(ii) $V_{27} = V_7[1 + 8.88 \times 10^{-4} \times (27 - 7)]$ (01)

$25,000 = V_7[1 + 1.776 \times 10^{-2}]$
 $V_7 = \frac{25,000}{1 + 1.776 \times 10^{-2}}$ (01)

$V_7 = 24,500$ ලීටර (01)

(iii) $Q = mc\Delta\theta$ (01)

$Q = (mc\Delta\theta)_{\text{පෙට්‍රල්}} + (m'c'\Delta\theta)_{\text{ලෝහ}}$

$Q = 24.5 \times 730 \times 2.2 \times 10^3 \times (27 - 7) + 2 \times 10^3 \times 5 \times 10^2 \times (27 - 7)$ (02)

$= 8.07 \times 10^8 \text{ J} \quad (8.00 - 8.07) \times 10^8 \text{ J}$ (01)
 (එක් එක් ආදේශය සඳහා ලකුණු 01 බැගින්)

(iv) 27°C දී වාතයේ පීඩනය $P_{27\text{air}}$ නම්

$\frac{1.0 \times 10^5}{273+7} = \frac{P_{27\text{air}}}{273+27}$ (01)

$P_{27\text{air}} = 1.07 \times 10^5 \text{ Pa}$

මුළු පීඩනය = $P_{27 \text{ වාෂ්ප}} + P_{27 \text{ වාතය}}$ (01)

$= 7.47 \times 10^4 + 1.07 \times 10^5$ (එකතු කිරීම සඳහා) **Enu...** (01)

$P_{27 \text{ මුළු}} = 1.82 \times 10^5 \text{ Pa} \quad (1.81 - 1.82) \times 10^5$ (01)

(v) පෙට්‍රල් වාෂ්ප සඳහා $PV = nRT$ යෙදීමෙන් (01)

$n_{\text{වාෂ්ප}} = \frac{7.47 \times 10^4 \times 12.5}{8.3 \times (273+27)}$ (ආදේශය සඳහා) (01)

$n_{\text{වාෂ්ප}} = 375 \text{ මවුල}$ (01)

(B) කොටස

මාත්‍රාමානයක් (Dosimeter) යනු අයනීකරණ විකිරණ නිරාවරණය (exposure) මැනීමට භාවිත කරන උපකරණයකි. එය මිනිස් සිරුර නිරාවරණය වන විකිරණ ප්‍රමාණය මැනීමට භාවිත කළ හැකි අතර ආරක්ෂාව සඳහා එය අත්‍යවශ්‍ය වියවරකි. සක්‍රීය (active) සහ අක්‍රීය (passive) මාත්‍රාමාන ලෙස මාත්‍රාමාන වර්ග දෙකක් ඇත. සක්‍රීය මාත්‍රාමානයක් මගින් එම අවස්ථාවේදීම නිරාවරණය ලබා ගත හැක. අක්‍රීය මාත්‍රාමානයක් මගින් යම් නිශ්චිත කාලයක් තුළ පුද්ගලයකු අවශෝෂණය කරන විකිරණ ප්‍රමාණය මනිනු ලැබේ. වඩාත් බහුලව භාවිත වන අක්‍රීය මාත්‍රාමානය වන්නේ තාපප්‍රතිදීප්ත මාත්‍රාමානයයි. (Thermoluminescent dosimeter, TLD)

තාපප්‍රතිදීප්ත ස්ඵටිකයක් අයනීකරණ විකිරණවලට නිරාවරණය වූ විට, එම විකිරණ ශක්තිය අවශෝෂණය කර එහි ස්ඵටික දැලිසෙහි රඳවා ගනියි. ස්ඵටිකය රත් කළ විට, එහි රඳවාගත් ශක්තිය දෘශ්‍ය ආලෝකය ලෙස මුදා හරියි. එම ආලෝකයේ තීව්‍රතාවය ස්ඵටිකය නිරාවරණය වූ අයනීකරණ විකිරණවල තීව්‍රතාවයට සමානුපාතික වේ. විමෝචනය වන ආලෝකය ප්‍රකාශ සංවේදී පෘෂ්ඨයක් මත පහතය වීමට ඉඩ දී එමගින් කුඩා ධාරාවක් නිපදවයි. අවසානයේ මෙම ධාරාව වර්ධනය කර මැන ගනු ලැබේ.

ගයිගර්-මුලර් ගණකයක් (Geiger-Müller counter) භාවිත කොට අයනීකරණ විකිරණ අනාවරණය කර ගත හැක. විවිධ ද්‍රව්‍යවලින් සාදන ලද වෙනස් සන්නම් සහිත අවශෝෂක තහඩු (absorber plates) භාවිත කොට GM ගණකයක් මත පතිත වන විකිරණ වර්ගය නිර්ණය කළ හැක.

- (a) චානය අයනීකරණය කිරීමට හැකි විකිරණ වර්ග තුනක් ලියන්න.
- (b) අක්‍රීය මාත්‍රාමානයකට වඩා සක්‍රීය මාත්‍රාමානයක ඇති වාසියක් ලියන්න.
- (c) අර්ධ ආයු කාලය පැය 1 ක් වන විකිරණශීලී ද්‍රව්‍යයක සක්‍රීයතාවය ගයිගර්-මුලර් ගණකයක් මගින් මනිනු ලබයි. ආරම්භක ගිණිම් ශීඝ්‍රතාවය තත්පරයට ගිණිම් 64 නම් පැය තුනකට පසු ගිණිම් ශීඝ්‍රතාවය ගණනය කරන්න.
- (d) විවිධ අවශෝෂක තහඩු භාවිතයෙන් ගයිගර්-මුලර් ගණකයක් මත පහතය වන අයනීකරණ විකිරණ වර්ගය නිර්ණය කළ හැක්කේ කෙසේ ද?
- (e) TLD මාත්‍රාමානයක් මගින් 198 nW තීව්‍රතාවයකින් යුත් තරංග ආයාමය 400 nm නිල් ආලෝකය නිකුත් කරයි. මෙම විමෝචනය වන ආලෝකය 2.0 eV කාර්ය ශ්‍රිතයක් සහිත සීසියම් වලින් සාදන ලද ප්‍රකාශ පෘෂ්ඨයකට ලම්බව පතිත වේ යැයි උපකල්පනය කරන්න. (ජලෝත්ත නියතය = 6.6×10^{-34} Js, ආලෝකයේ වේගය = 3.0×10^8 ms⁻¹, ඉලෙක්ට්‍රෝනයේ ආරෝපණය = 1.6×10^{-19} C, 1 eV = 1.6×10^{-19} J).
 - (i) තත්පරයකට ප්‍රකාශ පෘෂ්ඨය මත පතිත වන නිල් ආලෝකයේ පෝටෙන්ත සංඛ්‍යාව නිර්ණය කරන්න.
 - (ii) ප්‍රකාශ සංවේදී පෘෂ්ඨය මත පහතය වන එක් එක් පෝටෙන්ත 100 ක් මගින් ඉලෙක්ට්‍රෝන 10 ක් පිට කළහොත් ප්‍රකාශ සංවේදී පෘෂ්ඨය මගින් නිපදවන ධාරාව නිර්ණය කරන්න.
 - (iii) ප්‍රකාශ සංවේදී පෘෂ්ඨයෙන් පිට කරන ප්‍රකාශ ඉලෙක්ට්‍රෝනවල උපරිම වාලක ශක්තිය (J ඒලින්) ගණනය කරන්න.
- (f) CT පරිලෝකකයක් (CT scanner) මිනිස් සිරුරේ වටා විවිධ කෝණවලින් X-කිරණ පෙළක් ලබා ගනී. වෛද්‍ය පර්යේෂණාගාරයක ඇති CT පරිලෝකකයක් පර්යේෂණ කටයුත්තක් සඳහා පූර්ණකාලීනව ක්‍රියාත්මක වේ. CT පරිලෝකකය අසල තබා ඇති TLD මාත්‍රාමානයක් 250 mSv/year (mSv/වසරක්) විකිරණ මාත්‍රාවක් වාර්තා කර ඇත.
 - (i) CT පරිලෝකකයේ ක්‍රියාකරු කාමරයේ සිටින විකිරණ විද්‍යාඥයෙකුට CT පරිලෝකකය ක්‍රියාත්මක වන විට ලැබෙන විකිරණවලින් 10%කට නිරාවරණය විය හැක. විද්‍යාඥයා නිරාවරණය වීමට හැකි උපරිම මාත්‍රාව mSv/year වලින් ගණනය කරන්න.
 - (ii) විකිරණ කටයුතු වල නියැලෙන පුද්ගලයකු සඳහා අවසර දිය හැකි උපරිම වාර්ෂික මාත්‍රාව 20 mSv/year වේ. විද්‍යාඥයා දිනකට පැය 6 බැගින් වසරකට දින 146 ක් වැඩ කරන්නේ නම්, අවසර දිය හැකි උපරිම වාර්ෂික මාත්‍රාව ඉක්මවා ඔහුට නොලැබේත බව ඔප්පු කරන්න.
 - (iii) විද්‍යාඥයාගේ ස්කන්ධය 75 kg ක් නම් ඔහු වසරකට කොපමණ විකිරණ ශක්ති ප්‍රමාණයකට (J වලින්) නිරාවරණය වේ ද?

[X-කිරණ සඳහා, මාත්‍රාව Sv වලින් = මාත්‍රාව Gy වලින්; 1 Gy = 1 J kg⁻¹]

(a) ඇල්ෆා/ α , බීටා/ β සහ ගැමා/ γ විකිරණ, X කිරණ(02)

(ඉහත ඒවායින් ඕනෑම 03 ක්; නිවැරදි පිළිතුරු දෙකක් සඳහා ලකුණු 01)

(b) සක්‍රීය මාත්‍රාමානයක් මගින් (එම අවස්ථාවේදීම) නිරාවරණ අගය ලබා ගත හැක.

හෝ

සක්‍රීය මාත්‍රාමාන (එම අවස්ථාවේදීම) විකිරණ මට්ටම මනියි (02)

(c)

$$\frac{A}{A_0} = \frac{1}{2^n} \dots\dots\dots (02)$$

$$\frac{A}{64} = \frac{1}{2^3} \dots\dots\dots (01)$$

$$A = 8 \dots\dots\dots (01)$$

(නිවැරදි පිළිතුර සඳහා සම්පූර්ණ ලකුණු ප්‍රදානය කරන්න)

(d) විකිරණවල ඇති වෙනස් විනිවිද යෑමේ ගුණය / බලය නිසා

හෝ

විකිරණ වර්ගය අනුව අවශෝෂක තහඩු යෙදීම මගින් එම විකිරණ නැවැත්විය හැක / අවශෝෂණය වේ. (02)

(e)

(i). තත්පරයකදී පතනය වන පෝටෝන සංඛ්‍යාව n නම්,

$$\frac{n \times 6.6 \times 10^{-34} \times 3 \times 10^8}{400 \times 10^{-9}} = 198 \times 10^{-9} \dots\dots \text{Enu} \dots (02)$$

(වම් පැත්ත සඳහා ලකුණු 01, සමාන කිරීම සඳහා ලකුණු 01)

$$n = 4 \times 10^{11} \text{ තත්පරයකට පෝටෝන} \dots\dots\dots (02)$$

(ii). තත්පරයකදී විමෝචනය වන ඉලෙක්ට්‍රෝන සංඛ්‍යාව $= \frac{10}{100} \times 4 \times 10^{11} \dots\dots (01)$

(10% ගැනීම සඳහා)

$$= 4 \times 10^{10} \text{ තත්පරයකට ඉලෙක්ට්‍රෝන}$$

$$\text{නිපදවන ධාරාව } I = 4 \times 10^{10} \times 1.6 \times 10^{-19} \text{ (ආදේශය සඳහා)} \dots\dots\dots (01)$$

$$I = 6.4 \times 10^{-9} \text{ A} \dots\dots\dots (01)$$

(නිවැරදි පිළිතුර සඳහා සම්පූර්ණ ලකුණු ප්‍රදානය කරන්න)

(iii) $K_{\text{පරිම}} = hf - \phi$ හෝ $\left(\frac{hc}{\lambda} - \phi\right)$ යෙදීමෙන් (01)

$$K_{\text{පරිම}} = \frac{6.6 \times 10^{-34} \times 3 \times 10^8}{400 \times 10^{-9}} - 2.0 \times 1.6 \times 10^{-19} \quad \dots\dots\dots (02)$$

(පළමු පදයේ ආදේශය සඳහා ලකුණු 01, දෙවන පදයේ ආදේශය සඳහා ලකුණු 01)

$$= 1.75 \times 10^{-19} \text{ J} \quad \dots\dots\dots (01)$$

(f)

(i). උපරිම මාත්‍රාව = $250 \times \frac{10}{100}$ (10% ලබා ගැනීම සඳහා) (01)

$$= 25 \text{ mSv/year} \quad \dots\dots\dots (01)$$

(ii).

විකිරණ නිරාවරණය = $25 \times \frac{146}{365} \times \frac{6}{24}$ (03)

($\frac{146}{365}$ භාගය සඳහා ලකුණු 01, $\frac{6}{24}$ භාගය සඳහා ලකුණු 01, ගුණිතය සඳහා ලකුණු 01)

$$= 2.5 \text{ mSv/year} \quad \dots\dots\dots \text{Enu} \dots\dots (01)$$

මෙම අගය 20 mSv/year ට වඩා අඩු වේ. (01)

(iii).

විද්‍යාඥයා නිරාවරණය වන විකිරණ ශක්තිය

$$= 75 \times 2.5 \times 10^{-3} \quad (\text{ගුණිතය සඳහා}) \quad \dots\dots\dots (01)$$

$$= 0.1875 \text{ J} \quad (1.87 - 1.88) \times 10^{-1} \text{ J} \quad \dots\dots\dots (01)$$

